

**Wojewódzki Konkurs Przedmiotowy  
z Historii dla uczniów szkół podstawowych  
województwa kujawsko-pomorskiego**

**Etap rejonowy – data: 17. 01. 2024 r.**

**Instrukcja dla ucznia**

**Zanim przystąpisz do rozwiązywania testu, przeczytaj uważnie poniższą instrukcję.**

1. Wpisz w wyznaczonym miejscu na **TEŚCIE** swój kod ustalony przez Komisję Konkursową.  
**Nie wpisuj** swojego imienia i nazwiska.
2. Przed rozpoczęciem pracy sprawdź, czy twój test jest kompletny. Niniejszy test zawiera 19 zadań.
3. Maksymalna liczba punktów za prawidłowe rozwiązanie wszystkich zadań wynosi 100 punktów.
4. Przeczytaj uważnie i ze zrozumieniem polecenia i wskazówki do każdego zadania.
5. Przy każdym zadaniu zaznacz właściwe odpowiedzi.
6. Przy każdym zadaniu podano maksymalną liczbę punktów, którą można uzyskać.
7. Pracuj samodzielnie.
8. Nie wolno wносить telefonów komórkowych na Konkurs.
9. Całkowity czas na wykonanie testu wynosi **60** minut.

**KOD UCZNI**A - .....

**ZADANIE I (0 – 4 p.)** Poniżej znajduje się pięć zdań dotyczących rewolucji neolitycznej. Przeczytaj je uważnie, a następnie rozstrzygnij, czy zdanie jest prawdziwe czy fałszywe.


1. Rewolucja neolityczna – proces przechodzenia ludzkości od osiadłego do koczowniczego trybu życia.  
A. prawda,  
B. fałsz.
2. Rewolucja neolityczna rozpoczęła się ok. 10 tys. lat p.n.e. wraz ze zmianami klimatu związanymi z ustępowaniem lodowców.  
A. prawda,  
B. fałsz.
3. Rewolucja neolityczna rozpoczęła się na obszarze tzw. Żyznego Półksiężycy na Bliskim Wschodzie.  
A. prawda,  
B. fałsz.
4. Neolit to inaczej starsza epoka kamienia.  
A. prawda,  
B. fałsz.

**ZADANIE II (0 – 6 p.)** Uzupełnij tekst dotyczący form ustrojowych starożytnego Rzymu. Wybierz właściwe informacje z nawiasu.

Według legendy miasto Rzym powstało w (VII, VIII) wieku p.n.e. Do końca VI wieku p.n.e. władzę sprawowali (królowie, cesarze), ale ludzie niezadowoleni z ich rządów wypędzili ostatniego z nich – Tarkwiniusza Pysznego i wprowadzili ustrój republikański. W rządzeniu państwem ważną rolę odgrywało zgromadzenie ludu rzymskiego, które wybierało urzędników. Najważniejszym z nich był (cenzor, konsul), który dowodził armią. Ważną rolę odgrywali (trybuni ludowi, pretorzy), którzy bronili praw ludu i mieli prawo weta wobec decyzji urzędników. Organem decydującym o wewnętrznej i zagranicznej polityce państwa rzymskiego był (Senat, Sejm). W I wieku p.n.e. nastąpił upadek republiki i Rzym stał się (królestwem, cesarstwem).

**ZADANIE III (0 – 4 p.)** Na podstawie własnej wiedzy i ilustracji umieszczonej poniżej wybierz poprawne zakończenie zdań.

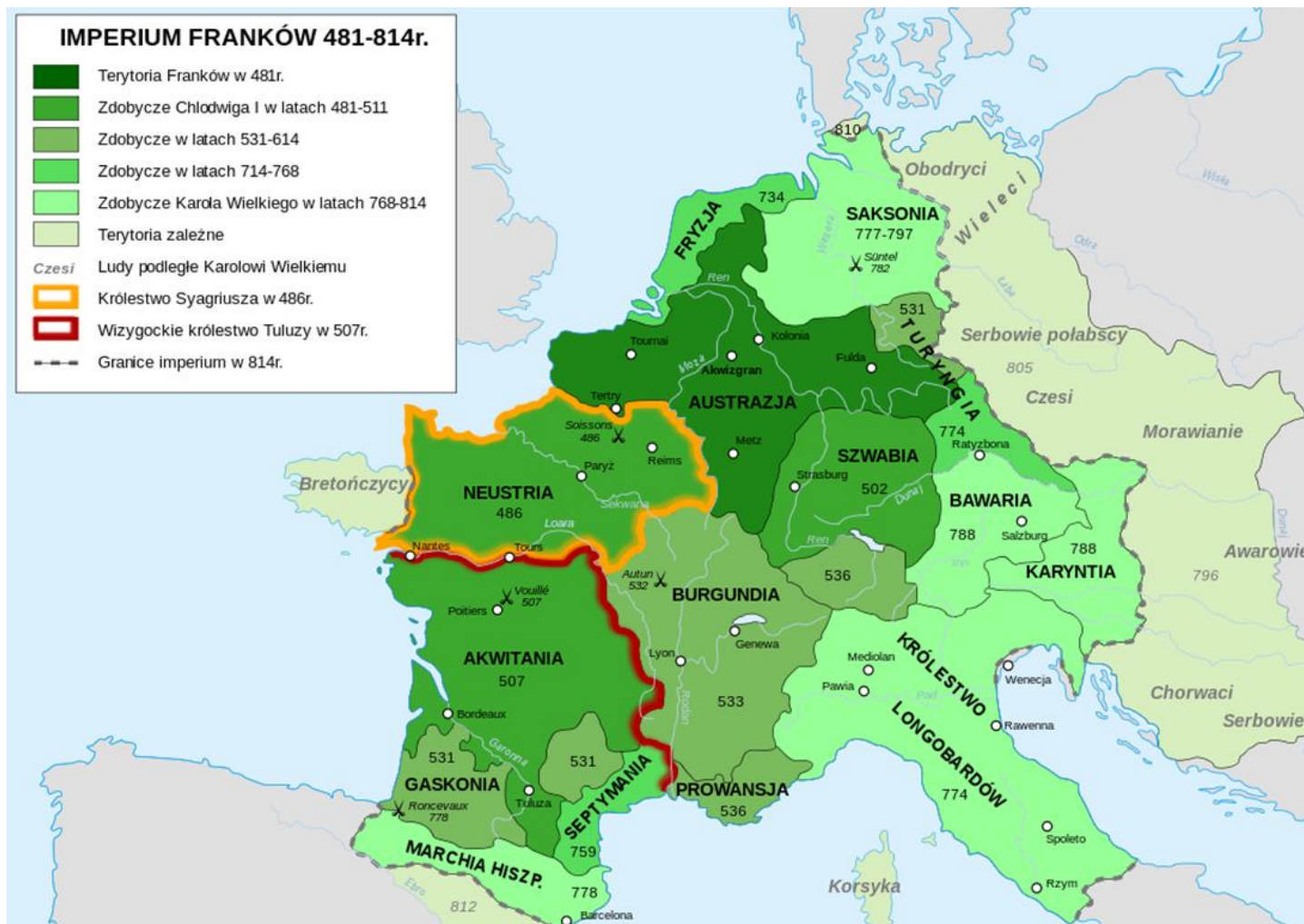
1. Ilustracja przedstawia:  
A. ikonę,  
B. mozaikę.
2. Pierwsze zaczęli tworzyć artyści w Cesarstwie:  
A. rzymskim,  
B. bizantyjskim.
3. Artyści tworzyli je poprzez:  
A. nakładanie farby na odpowiednio przygotowanych deskach,  
B. układanie małych kawałków szkła i kamienia na zaprawie wapiennej lub cementowej.
4. Zdobily one najczęściej:  
A. cerkwie,  
B. meczety.



Źródło: [https://pl.wikipedia.org/wiki/Sztuka\\_bizanty%C5%84ska#/media/Plik:Spas\\_vsederzhitel\\_sinay.jpg](https://pl.wikipedia.org/wiki/Sztuka_bizanty%C5%84ska#/media/Plik:Spas_vsederzhitel_sinay.jpg)

**ZADANIE IV (0 – 4 p.)** Przeanalizuj mapkę znajdującą się poniżej a następnie dokończ zdania wybierając poprawne zakończenie.

1. W momencie objęcia władzy przez Chlodwiga państwo Franków obejmowało obszar:
  - A. Burgundii,
  - B. Austrazji.
2. Za panowania Karola Wielkiego najpóźniej do jego państwa przyłączono:
  - A. Saksonię,
  - B. Bawarię.
3. Tereny zależne od Imperium Franków zamieszkane przez plemiona słowiańskie graniczyły z państwem Franków od:
  - A. wschodu,
  - B. zachodu.
4. Jednym z ludów podległych Karolowi Wielkiemu zamieszkujących tereny na wschód od Imperium Franków byli:
  - A. Bretończycy,
  - B. Morawianie.



Źródło: [https://pl.wikipedia.org/wiki/Pa%C5%84stwo\\_frankijskie#/media/Plik:Frankish\\_Empire\\_481\\_to\\_814-pl.svg](https://pl.wikipedia.org/wiki/Pa%C5%84stwo_frankijskie#/media/Plik:Frankish_Empire_481_to_814-pl.svg)

**ZADANIE V (0 – 5 p.)** Przeczytaj uważnie poniższy tekst źródłowy, a następnie korzystając z informacji w nim zawartych i własnej wiedzy zaznacz właściwe zakończenie zdań umieszczonych pod tekstem.

### *Fragment reguły św. Benedykta*

1. [...] gdy tylko przełożony wyda jakieś polecenie, nie zwlekają [mnisi] ani chwili z jego wykonaniem tak, jak gdyby sam Bóg rozkazywał. [...] Tacy właśnie porzucają natychmiast swoje sprawy i wyrzekają się własnej woli. Od razu wszystko wypuszczają z ręki i pozostawiają nie ukończoną pracę, którą wykonywali, aby jak najrychlej w duchu posłuszeństwa odpowiedzieć czynem na otrzymane polecenie.
2. Bezczytność jest wrogiem duszy. Dlatego też bracia muszą się zajmować w określonych godzinach pracą fizyczną i również w określonych godzinach czytaniem duchownym.
3. Klasztor zaś, jeśli to możliwe, tak powinien być zorganizowany, żeby można było znaleźć w obrębie jego murów wszystko, co niezbędne, a więc wodę, młyn, ogród, jak również różne warsztaty rzemieślnicze, tak aby mnisi nie musieli włączyć się na zewnątrz, co nie przynosi zgoła pożytku ich duszom.

Źródło: [opoka.org.pl](http://opoka.org.pl)

1. Która z reguł nakładała na mnichów zasadę bezwzględnego posłuszeństwa wobec przełożonego:
  - A. 1,
  - B. 2,
  - C. 3.
2. Drugą regułą można określić słowami:
  - A. „Pamiętaj o śmierci”,
  - B. „Chwytaj dzień”,
  - C. „Módl się i pracuj”.
3. Mnisi nie musieli opuszczać klasztoru, ponieważ:
  - A. przywożono im zaopatrzenie z miasta,
  - B. sami wytwarzali wszystkie produkty w klasztorze,
  - C. nie potrzebowali pożywienia, żyli w ubóstwie.
4. „Benedyktyńska praca” oznaczała pracę:
  - A. żmudną, czasochłonną, wymagającą cierpliwości,
  - B. wykonywaną bardzo szybko, bez zachowania staranności,
  - C. wykonywaną przez wielu ludzi jednocześnie.
5. Benedykt z Nursji założył swój zakon na początku:
  - A. IV wieku,
  - B. V wieku,
  - C. VI wieku.

**ZADANIE VI (0 – 3 p.)** Przeczytaj uważnie biogramy wybitnych przedstawicieli włoskiego renesansu, następnie zaznacz nazwisko artysty, którego informacja dotyczy.

1. Jeden z najwybitniejszych artystów epoki renesansu; rzeźbiarz, malarz, architekt i poeta. Autor rzeźb „Pieta”, „Dawid”, „Mojżesz” i fresków w Kaplicy Sykstyńskiej.
  - A. Michał Anioł,
  - B. Rafael Santi,
  - C. Leonardo da Vinci.
2. Włoski malarz, rzeźbiarz, architekt, konstruktor, teoretyk sztuki, filozof, wszechstronny i najdoskonalszy przedstawiciel renesansu. Autor obrazów „Dama z gronostajem”, „Madonny wśród skał” i malowidła ściennego „Ostatnia wieczerza”.
  - A. Michał Anioł,
  - B. Rafael Santi,
  - C. Leonardo da Vinci.
3. Włoski malarz i architekt renesansu. Autor obrazów „Madonna Sykstyńska”, „Piękna ogrodniczka” i malowidła ściennego „Szkoła ateńska”. Kierował budową bazyliki Św. Piotra w Rzymie.
  - A. Michał Anioł,
  - B. Rafael Santi,
  - C. Leonardo da Vinci.

**ZADANIE VII (0 – 4 p.)** Uzupełnij tekst dotyczący świąt narodowych w USA i we Francji. Wybierz właściwe informacje z nawiasu.

Amerykanie obchodzą Dzień Niepodległości każdego roku dnia **4 lipca** na pamiątkę (ogłoszenia Deklaracji Niepodległości, uchwalenia Konstytucji USA). W roku 2024 od tego wydarzenia minie (247, 248) lat.

Francuzi obchodzą Święto Narodowe każdego roku dnia **14 lipca** na pamiątkę (uchwalenia Deklaracji Praw Człowieka i Obywatela, zdobycia Bastylji). W roku 2024 od tego wydarzenia minie (235, 236) lat.

**ZADANIE VIII (0 – 10 p.)** Poniżej znajduje się 10 pytań, do których przygotowano po cztery odpowiedzi. Tylko jedna jest prawdziwa. Zaznacz literę oznaczającą prawidłową odpowiedź.

1. „Królem królów” nazywano w starożytności władców Persji. Jednym z nich był:
  - A. Oktawian,
  - B. Justynian,
  - C. Kserkses,
  - D. Karol.
2. „Czarną śmiercią” nazwano w Europie epidemię dżumy wywołaną brakiem higieny. Miała ona miejsce w XIV wieku w okresie:
  - A. starożytności,
  - B. średniowiecza,
  - C. renesansu,
  - D. oświecenia.
3. „Noc świętego Bartłomieja” miała miejsce w/w:
  - A. Włoszech,
  - B. Anglii,
  - C. Francji,
  - D. Niemczech.
4. „Wielka smuta” po śmierci ostatniego władcy z dynastii Rurykowiczów miała miejsce w:
  - A. Anglii,
  - B. Rosji,
  - C. Szwecji,
  - D. Niemczech.
5. „Wielką Armadą” nazywano flotę:
  - A. Hiszpanii,
  - B. Anglii,
  - C. Francji,
  - D. Włoch.
6. „Królem Słońce” nazywano we Francji:
  - A. Ludwika XVI,
  - B. Ludwika XV,
  - C. Ludwika XIV,
  - D. Ludwika XIII.
7. „Chwalebna rewolucja” miała miejsce w/w:
  - A. Francji,
  - B. Rosji,
  - C. Anglii,
  - D. Niemczech.
8. „Bitwa narodów” miała miejsce w:
  - A. 1813 roku pod Lipskiem,
  - B. 1815 roku pod Waterloo,
  - C. 1809 pod Wagram,
  - D. 1812 roku pod Borodino.
9. „Bitwą trzech cesarzy”, nazywa się bitwę pod:
  - A. Auerstadt,
  - B. Austerlitz,
  - C. Jeną,
  - D. Ulm.
10. „Wiosna Ludów”, to określenie wydarzeń rewolucyjnych w Europie w latach:
  - A. 1847 – 1848,
  - B. 1849 – 1850,
  - C. 1847 – 1849,

D. 1848 – 1849.

**ZADANIE IX (0 – 5 p.)** Uzupełnij tekst dotyczący Legionów Polskich. Wybierz właściwe informacje z nawiasu.

Legiony Polskie powstały w 1797 roku we (Francji, Włoszech) z inicjatywy (księcia Józefa Poniatowskiego, generała Jana Henryka Dąbrowskiego). Dla powstającego wojska (Józef Wybicki, Karol Kniaziewicz) napisał „Pieśń Legionów Polskich”. Po kilku latach walk w Europie żołnierze zostali skierowani na wyspę (San Domingo, San Salvador). Z nieudanej zamorskiej wyprawy wróciło kilkuset legionistów i w kampanii 1805 roku walczyli oni z Austriakami na froncie włoskim. Dwa lata później większość żołnierzy i dowódców Legionów zasilila szeregi armii nowo utworzonego (Królestwa Polskiego, Księstwa Warszawskiego).

**ZADANIE X (0 – 5 p.)** Poniżej znajduje się pięć zdań dotyczących rewolucji przemysłowej. Przeczytaj je uważnie, a następnie rozstrzygnij, czy zdanie jest prawdziwe czy fałszywe.

1. Rewolucja przemysłowa to proces zmian technologicznych, gospodarczych, społecznych i kulturalnych, który został zapoczątkowany w XVIII wieku we Francji.  
A. prawda,  
B. fałsz.
2. Rewolucja przemysłowa była związana z przejściem od gospodarki opartej na rolnictwie oraz produkcji manufakturowej do opierającej się głównie na mechanicznej produkcji fabrycznej na dużą skalę.  
A. prawda,  
B. fałsz.
3. W I połowie XIX wieku w Anglii powstała pierwsza linia kolejowa.  
A. prawda,  
B. fałsz.
4. Jednym ze skutków rewolucji przemysłowej była urbanizacja związana z masową migracją ludności ze wsi do miast.  
A. prawda,  
B. fałsz.
5. W 1837 roku Aleksander Graham Bell skonstruował telegraf elektromagnetyczny, pozwalający przysyłać informacje na odległość.  
A. prawda,  
B. fałsz.

**ZADANIE XI (0 – 5 p.)** Przeczytaj uważnie poniższy tekst źródłowy i korzystając z informacji w nim zawartych oraz własnej wiedzy dokończ zdania umieszczone pod tekstem wybierając prawdziwe zakończenie.

***Legenda piastowska, Gall Anonim, Kronika polska***

*Był w [...] Gnieźnie, które po słowiańsku znaczy tyle, co „gniazdo”, książę o imieniu Popiel, mający dwóch synów; przygotował on zwyczajem pogańskim wielką ucztę na ich postrzyżyny [...]. Zdarzyło się zaś z woli Boga, że przybyli tam dwaj goście, którzy [...] nie zostali zaproszeni na ucztę [...]. A oni [...] skierowali się*



na przedmieście, gdzie trafili [...] przed domek oracza [...]. Ów biedak, pełen współczucia, zaprosił tych przybyszów do swej chatki [...]. Mieszkańcami gościnnego domu byli: niejaki Piast, syn Chruściska, i jego żona imieniem Rzepka; oboje oni z całego serca starali się wedle możliwości zaspokoić potrzeby gości. [...] Goście każą spokojnie nalewać piwa, bo dobrze wiedzieli, że nie ubędzie go, lecz przybędzie [...] natomiast ci, co ucztowali u księcia, znaleźli [swoje naczynia puste]. [...] Piast i Rzepka tedy na widok tych cudów, [...] przeczuwali w nich jakąś ważną wróżbę dla syna. [...] Po tym wszystkim młody Siemowit, syn Piasta, wzrastał w siły i [...] król królów za powszechną zgodą ustanowił go księciem Polski, a Popiela wraz z potomstwem doszczętnie usunął z królestwa. Opowiadają też starcy sędziwi, że ów Popiel wypędzony z królestwa tak wielkie cierpiał prześladowanie od myszy, iż z tego powodu przewieziony został [...] na wyspę, gdzie tak długo w drewnianej wieży broniono go przed owymi [...] zwierzętami [...], aż [...] zginął.

Źródło: [http://mlektury.pl/teksty/\\_kronika\\_Galla\\_Anonima\\_tekst.pdf](http://mlektury.pl/teksty/_kronika_Galla_Anonima_tekst.pdf)

1. Gall Anonim spisał kronikę na dworze:
  - A. Mieszka I,
  - B. Bolesława Krzywoustego,
  - C. Kazimierza Wielkiego.
2. Gall Anonim legendę tę poznał dzięki:
  - A. przekazom ustnym,
  - B. analizie dokumentów,
  - C. badaniom archeologicznym.
3. Domek oracza znajdował się:
  - A. w centrum Gniezna,
  - B. na przedmieściach Gniezna,
  - C. poza Gniezmem.
4. Syn Piasta miał na imię:
  - A. Popiel,
  - B. Rzepka,
  - C. Siemowit.
5. Popiel po wypędzeniu z królestwa zginął:
  - A. Zjedzony przez myszy,
  - B. Utopiony przez synów,
  - C. Zabity przez rozbójników.

**ZADANIE XII (0 – 5 p.)** Poniżej wypisano informacje na temat ziem wchodzących w skład państwa Piastów w czasie ich rządów. Przeczytaj je uważnie, następnie wskaż właściwą nazwę.

1. Ziemia, którą przed rokiem 981 włączono do państwa Polan, utracona czasowo za panowania Kazimierza Odnowiciela i Bolesława Śmiałego; włączona do Polski w wyniku wypraw Bolesława Krzywoustego w latach 1102 – 1119.
  - A. Pomorze Gdańskie,
  - B. Pomorze Zachodnie.
2. Ziemia, którą przyłączył do Polski Bolesław Chrobry w wyniku zwycięskiej wyprawy na Ruś w 1018 roku, utracona za panowania Mieszka II.
  - A. Ruś Halicka,
  - B. Grody Czerwieńskie.



3. Ziemia przyłączona do Polski w 990 roku po wojnie z Czechami; utracona w I połowie XI wieku, odzyskana przez Kazimierza Odnowiciela; w okresie rozbicia dzielnicowego uległa rozdrobnieniu na wiele księstw, które stopniowo przechodziły pod panowanie czeskie.
  - A. Śląsk,
  - B. Wielkopolska.
4. Ziemia ta weszła w skład państwa polskiego w X wieku za panowania Mieszka I; w czasie kryzysu państwa wczesnopiastowskiego w I połowie XI wieku znajdowała się pod władzą Mieclawa, przyłączona przez Kazimierza Odnowiciela w 1047 roku; na mocy Testamentu Krzywoustego dzielnica dziedziczna Bolesława Kędzierzawego.
  - A. Ziemia sandomierska,
  - B. Mazowsze.
5. Ziemia, którą podporządkował Mieszko I; przejściowo utracona w I połowie XI wieku, odzyskana przez Kazimierza Odnowiciela, ale utracona w 1058 roku za panowania Bolesława Śmiałego; w wyniku podboju prowadzonego przez Bolesława Krzywoustego w latach 1102 - 1123 stała się lennem Polski.
  - A. Pomorze Gdańskie,
  - B. Pomorze Zachodnie.

**ZADANIE XIII (0 – 7 p.)** Uzupełnij tekst dotyczący stosunków polsko – krzyżackich. Wybierz właściwe informacje z nawiasu.

Zakon Krzyżacki sprowadził do Polski w 1226 roku księżę (Bolesław Kędzierzawy, Konrad Mazowiecki) by bronić Mazowsza przed atakami pogańskich Prusów. Do końca XIII wieku Krzyżacy opanowali tereny zajmowane przez Prusów i stworzyli tam państwo. W latach 1308 – 1309 zajęli obszar (Pomorza Gdańskiego, Mazowsza), następnie ziemię dobrzyńską. Władysław Łokietek podjął walkę przeciwko Krzyżakom i pokonał ich w bitwie pod Płowcami w 1331 roku. W czasie swego panowania Kazimierz Wielki próbował rozwiązać konflikt z Krzyżakami na drodze pokojowej, co zakończyło się podpisaniem pokoju w (Warszawie, Kaliszu) w 1343 roku. Do Polski wróciły Kujawy i ziemia dobrzyńska. Do kolejnych konfliktów z Krzyżakami doszło za panowania Jagiellonów. W latach (1454 - 1466, 1409 – 1411) toczyła się Wielka Wojna z Zakonem, zakończona podpisaniem I pokoju toruńskiego. Za panowania Kazimierza Jagiellończyka doszło do wojny (trzydziestoletniej, trzynastoletniej), w wyniku której Polska odzyskała Pomorze Gdańskie, ziemię chełmińską, ziemię michałowską i Warmię. W latach 1519 – 1521 miała miejsce ostatnia wojna z Krzyżakami. W 1525 roku w (Krakowie, Warszawie) został zawarty traktat (tzw. hołd pruski) między Zygmuntem I Starym a Albrechtem – Wielkim Mistrzem Zakonu. W jego wyniku Zakon Krzyżacki przestał istnieć, a na terenie jego państwa powstało państwo świeckie pod nazwą (Prusy Książęce, Prusy Królewskie).

**ZADANIE XIV (0 – 3 p.)** W tabeli umieszczono przywileje szlacheckie i ich najważniejsze postanowienia. Przeczytaj je uważnie, następnie odpowiedz na pytania znajdujące się poniżej wskazując właściwy przywilej.

MIEJSCE NADANIA PRZYWILEJU	ROK NADANIA	TREŚĆ PRZYWILEJU
Koszyce	1374	Gwarantował królowi tylko jeden stały podatek dwóch groszy od łana chłopskiego.
Czerwińsk	1422	Gwarantował nietykalność majątkową szlachcica bez wyroku sądu, król musi uzyskać zgodę szlachty na bicie monety.
Piotrków	1496	Ograniczał wychodźstwo chłopów (tylko jeden rocznie może opuścić wieś); zakazywał mieszczanom posiadania dóbr ziemskich.
Radom	1505	Nowe prawa i podatki mogą być stanowione tylko za zgodą Sejmu (Nihil Novi).

1. Przywilej, który ograniczał władzę króla na rzecz szlachty to przywilej:
  - A. koszycki,
  - B. czerwiński,
  - C. piotrkowski,
  - D. radomski.
2. Przywilej, który nazwany jest „ustawą o przywiązaniu chłopą do ziemi” to przywilej:
  - A. koszycki,
  - B. czerwiński,
  - C. piotrkowski,
  - D. radomski.
3. Przywilej, który dawał szlachcie korzyści ekonomiczne to przywilej:
  - A. koszycki,
  - B. czerwiński,
  - C. piotrkowski,
  - D. radomski.

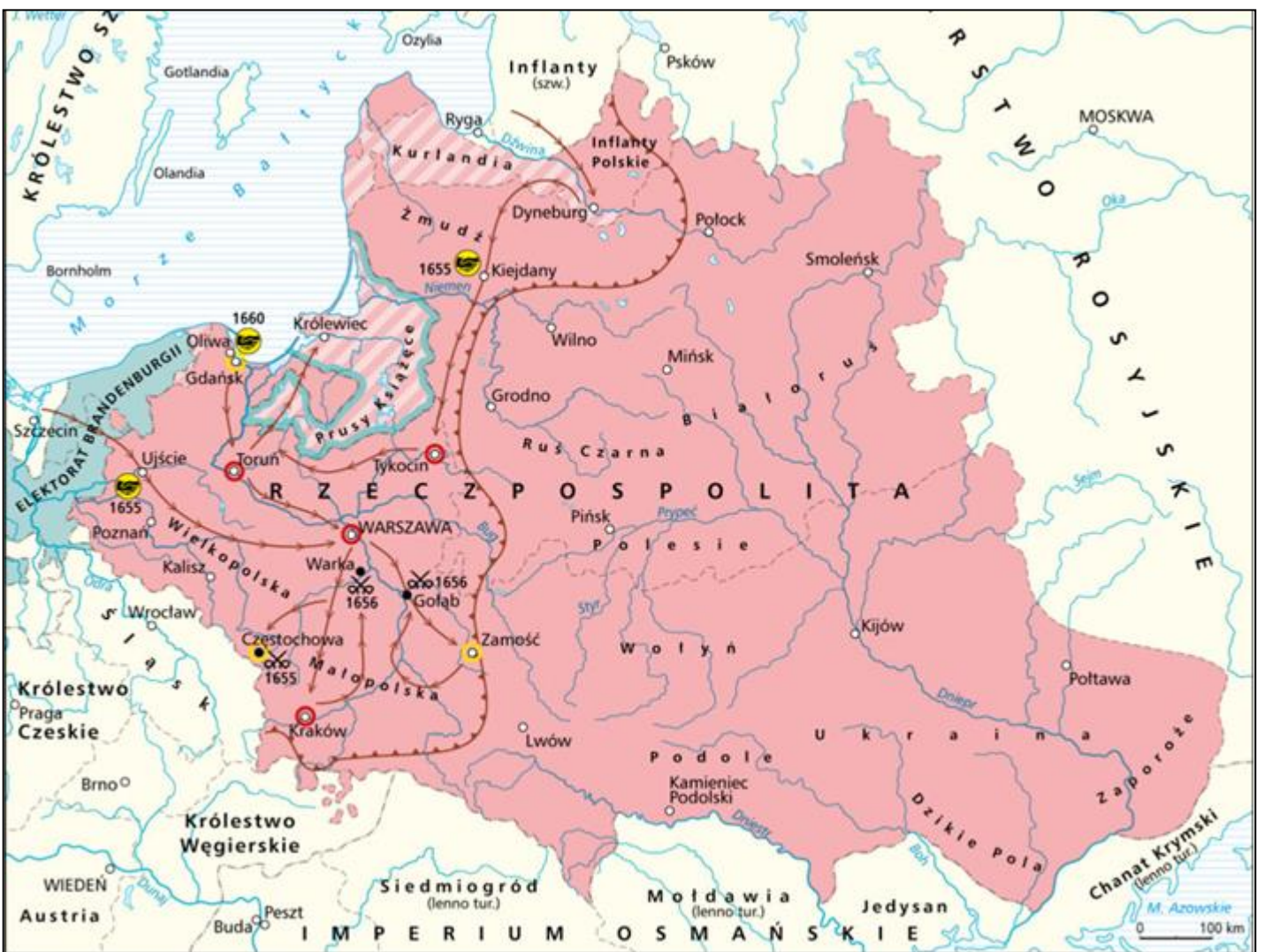
**ZADANIE XV (0 – 4 p.)** Rozpoznań budowlę na ilustracji i dokończ zdania umieszczone poniżej wybierając właściwą odpowiedź.



Źródło: <https://poznan-przewodnik.pl/o-ratuszu-slow-kilka/>

1. Budynek został zbudowany w stylu:
  - A. gotyckim,
  - B. renesansowym.
2. Budowla znajduje się na rynku w:
  - A. Poznaniu,
  - B. Krakowie.
3. Budowla ta była siedzibą:
  - A. władz miasta,
  - B. rodziny królewskiej.
4. W tym samym stylu architektonicznym zbudowano:
  - A. Ratusz w Zamościu,
  - B. Zamek krzyżacki w Malborku.

**ZADANIE XVI (0 – 5 p.)** Przeanalizuj poniższą mapkę, a następnie rozstrzygnij, czy zdania znajdujące się poniżej są prawdziwe czy fałszywe.



Źródło: <http://wlpaczpolske.pl/index.php?etap=10&i=1242&nomenu=1>

1. Mapa przedstawia Rzeczpospolitą w czasie potopu szwedzkiego.
  - A. prawda,
  - B. fałsz.
2. Wrogie wojska zaatakowały Polskę jedynie z terenu Inflant.
  - A. prawda,
  - B. fałsz.
3. Wrogie wojska na południu dotarły aż w okolice Krakowa.
  - A. prawda,
  - B. fałsz.
4. Pokój kończący wojnę podpisano w Kiejdanach i pod Ujściem.
  - A. prawda,
  - B. fałsz.
5. W tym samym czasie Rzeczpospolita prowadziła wojnę z Turcją.
  - A. prawda,
  - B. fałsz.

**ZADANIE XVII (0 – 10 p.)** Poniżej znajduje się 10 pytań, do których przygotowano po cztery odpowiedzi. Tylko jedna jest prawdziwa. Zaznacz literę oznaczającą prawidłową odpowiedź.

1. Kolumnę Zygmunta III Wazy przed Zamkiem Królewskim w Warszawie ustawiono w 1644 roku za panowania:
  - A. Zygmunta III Wazy,
  - B. Władysława IV,
  - C. Augusta II Mocnego,
  - D. Jana Kazimierza.
2. W 1765 roku z inicjatywy Stanisława Augusta Poniatowskiego utworzono:
  - A. Komisję Edukacji Narodowej,
  - B. Collegium Nobilium,
  - C. Szkołę Rycerską,
  - D. Towarzystwo do Ksiąg Elementarnych.
3. Autorem dzieła „O skutecznym rad sposobie” jest:
  - A. Stanisław Staszic,
  - B. Hugo Kołłątaj,
  - C. Adam Naruszewicz,
  - D. Stanisław Konarski.
4. Dyrektorem Teatru Narodowego w Warszawie w czasach stanisławowskich był:
  - A. Wojciech Bogusławski,
  - B. Julian Ursyn Niemcewicz,
  - C. Franciszek Zabłocki,
  - D. Ignacy Krasicki.
5. Autorem komedii politycznej „Powrót posła” był:
  - A. Ignacy Krasicki,
  - B. Franciszek Bohomolec,
  - C. Julian Ursyn Niemcewicz,
  - D. Stanisław Trembecki.
6. Pierwszą publiczną biblioteką ufundowali i „oddali narodowi” w Warszawie bracia z rodziny:
  - A. Załuskich,



- B. Czartoryskich,
  - C. Potockich,
  - D. Branickich.
7. Jednym z przywódców konfederacji targowickiej był:
- A. Adam Czartoryski,
  - B. Stanisław Małachowski,
  - C. Ignacy Potocki,
  - D. Ksawery Branicki.
8. Jednym z dowódców wojsk polskich w bitwie pod Dubienką (1792) był:
- A. Tadeusz Kościuszko,
  - B. Józef Zajączek,
  - C. Karol Kniaziewicz,
  - D. Jan Henryk Dąbrowski.
9. Na czele insurekcji w Warszawie (17 IV 1794) stanął:
- A. Tadeusz Kościuszko,
  - B. Antoni Madaliński,
  - C. Jan Kiliński,
  - D. Jakub Jasiński.
10. Kościuszko nobilitował chłopą Wojciecha Bartosza nadając mu nazwisko Głowacki w czasie bitwy pod:
- A. Dubienką,
  - B. Szczekocinami,
  - C. Maciejowicami
  - D. Raławicami.

**ZADANIE XVIII (0 – 5 p.)** Poniżej znajduje się pięć zdań dotyczących Księstwa Warszawskiego. Przeczytaj je uważnie, a następnie rozstrzygnij, czy zdanie jest prawdziwe czy fałszywe.

1. Księstwo Warszawskie powstało na mocy traktatu w Tylży zawartego w 1807 roku pomiędzy cesarzem Napoleonem Bonaparte a carem Aleksandrem I.
- A. prawda,
  - B. fałsz.
2. W skład Księstwa Warszawskiego w 1807 roku weszły ziemie III zaboru austriackiego.
- A. prawda,
  - B. fałsz.
3. Monarchą Księstwa Warszawskiego na podstawie unii personalnej z Saksonią został król Saksonii Fryderyk August I, wnuk króla Augusta III Sasa.
- A. prawda,
  - B. fałsz.
4. Zasady ustroju Księstwa Warszawskiego zostały zapisane w Konstytucji uchwalonej przez Sejm Księstwa.
- A. prawda,
  - B. fałsz.
5. Po klęsce Napoleona w 1812 w Rosji, na terytorium Księstwa Warszawskiego wkroczyły wojska pruskie, które od 1813 roku okupowały jego terytorium.
- A. prawda,
  - B. fałsz.

**ZADANIE XIX (0 – 6 p.)** Uzupełnij tekst dotyczący polskich powstań narodowowyzwoleńczych. Wybierz właściwe informacje z nawiasu.

Pierwszym powstaniem narodowym XIX stulecia było powstanie listopadowe, które wybuchło w (1831, 1830) roku. Po jego klęsce carat ograniczył autonomię Królestwa Polskiego i rozpoczął represje wobec uczestników powstania. Wielu wybitnych dowódców, polityków, twórców kultury zostało zmuszonych do emigracji, wskutek czego centrum polskiego życia politycznego i kulturalnego przeniosło się do Europy (Zachodniej, Wschodniej), szczególnie do Francji. Działacze emigracyjni przygotowywali ogólnonarodowe powstanie. Na początku 1846 roku podjęto próby walk w zaborze pruskim i austriackim. W Galicji powstanie trwało zaledwie kilka dni i przekształciło się w wystąpienie chłopów przeciw szlachcie – tzw. rabację, na czele której stanął chłop (Jakub Szela, Wojciech Bartos). W latach 1848 - 1849 w wielu krajach Europy miały miejsce wydarzenia, które przeszły do historii jako (Komuna Paryska, Wiosna Ludów). W tym czasie wybuchło powstanie w (Wielkopolsce, Małopolsce) na czele którego stanął Ludwik Mierosławski. Największym powstaniem narodowowyzwoleńczym było powstanie styczniowe, które trwało w latach (1863 – 1864, 1862 – 1865) i zakończyło się klęską Polaków.