

**Wojewódzki Konkurs Przedmiotowy
z Historii dla uczniów szkół podstawowych
województwa kujawsko-pomorskiego**

Etap szkolny – data: 17. 10. 2022 r.

Instrukcja dla ucznia

Zanim przystąpisz do rozwiązywania testu, przeczytaj uważnie poniższą instrukcję.

1. Wpisz w wyznaczonym miejscu na **TEŚCIE** swój kod ustalony przez Komisję Konkursową.
Nie wpisuj swojego imienia i nazwiska.
2. Przed rozpoczęciem pracy sprawdź, czy twój test jest kompletny. Niniejszy test zawiera 21 zadań.
3. Maksymalna liczba punktów za prawidłowe rozwiązanie wszystkich zadań wynosi 100 punktów.
4. Przeczytaj uważnie i ze zrozumieniem polecenia i wskazówki do każdego zadania.
5. Przy każdym zadaniu zaznacz właściwe odpowiedzi.
6. Przy każdym zadaniu podano maksymalną liczbę punktów, którą można uzyskać.
7. Pracuj samodzielnie.
8. Nie wolno wносить telefonów komórkowych na Konkurs.
9. Całkowity czas na wykonanie testu wynosi **60** minut.

KOD UCZNIA -

ZADANIE I (0 – 5 p.) Poniżej znajduje się ilustracja przedstawiająca posągi jednego z władców państwa starożytnego – Ramzesa II i pięć zdań, które należy dokończyć. Na podstawie własnej wiedzy zaznacz literę przy prawidłowej odpowiedzi



Źródło: <https://encyklopedia.pwn.pl/haslo/Abu-Simbel;3865333.html>

1. Ramzes II był władcą państwa:
 - A. sumeryjskiego,
 - B. egipskiego.
2. Nazywany był:
 - A. faraonem,
 - B. cesarzem.
3. Sprawował władzę:
 - A. despotyczną,
 - B. absolutną.
4. Przez swoich poddanych uważany był za syna boga:
 - A. Ra,
 - B. Ozyrysa.
5. Posągi Ramzesa II widoczne na ilustracji zostały ustawione przy wejściu do:
 - A. pałacu,
 - B. świątyni.

ZADANIE II (0 – 5 p.) Poniżej znajduje się pięć pytań dotyczących starożytnej Grecji i Rzymu. Zaznacz literę przy prawidłowej odpowiedzi.

1. Które wydarzenie miało miejsce wcześniej?
 - A. legendarne powstanie miasta Rzym,
 - B. pierwsze zawody sportowe w Olimpii.
2. Która wojna toczyła się później?
 - A. wojny punickie,
 - B. wojny Greków z Persami.
3. Która budowla została zbudowana wcześniej?
 - A. świątynia Ateny na Akropolu,
 - B. Koloseum w Rzymie.

4. Które dzieło literackie powstało wcześniej?
 - A. „Iliada” Homera,
 - B. „Eneida” Wergiliusza.
5. Która z wymienionych postaci historycznych żyła później?
 - A. Perykles,
 - B. Juliusz Cezar.

ZADANIE III (0 – 5 p.) Poniżej znajduje się pięć zdań związanych z religią, kulturą i sztuką islamu. Rozstrzygnij, czy zdanie jest prawdziwe, czy fałszywe i zaznacz literę przy prawidłowej odpowiedzi.

1. Mahomet urodził się w mieście Medyna.
 - A. prawda,
 - B. fałsz.
2. Mahomet działał w VII wieku.
 - A. prawda,
 - B. fałsz.
3. Wiernych na modlitwę do meczetu wzywa muezin.
 - A. prawda,
 - B. fałsz.
4. Motywy roślinne i geometryczne stosowane w sztuce arabskiej nazywają się mozaikami.
 - A. prawda,
 - B. fałsz.
5. Cyfry arabskie zostały wymyślone w Indiach.
 - A. prawda,
 - B. fałsz.

ZADANIE IV (0 – 5 p.) Poniżej znajduje się tekst źródłowy – fragment przemówienia papieża na synodzie w Clermont. Przeczytaj je uważnie i zaznacz litery przy prawidłowych odpowiedziach.

„Ziemia, nad którą zajaśniało słońce prawdy, gdzie Syn Boży żył, nauczał i cierpiał, gdzie umarł i zmartwychwstał dopełniwszy dzieła Odkupienia, święta ta ziemia wpadła w ręce niewiernych! Zbuczycieli Przybytek Pański, pomordowali świętych, a ciała ich stały się pastwą dzikich zwierząt. Krew chrześcijan płynęła strumieniem w Jerozolimie i około jej murów, a nikt nie spieszy ich pogrzebać. (...) Pełen ufności w miłosierdzie boskie, i z mocy władzy przekazanej mi przez świętych Piotra i Pawła udzielam odpustu zupełnego każdemu chrześcijaninowi, który ożywiony uczuciem szczerego nabożeństwa pójdzie walczyć przeciw niewiernym!”

Źródło: histmag.org/Jak-zaczely-sie-krucjaty-7336

1. Autorem tych słów był papież:
 - A. Grzegorz VII,
 - B. Urban II,
 - C. Paweł III.
2. Zapoczątkowały one:
 - A. wyprawy krzyżowe,
 - B. schizmę wschodnią,
 - C. reformację.
3. „Niewiernymi” w tekście papież nazywa:
 - A. Słowian,

- B. Turków Seldzuckich,
 - C. Hunów.
4. Jaką nagrodę obiecuje papież tym, którzy pójdą walczyć przeciwko niewiernym:
- A. odpuszczenie grzechów,
 - B. zdobycie bogactwa,
 - C. zbawienie i życie wieczne.
5. Walki chrześcijan z niewiernymi zakończyły się pod koniec:
- A. XII wieku,
 - B. XIII wieku,
 - C. XIV wieku.

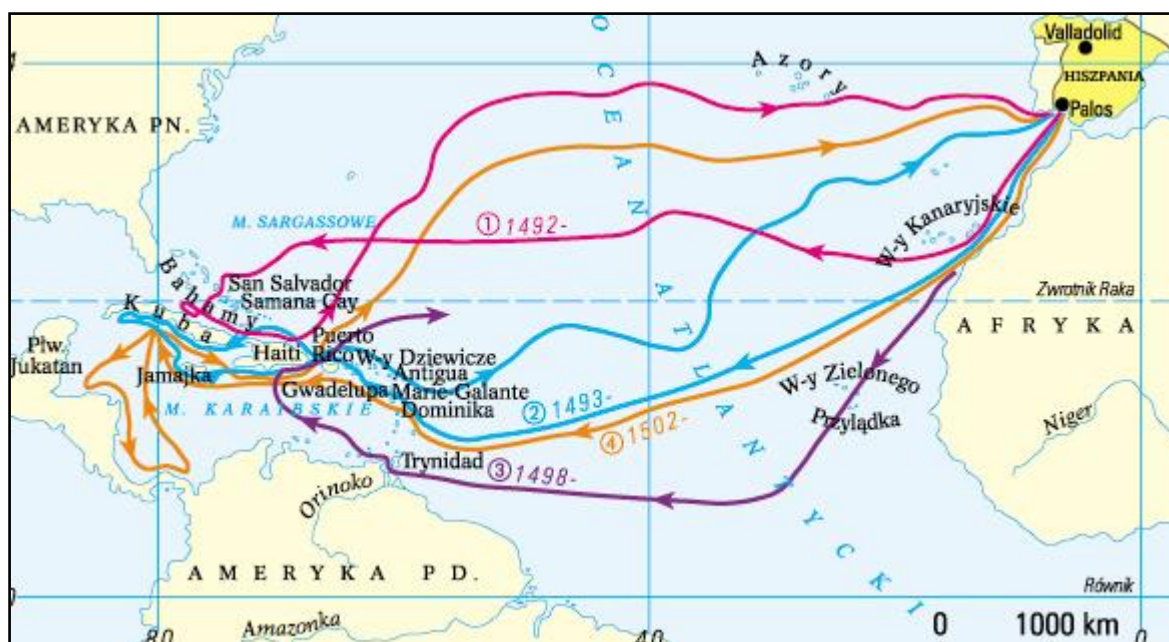
ZADANIE V (0 – 5 p.) Poniżej znajdują się dwa źródła. Przeanalizuj je uważnie i zaznacz litery przy prawidłowych odpowiedziach.

Źródło 1. Tekst źródłowy

Panie! [...] piszę do Ciebie ten list, z którego dowiesz się, jak przez 33 dni płynąłem z Wysp Kanaryjskich [...] na okrętach oddanych mi przez najjaśniejszego króla i królową [...] Napotkałem wiele wysp zamieszkałych przez niezliczone ludy i objąłem je w posiadanie dla Ich Wysokości [...] nie stawiano mi żadnego oporu. Pierwszej wyspie, którą odkryłem nadałem nazwę San Salvador [...].

Źródło: J. ,T. Jasiński, Wybór źródeł do nauki historii starożytnej i średniowiecznej, Warszawa 1999, s. 119.

Źródło 2. Mapa



Źródło: <https://www.lesmierz.edu.pl/?p=14024>

1. Trasa podróży opisana w źródle 1 na mapie została oznaczona cyfrą:
- A. 1,
 - B. 2,
 - C. 3,
 - D. 4.
2. Autorem listu jest żeglarz:
- A. Ferdynand Magellan,

- B. Vasco da Gama,
 - C. Krzysztof Kolumb,
 - D. Bartłomiej Diaz.
3. Adresatami listu są król i królowa:
- A. Portugalii,
 - B. Hiszpanii,
 - C. Włoch,
 - D. Anglii.
4. Do Półwyspu Jukatan żeglarz dopłynął w roku:
- A. 1492,
 - B. 1493,
 - C. 1498,
 - D. 1502.
5. Celem pierwszej wyprawy żeglarza było:
- A. odkrycie drogi morskiej do Indii;
 - B. zdobycie złota i srebra,
 - C. udowodnienie teorii, że świat jest kulą,
 - D. odkrycie nowych lądów.

ZADANIE VI (0 – 4 p.) Poniżej znajduje się sześć informacji, z których cztery są związane z działalnością Jana Kalwina i Erazma z Rotterdamu. Przyporządkuj po dwa z nich każdemu z nich i zaznacz litery przy prawidłowych odpowiedziach.

- A.** Był założycielem nowego wyznania i głosił koncepcję, że człowiek z góry przeznaczony jest przez Boga do zbawienia lub skazany na potępienie.
- B.** Zapoczątkował ruch reformacyjny w Kościele, zaprotestował przeciwko sprzedaży odpustów i wyciągnął 95 tez na drzwiach kościoła w Wittenberdze.
- C.** Jako teolog, kaznodzieja działał głównie w Szwajcarii, ale jego poglądy znalazły wielu zwolenników również we Francji.
- D.** Piętnował nadużycia duchownych, głosił umiłowanie wolności, prostoty i pokoju, mimo krytycznego stosunku do postępowania wielu dostojników Kościoła, nie przystąpił do ruchu reformacyjnego.
- E.** Napisał, między innymi, dzieła „Podręcznik żołnierza Chrystusowego” i „Pochwała głupoty”. Dzieła rozchodziły się w tysiącach egzemplarzy po całej Europie.
- F.** Odrzucił zwierzchnictwo papieża i ogłosił się głową kościoła w swoim państwie.

1. Jan Kalwin:
- A.
 - B.
 - C.
 - D.
 - E.
 - F.

2. Erazm z Rotterdamu:

- A.
- B.
- C.
- D.
- E.
- F.

ZADANIE VII (0 – 8 p.) Poniżej znajduje się dziesięć pytań do których przygotowano po cztery odpowiedzi. Tylko jedna jest poprawna. Zaznacz literę przy prawidłowych odpowiedziach.

1. Pierwszym cesarzem średniowiecznej Europy koronowanym przez papieża był:
 - A. Karol Młot,
 - B. Pepin Mały,
 - C. Karol Wielki,
 - D. Chlodwig.
2. Autorem powiedzenia „Państwo to ja” podkreślającego władzę absolutną był król Ludwik:
 - A. XV,
 - B. XIII,
 - C. XVI,
 - D. XIV.
3. Pierwszym państwem, w którym ukształtowała się monarchia parlamentarna w XVII wieku była:
 - A. Francja,
 - B. Anglia,
 - C. Rosja,
 - D. Polska.
4. Twórcą zasady trójdzielności władzy w czasach Oświecenia był:
 - A. Jan Jakub Rousseau,
 - B. Karol Monteskiusz,
 - C. Denis Diderot,
 - D. Maksymilian Robespierre.
5. Zasadę trójdzielności władzy zastosowano po raz pierwszy w konstytucji:
 - A. USA,
 - B. Polski,
 - C. Francji,
 - D. Austrii.
6. Ludwik XVI w 1789 roku zwołał Stany Generalne, ponieważ:
 - A. trzeba było uchwalić nowe podatki,
 - B. chciał uchwalić konstytucję,
 - C. żądała tego burżuazja,
 - D. lud Paryża zdobył Bastylię.
7. Po otwarciu Stanów Generalnych przedstawiciele stanu trzeciego ogłosili się:
 - A. Konwentem Narodowym,
 - B. Dyktoriatem,
 - C. Zgromadzeniem Narodowym,
 - D. Legislatywą.

8. W wyniku rewolucji francuskiej prawo do udziału w rządzeniu państwem uzyskali:
- A. duchowni,
 - B. szlachta,
 - C. burżuazja,
 - D. chłopi.




ZADANIE VIII (0 – 4 p.) Poniżej znajdują się dwa źródła. Przeanalizuj je uważnie i zaznacz litery przy prawidłowych odpowiedziach.

Źródło 1. Fragment opracowania

Budowle [...] cechowały: wolność, dynamizm i życie, malarskość, wielkość, bogactwo. Wolność nie była sprzeciwieniem się wszelkim regułom, bo istniał wzór sztuki, zaproponowany przez sobór trydencki. Swoboda w architekturze oznaczała natomiast rezygnację z renesansowych regularności i proporcji

Źródło: [http://\[...\]klp.pl/a-7569.html](http://[...]klp.pl/a-7569.html)

Źródło 2. Fotografie

A	B	C
		
<p>Źródło: https://pl.wikipedia.org/wiki/Katedra_Notre-Dame_w_Pary%C5%BCu#/media/Plik:Cath%C3%A9drale_Notre-Dame_de_Paris,_20_March_2014.jpg</p>	<p>Źródło: https://sumfinit.com/pl/hdr-photos/polska/poznan-pl/ratusz_poznaniu/</p>	<p>Źródło: http://www.historiasztuki.com.pl</p>

1. Budowla charakterystyczna dla stylu, który opisano w źródle 1 została oznaczona w źródle 2 literą:
 - A.
 - B.
 - C.

2. Najwcześniejszy styl w architekturze spośród zaprezentowanych ilustruje budowla przedstawiona na fotografii oznaczonej literą:
 - A.
 - B.
 - C.

3. W stylu renesansowym została zbudowana budowla przedstawiona na fotografii oznaczonej literą:
- A.
 - B.
 - C.
4. Wspomniany w źródle 1 sobór trydencki obradował w połowie:
- A. XV wieku,
 - B. XVI wieku,
 - C. XVII wieku.

ZADANIE IX (0 – 6 p.) Poniżej znajduje się tekst dotyczący powstania Stanów Zjednoczonych. Uzupełnij go, wybierz właściwe informacje znajdujące się w nawiasach.

W XVIII wieku na terenie Ameryki Północnej istniało 13 kolonii brytyjskich położonych na (wschodnim, zachodnim) wybrzeżu. Przyczyną zbrojnego konfliktu pomiędzy Anglią i koloniami było m.in. nałożenie cła na towary sprowadzane z kolonii. W (1773, 1774) roku na znak protestu koloniści wrzucili do zatoki w Bostonie transport herbaty z Anglii. W 1774 roku w Filadelfii odbył się Kongres Kontynentalny, na który przybyli przedstawiciele wszystkich angielskich kolonii w Ameryce Północnej. Podjęto tam decyzję o rozpoczęciu walki z angielskimi władzami. W 1776 roku podczas obrad II Kongresu Kontynentalnego uchwalono (Deklarację Niepodległości Stanów Zjednoczonych Ameryki, Konstytucję USA). Walki o niepodległość kolonii trwały. Siłami zbrojnymi kolonii dowodził (Thomas Jefferson, Jerzy Waszyngton), który w krótkim czasie potrafił zorganizować regularną i bitną armię. Niepodległość Stanów Zjednoczonych w 1778 roku uznała Francja, a konflikt zakończył się 5 lat później podpisaniem pokoju w (Paryżu, Waszyngtonie). W czasie wojny o niepodległość USA zginął (Kazimierz Pułaski, Tadeusz Kościuszko).

ZADANIE X (0 – 5 p.) Poniżej znajdują się dwa źródła. Przeanalizuj je uważnie i zaznacz litery przy prawidłowych odpowiedziach.

Źródło 1. Fragment opracowania historycznego.

[...] poniósł śmierć męczeńską z rąk Prusów w 997 roku [...] księżę wykupił z rąk Prusów ciało męczennika, płacąc złotem za nie tyle, ile ważyło.

Źródło: *Wielka Historia Polski*; J. Wyrozumski, *Dzieje Polski Piastowskiej, (VIII w.–1370)*. T. 2. Kraków 1999, s. 88.


Źródło 2.



Źródło: <http://www.nowastrategia.org.pl>

1. Książę, o którym mowa w źródle 1 to:
 - A. Mieszko I,
 - B. Bolesław Chrobry.
2. Męczennik, o którym mowa w źródle 1 to:
 - A. Wojciech,
 - B. Stanisław.
3. Ciało męczennika zostało złożone w grobie w:
 - A. Krakowie,
 - B. Gnieźnie,
 - C. Poznaniu.
4. Zabytek zaprezentowany w źródle 2 reprezentuje sztukę:
 - A. romańską,
 - B. gotycką,
 - C. renesansową,
 - D. barokową.
5. Zabytek zaprezentowany w źródle 2 jest częścią:
 - A. Ołtarza Wita Stwosza,
 - B. Drzwi Gnieźnieńskich.

ZADANIE XI (0 – 3 p.) Poniżej znajduje się ilustracja przedstawiająca zbrojnych w państwie pierwszych Piastów. Na podstawie własnej wiedzy dokończ zdania pod ilustracją i zaznacz litery przy prawidłowych odpowiedziach.



Źródło: <https://www.edukator.pl/resources/page/panstwo-mieszka-i/1020>

1. Pancernego na ilustracji oznaczono literą:
 - A.
 - B.
2. Obaj wojowie wchodziłi w skład:
 - A. armii,
 - B. drużyny.

3. W państwie pierwszych Piastów wojów utrzymywał:
- A. księżę,
 - B. lud.

ZADANIE XII (0 – 6 p.) Poniżej znajduje się sześć pytań, do których przygotowano po cztery odpowiedzi. Tylko jedna jest prawdziwa. Zaznacz literę przy prawidłowych odpowiedziach.

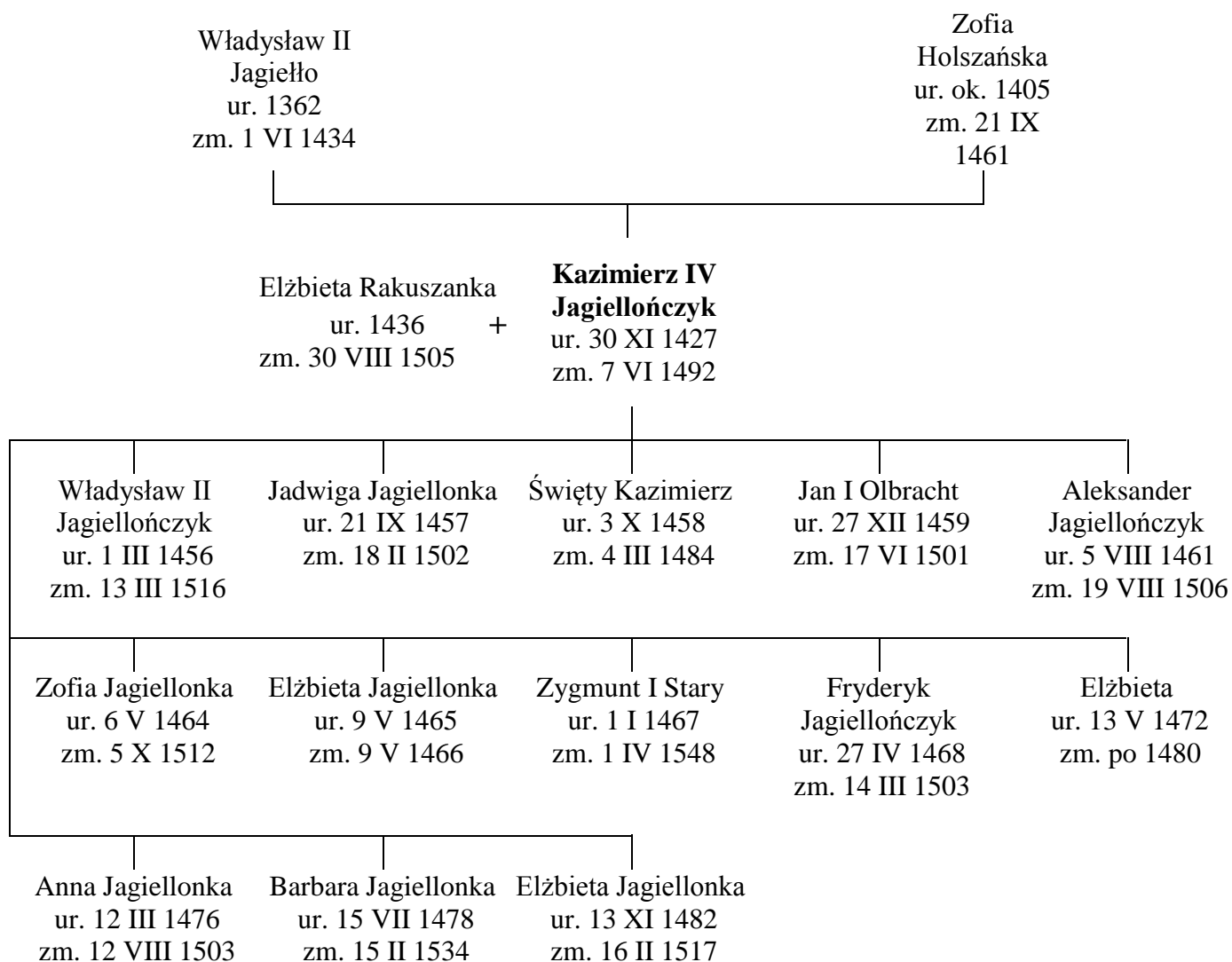
1. Gall Anonim przebywał na dworze:
 - A. Bolesława Śmiałego,
 - B. Bolesława Krzywoustego,
 - C. Bolesława Chrobrego,
 - D. Bolesława Kędzierzawego.
2. Pierwszy opis przebiegu granicy państwa Piastów zawarty został w:
 - A. kronice Galla Anonima,
 - B. Testamencie Krzywoustego,
 - C. dokumencie „Dagome iudex”,
 - D. kronikach staroruskich.
3. Pierwsze klasztory na ziemiach polskich w XI wieku zakładali:
 - A. benedyktyni,
 - B. cystersi,
 - C. dominikanie,
 - D. franciszkanie.
4. Oddziałami polskimi, które walczyły z Mongołami pod Legnicą dowodził:
 - A. Henryk Brodaty,
 - B. Bolesław Wysoki,
 - C. Henryk Pobożny,
 - D. Władysław Wygnaniec.
5. Pierwszym księciem senioralnym był:
 - A. Bolesław Kędzierzawy,
 - B. Mieszko III Stary,
 - C. Władysław Wygnaniec,
 - D. Kazimierz Sprawiedliwy.
6. Na czele buntu miast przeciwko Władysławowi Łokietkowi stanął wójt krakowski:
 - A. Albert,
 - B. Jakub Świnka,
 - C. Sieciech,
 - D. Stanisław ze Szczepanowa.

ZADANIE XIII (0 – 5 p.) Poniżej znajduje się pięć zdań dotyczących stosunków polsko – krzyżackich za panowania Piastów. Rozstrzygnij, czy zdanie jest prawdziwe, czy fałszywe i zaznacz literę przy prawidłowej odpowiedzi.

1. Przed przybyciem na ziemie polskie rycerze zakonu krzyżackiego przebywali na terenie Węgier:
 - A. prawda,
 - B. fałsz.
2. Krzyżacy dokonali podboju Prusów do końca XIII wieku i na ich terenach utworzyli swoje państwo:
 - A. prawda,
 - B. fałsz.

3. Na mocy postanowień pokoju z Krzyżakami podpisanego w Kaliszu Polska odzyskała Pomorze Gdańskie:
 - A. prawda,
 - B. fałsz.
4. Konrad Mazowiecki nadał Krzyżakom we władanie ziemię dobrzyńską:
 - A. prawda,
 - B. fałsz.
5. Wojska krzyżackie w bitwie pod Płowcami pokonał Kazimierz Wielki:
 - A. prawda,
 - B. fałsz.

ZADANIE XIV (0 – 5 p.) Poniżej znajduje się fragment drzewa genealogicznego dynastii Jagiellonów. Przeanalizuj je i dokończ zdania, wybierz właściwą informację z nawiasu.



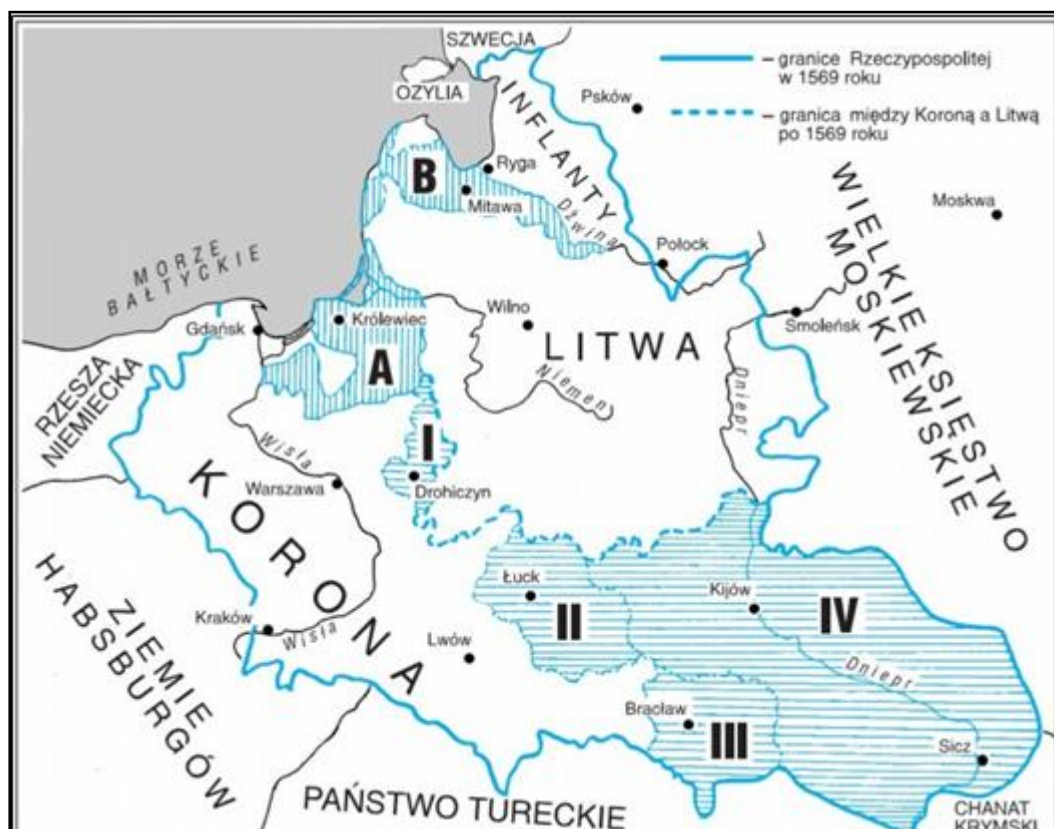
(Źródło: http://pl.wikipedia.org/wiki/Drzewo_genealogiczne_Jagiellon%C3%B3w)

1. Żoną Kazimierza IV Jagiellończyka była (Zofia Holszańska, Elżbieta Rakuszanka).
2. Kazimierz IV Jagiellończyk miał (13, 10) dzieci.
3. Wcześniej od Kazimierza IV Jagiellończyka zmarło (2, 3) dzieci władcy.
4. Królami Polski było (3, 5) synów Kazimierza IV Jagiellończyka.
5. Gdy zmarł Władysław II Jagiełło, Kazimierz IV Jagiellończyk miał (9, 7) lat.

ZADANIE XV (0 – 5 p.) Poniżej znajduje się tekst dotyczący reformacji w Polsce. Uzupełnij go, wybierz właściwe informacje znajdujące się w nawiasach.

Państwo polsko – litewskie w XVI wieku było państwem wielonarodowym i wielowyznaniowym. Dominowali wyznawcy (katolicyzmu, prawosławia). Znaczną liczebnie grupą byli Żydzi. Oprócz tego ziemie Rzeczypospolitej zamieszkiwali muzułmanie i husyci. Już w latach dwudziestych XVI wieku dotarł do Polski (kalwinizm, luteranizm), który objął przede wszystkim Prusy Królewskie, Wielkopolskę i Śląsk. Wielu wyznawców wśród szlachty małopolskiej i litewskiej znalazł kalwinizm. Jego odłamem był (arianizm, protestantyzm), który opierał się na czterech podstawowych zasadach – odrzucenie dogmatu Trójcy Świętej, tolerancji wobec innych wyznań, stawianie etycznego postępowania ponad dogmatami, uproszczenie liturgii. Nazywano ich braćmi polskimi. W początkowym okresie reformacji król (Zygmunt I Stary, Zygmunt II August) wydał dekryty zakazujące rozpowszechniania idei protestanckich oraz sprowadzania ksiązek zawierających teksty protestanckie. Za panowania jego następcy edykty te zostały złagodzone lub zniesione. W 1564 roku zostały przyjęte dekryty soboru trydenckiego, co zapoczątkowało działania kontreformacyjne. Ich przejawem było sprowadzenie do Polski zakonu (dominikanów, jezuitów), który rozwinął sieć szkolnictwa katolickiego.

ZADANIE XVI (0 – 5 p.) Poniżej znajduje się mapa Rzeczypospolitej w II połowie XVI wieku. Na podstawie analizy mapy i własnej wiedzy dokończ zdania pod ilustracją i zaznacz litery przy prawidłowych odpowiedziach.



Źródło: http://historia.opracowania.pl/rzeczpospolita_oba_narod%C3%B3w/

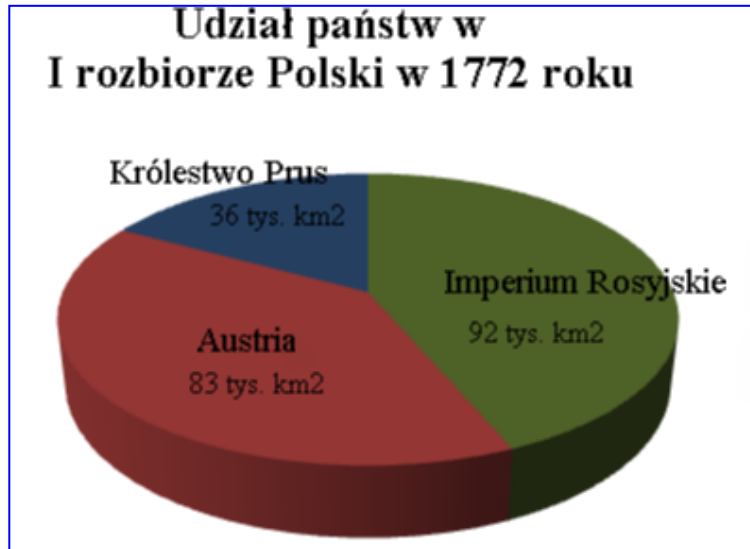
1. Mapa przedstawia obszar Rzeczypospolitej:
 - A. przed podpisaniem unii lubelskiej;
 - B. po podpisaniu unii lubelskiej.

2. Unia lubelska była unią:
 - A. realną,
 - B. personalną.
3. Prusy Książęce zostały zaznaczone literą:
 - A.
 - B.
4. Rzymską cyfrą I oznaczono teren:
 - A. Podlasia,
 - B. Wołynia.
5. Lenna Rzeczypospolitej zostały oznaczone:
 - A. cyframi rzymskimi (I, II, III, IV),
 - B. literami (A, B).

ZADANIE XVII (0 – 5 p.) Poniżej znajduje się 5 informacji o królach elekcyjnych. Zaznacz literę przy prawidłowym imieniu króla.

1. Książę Siedmiogrodu, mąż Anny Jagiellonki, prowadził wojny z Iwanem IV Groźnym o Inflanty; doprowadził do utworzenia piechoty wybraneckiej; swe rządy oparł na sojuszu ze średnią szlachtą i jej przywódcą – Janem Zamoyskim:
 - A. Henryk Walezy,
 - B. Stefan Batory.
2. Syn Zygmunta III Wazy i Anny z Habsburgów, unowocześnił polską armię, rozbudowując piechotę i artylerię; zorganizował flotę wojenną, warsztaty okrętowe w Pucku oraz rozbudował port, który został nazwany Władysławowem:
 - A. Władysław IV,
 - B. Jan Kazimierz.
3. Hetman polny koronny, po zwycięstwie nad wojskami tatarsko-kozackimi w bitwie pod Podhajcami mianowany hetmanem wielkim koronnym; pokonał Turków pod Chocimiem; jako król dowodził wojskami polskimi w bitwie pod Wiedniem:
 - A. Jan III Sobieski,
 - B. Stanisław August Poniatowski.
4. Objął tron z wyboru szlachty, przeciwstawiającej się kandydaturze francuskiej; w czasie jego panowania Turcy zdobyli Kamieniec Podolski, podpisano traktat w Buczaczu, na mocy którego Polska miała Turcji płacić haracz:
 - A. Stefan Batory,
 - B. Michał Korybut Wiśniowiecki.
5. Mimo małego poparcia szlachty osadzony na tronie dzięki pomocy wojsk rosyjskich; w czasie rządów niewiele czasu spędzał w Polsce, wolał przebywać w Dreźnie; za jego panowania nastąpiła całkowita dezorganizacja państwa i upadek gospodarczy:
 - A. August II Mocny,
 - B. August III Sas.

ZADANIE XVIII (0 – 5 p.) Poniżej znajduje się schemat przedstawiający straty terytorialne Rzeczypospolitej po I rozbiore. Na podstawie analizy danych i własnej wiedzy rozstrzygnij, czy zdanie jest prawdziwe, czy fałszywe i zaznacz literę przy prawidłowej odpowiedzi.



Źródło: https://upload.wikimedia.org/wikipedia/commons/4/45/First_Partition_of_Poland_share.PNG

- Największy obszar w I rozbiore zajęło Imperium Rosyjskie:
 - prawda,
 - fałsz.
- W I rozbiore państwa zaborcze łącznie zajęły prawie 200 tys. km² terytorium Polski:
 - prawda,
 - fałsz.
- W wyniku I rozbioru Imperium Rosyjskie zagarnęło o 56 tys. km² więcej niż Królestwo Prus:
 - prawda,
 - fałsz.
- W II rozbiore nie wzięła udziału Austria:
 - prawda,
 - fałsz.
- III rozbiór Polski miał miejsce 21 lat po I rozbiore:
 - prawda,
 - fałsz.

ZADANIE XIX (0 – 2 p.) Poniżej znajduje się ilustracja przedstawiająca znaczek pocztowy. Na podstawie analizy elementów znaczka i własnej wiedzy dokończ zdania pod ilustracją i zaznacz litery przy prawidłowych odpowiedziach.



Źródło: <http://katalogznaczkow.net>

1. Instytucja, która została przedstawiona na znaczku powstała za panowania króla:
 - A. Augusta II Mocnego,
 - B. Augusta III Sasa,
 - C. Stanisława Augusta Poniatowskiego.
2. Głównym zadaniem Komisji, do której nawiązuje źródło było:
 - A. przywrócenie nauczania opartego na scholastyce,
 - B. wykształcenie społeczeństwa Rzeczypospolitej w duchu oświecenia,
 - C. kształcenie młodzieży w duchu tradycyjnej, konserwatywnej demokracji szlacheckiej.

ZADANIE XX (0 – 2 p.) Poniżej znajduje się obraz Stanisława Augusta Poniatowskiego w stroju koronacyjnym. Na podstawie własnej wiedzy dokończ zdania, wybierz właściwą odpowiedź z nawiasu.



Źródło: https://pl.wikipedia.org/wiki/Portret_Stanisława_Augusta_Poniatowskiego_w_stroju_koronacyjnym

1. Autorem portretu jest (Marcello Bacciarelli, Bernardo Belotto).
2. Obraz został namalowany w stylu (klasycystycznym, barokowym).

ZADANIE XXI (0 – 5 p.) Poniżej znajduje się tekst na temat powstania kościuszkowskiego. Uzupełnij go, wybierz właściwe informacje znajdujące się w nawiasach.

Po II rozbiórce Polski zostało zawiązane sprzysiężenie, którego celem było przygotowanie zbrojnego powstania przeciw Rosji. Dnia 24 marca 1794 roku na rynku w (Warszawie, Krakowie) Tadeusz Kościuszko złożył przysięgę na wierność narodowi jako Najwyższy Naczelnik Siły Zbrojnej Narodowej. Kościuszko na czele liczących 6 tysięcy ludzi oddziałów wyruszył w kierunku Warszawy. Do pierwszego starcia doszło 4 kwietnia 1794 roku pod wsią (Raclawice, Szczekociny), gdzie został rozbity oddział rosyjski. W dniach 22

– 23 kwietnia 1794 roku powstańcy zajęli Wilno. Pod koniec miesiąca powstaniem został objęty cały kraj. Aby nakłonić do udziału w powstaniu chłopów Kościuszko 7 maja 1794 roku w obozie pod Połańcem wydał (konstytucję, uniwersał), w którym zniósł poddaństwo osobiste chłopów i gwarantował im nieusuwalność z ziemi. Sytuacja militarna powstańców uległa pogorszeniu w maju 1794 roku, gdy do wojny włączyło się państwo (austriackie, pruskie). Walki powstańcze toczyły się do jesieni. Kościuszko w czasie bitwy pod Maciejowicami (zginął, dostał się do niewoli). Dnia 4 listopada 1794 roku oddziały rosyjskie zdobyły Pragę, a armia powstańcza skapitulowała 16 listopada 1794 roku.