

**Wojewódzki Konkurs Przedmiotowy
z Historii dla uczniów szkół podstawowych
województwa kujawsko-pomorskiego**

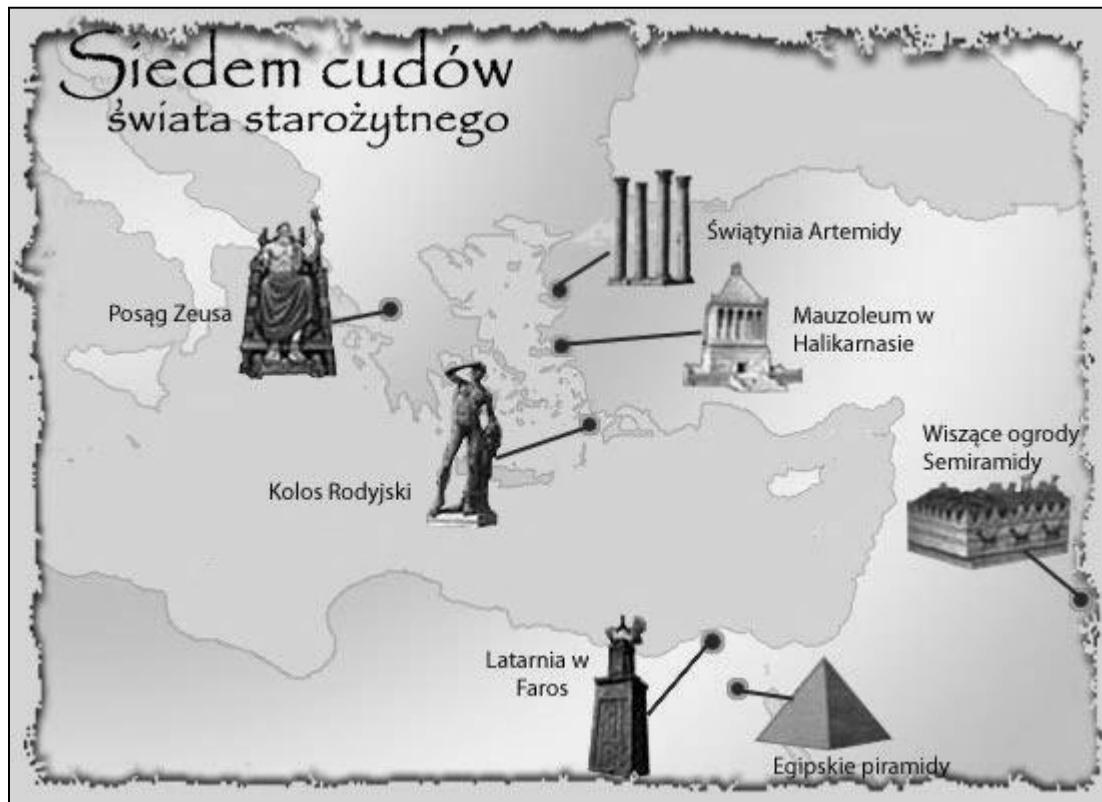
Etap szkolny – data: 21. 10. 2019 r.

Instrukcja dla ucznia

Zanim przystąpisz do rozwiązywania testu, przeczytaj uważnie poniższą instrukcję.

1. Wpisz w wyznaczonym miejscu na **TEŚCIE** i **KARCIE ODPOWIEDZI** swój kod ustalony przez Komisję Konkursową. **Nie wpisuj** swojego imienia i nazwiska.
2. Przed rozpoczęciem pracy sprawdź, czy twój arkusz testowy jest kompletny. Niniejszy arkusz testowy składa się z 8 stron i zawiera 21 zadań. Jeśli zauważysz jakiegokolwiek braki lub błędy w druku, zgłoś je natychmiast Komisji Konkursowej.
3. Przeczytaj uważnie i ze zrozumieniem polecenia i wskazówki do każdego zadania.
4. Odpowiedzi zapisuj w **KARCIE ODPOWIEDZI** długopisem z czarnym lub niebieskim tuszem.
5. Dbaj o czytelność pisma i precyzję odpowiedzi. W zadaniach wielokrotnego wyboru poprawne odpowiedzi zaznaczaj zgodnie z poleceniem.
6. Nie używaj korektora. Jeżeli pomylisz się, błędną odpowiedź otocz kółkiem i ponownie udziel poprawnej odpowiedzi. Oceniane będą tylko odpowiedzi, które zostały zaznaczone lub wpisane zgodnie z poleceniem i umieszczone w miejscu do tego przeznaczonym.
7. Przy każdym zadaniu podano maksymalną liczbę punktów, którą można uzyskać.
8. Pracuj samodzielnie.
9. Nie wolno wносить telefonów komórkowych na konkurs.
10. Całkowity czas na wykonanie testu pisemnego wynosi **60 minut**.

ZADANIE I (0 – 5 p.) Poniżej znajduje się mapka przedstawiająca siedem cudów świata starożytnego. Korzystając z informacji ze źródła i własnej wiedzy odpowiedz na pytania umieszczone pod mapką. Odpowiedzi zapisz przy odpowiednich cyfrach w **KARCIE ODPOWIEDZI**.



Źródło: <http://zhistorii.blogspot.com/2014/05/siedem-cudow-swiata-starozytnego-czyli.html>

1. Jaką funkcję pełnił Kolos Rodyjski?
2. W którym mieście znajdował się Posąg Zeusa?
3. W którym państwie znajdowały się wiszące ogrody?
4. Na którym ze starożytnych obszarów wybudowano najwięcej „cudów”?
5. Który z siedmiu cudów świata istnieje do dziś?

ZADANIE II (0 – 4 p.) Uzupełnij poniższy tekst dotyczący religii. Przy odpowiednich cyfrach w **KARCIE ODPOWIEDZI** wpisz brakujące słowa.

Wierzenia najstarszych cywilizacji miały charakter (1), ponieważ opierały się na wierze w wielu bogów. Pierwszą religią monoteistyczną był (2), który zakładał wiarę w boga Jahwe. W oparciu o jej założenia w Palestynie w I w. n.e. narodziło się (3), W VII w. n.e. na terenie Półwyspu Arabskiego powstała kolejna religia monoteistyczna – (4)

ZADANIE III (0 – 6 p.) Do podanych poniżej informacji dopisz rok, w którym miały miejsce, następnie oblicz, ile lat upłynęło od poszczególnych wydarzeń do 2019 roku. Odpowiedzi zapisz w **KARCIE ODPOWIEDZI**.

1. powstanie miasta Rzym,
2. pierwsze igrzyska w starożytnej Grecji,
3. upadek cesarstwa zachodniorzymskiego.



ZADANIE IV (0 – 3 p.) Połącz odpowiednio pojęcia z określeniami, wpisując do tabeli w KARCIE ODPOWIEDZI przy odpowiednie litery.

ARABESKA	A. Ozdobne tkaniny wykonane z delikatnej wełny, jedwabiu przeznaczone do zawieszenia na ścianach.
MINIATURA	B. Malowidła ściennie wykonywane na mokrym tynku farbami zmieszany z wodą.
ARRAS	C. Rysunki przedstawiające figury geometryczne i motywy roślinne, stosowane w sztuce arabskiej do ozdabiania murów budynków, ścian i przedmiotów.
	D. Małe, barwne obrazki, malowane na kartach pergaminu, później także na porcelanie.

ZADANIE V (0 – 5 p.) Uzupełnij tekst wybierając odpowiednie słowa z nawiasów i wpisz je przy odpowiednich cyfrach w KARCIE ODPOWIEDZI:

Zjednoczenia plemion (**1 – Franków, Wandalów**) dokonał Chlodwig, który przyjął chrzest w 496 roku. Od VIII do X wieku w państwie Franków panowała dynastia (**2 – Merowingów, Karolingów**). Jej najwybitniejszym przedstawicielem był (**3 – Karol Wielki, Karol Młot**), który prowadził wiele wojen i poszerzył granice swego państwa. W roku 800 został on koronowany przez papieża na (**4 – króla, cesarza**). Monarchia została podzielona po jego śmierci na trzy części w 843 roku na mocy postanowień traktatu w Verdun pomiędzy jego (**5 – synów, wnuków**).

ZADANIE VI (0 – 5 p.) Nazwij wydarzenia przedstawione na ilustracjach i uzupełnij zdania umieszczone pod nimi. Odpowiedzi wpisz do KARTY ODPOWIEDZI.

A	B
 <p style="font-size: small;">W. Boratyński mal. PASOWANIE NA RYCERZA.</p>	

Źródło: A <http://www.bikop.eu/Content/383/20121121-0534.jpg>

B <http://blogiceo.nq.pl/turniejerycerskie/turnieje/>

Obie ilustracje nawiązują do kultury czasów (1), w których ukształtował się podział społeczeństwa na (2), z których każdy stworzył własną kulturę. Ilustracje nawiązują do kultury (3)

ZADANIE VII (0 – 2 p.) Przeczytaj uważnie wyjaśnienia pojęć związanych z sytuacją w Kościele przed wystąpieniem Marcina Lutra. Przy odpowiednich cyfrach w KARCIE ODPOWIEDZI wpisz ich nazwy.

1. Sprzedawanie godności i sakramentów kościelnych; świętokupstwo.
2. Faworyzowanie krewnych przy rozdawaniu godności lub stanowisk.

ZADANIE VIII (0 – 3p.) Połącz odpowiednio postacie z informacjami. Do tabeli w KARCIE ODPOWIEDZI wpisz odpowiednio litery.

POSTAĆ	INFORMACJA
Leonardo da Vinci	A. (1475-1564), jeden z najwybitniejszych artystów epoki renesansu; rzeźbiarz, malarz, architekt i poeta. Autor rzeźb „Pieta”, „Dawid”, „Mojżesz” i fresków w Kaplicy Sykstyńskiej.
Michał Anioł	B. 1444-1514), włoski architekt i malarz epoki renesansu. Zaprojektował prezbiterium i kopułę kościoła Santa Maria delle Grazie w Mediolanie, stworzył pierwotny projekt bazyliki Św. Piotra, rozbudował Pałac Watykański.
Rafael Santi	C. (1452-1519), włoski malarz, rzeźbiarz, architekt, konstruktor, teoretyk sztuki, filozof, wszechstronny i najdoskonalszy przedstawiciel renesansu. Autor obrazów „Dama z gronostajem”, „Madonny wśród skał” i malowidła ściennego „Ostatnia wieczerza”.
	D. (1483-1520), włoski malarz i architekt renesansu. Autor obrazów „Madonna Sykstyńska”, „Piękna ogrodniczka”. Kierował budową bazyliki Św. Piotra w Rzymie.

ZADANIE IX (0 – 5 p.) Poniżej znajduje się 5 pytań do których przygotowano po cztery odpowiedzi, z których tylko jedna jest prawdziwa. Do tabeli w KARCIE ODPOWIEDZI przy odpowiednich cyfrach wpisz litery oznaczające prawidłową odpowiedź.

1. Marcin Luter w swoich „95 tezach”, które wywiesił na drzwiach kościoła w Wittenberdze potępił:
 - A. wojny religijne,
 - B. bogactwo Kościoła,
 - C. sprzedaż odpustów,
 - D. kult świętych.
2. Jan Kalwin głosił naukę o predestynacji, która zakładała, że:
 - A. najważniejsza w wyznawaniu wiary jest „Biblia”,
 - B. losy człowieka z góry określone są przez wolę Boga,
 - C. papież jest zwierzchnikiem Kościoła,
 - D. wierni powinni podporządkować swoje życie religii.
3. W XVI wieku w Anglii powstało wyznanie chrześcijańskie, którego główną cechą było:
 - A. odrzucenie zwierzchnictwa papieża,
 - B. utrzymanie klasztorów i dóbr kościelnych,
 - C. wprowadzenie nowych dogmatów i obrzędów,
 - D. nawiązanie do religii islamu.
4. Zasadę tolerancji religijnej na mocy edyktu nantejskiego wprowadzono pod koniec XVI wieku na terenie:
 - A. Niemiec,
 - B. Szwajcarii,
 - C. Niderlandów,
 - D. Francji.
5. Zasadę „czyj kraj, tego religia” wprowadzono po wojnach religijnych w:
 - A. Niemczech,
 - B. Szwajcarii,
 - C. Francji,
 - D. Niderlandach.

ZADANIE X (0 – 6 p.) Rozwiąż krzyżówkę znajdującą się w KARCIE ODPOWIEDZI.

1. Włoski żeglarz, podróżnik, pod koniec XV wieku odkrył nowy kontynent – Amerykę.
2. Nazwisko włoskiego podróżnika, od którego imienia nazwano odkryty kontynent – Amerykę.
3. Imię portugalskiego odkrywcy, który jako pierwszy Europejczyk dotarł drogą morską do Indii.
4. Posiadłości zamorskie państw europejskich zakładane na nowo odkrytych terenach.
5. Żeglarz portugalski w służbie hiszpańskiej, zorganizował pierwszą podróż dookoła świata, w czasie której zginął.
6. Duży obszar przeznaczony pod uprawę roślin jednego gatunku.

ZADANIE XI (0 – 4 p.) Poniżej umieszczono cztery zdania dotyczące rewolucji francuskiej. Oceń prawdziwość tych zdań. Przy cyfrach w KARCIE ODPOWIEDZI wpisz odpowiednio słowo „prawda” lub „fałsz”.

1. Wielka rewolucja francuska doprowadziła do zmiany ustroju i obalenia rządów dynastii Burbonów we Francji.
2. Do tzw. „stanu trzeciego” przed rewolucją należała szlachta i duchowieństwo.
3. Za symboliczny początek rewolucji uznaje się zdobycie Bastylii przez paryskich mieszczan w dniu 14 lipca 1789 roku.
4. W sierpniu 1789 roku Zgromadzenie Narodowe uchwaliło „Deklarację Niepodległości”, która gwarantowała obywatelom wolność, własność, bezpieczeństwo i prawo do oporu przeciwko uciskowi.

ZADANIE XII (0 – 2 p.) Poniżej znajdują się biogramy dwóch Polaków, którzy brali udział w wojnie o niepodległość Stanów Zjednoczonych. Przeczytaj je uważnie i przy odpowiednich cyfrach w KARCIE ODPOWIEDZI wpisz ich imiona i nazwiska.

1. Po klęsce konfederacji barskiej udał się na emigrację i przybył do Ameryki Północnej w 1777 roku. Jest uważany za twórcę kawalerii amerykańskiej. Awansowany na generała brygady przez samego Jerzego Waszyngtona, pokonał m.in. Anglików w bitwie pod Charleston (1779). Został ranny w czasie walk pod Savannah (1779) i po tej bitwie, w wyniku odniesionych ran zmarł";.
2. Przybył na kontynent amerykański w roku 1776 i zajął się tam pracami inżynieryjnymi i saperskimi, budując m.in. fortyfikacje Filadelfii. Był też twórcą fortu w West Point. W uznaniu zasług Kongres Stanów Zjednoczonych przyznał mu stopień generała brygady i znaczne nadania ziemi.

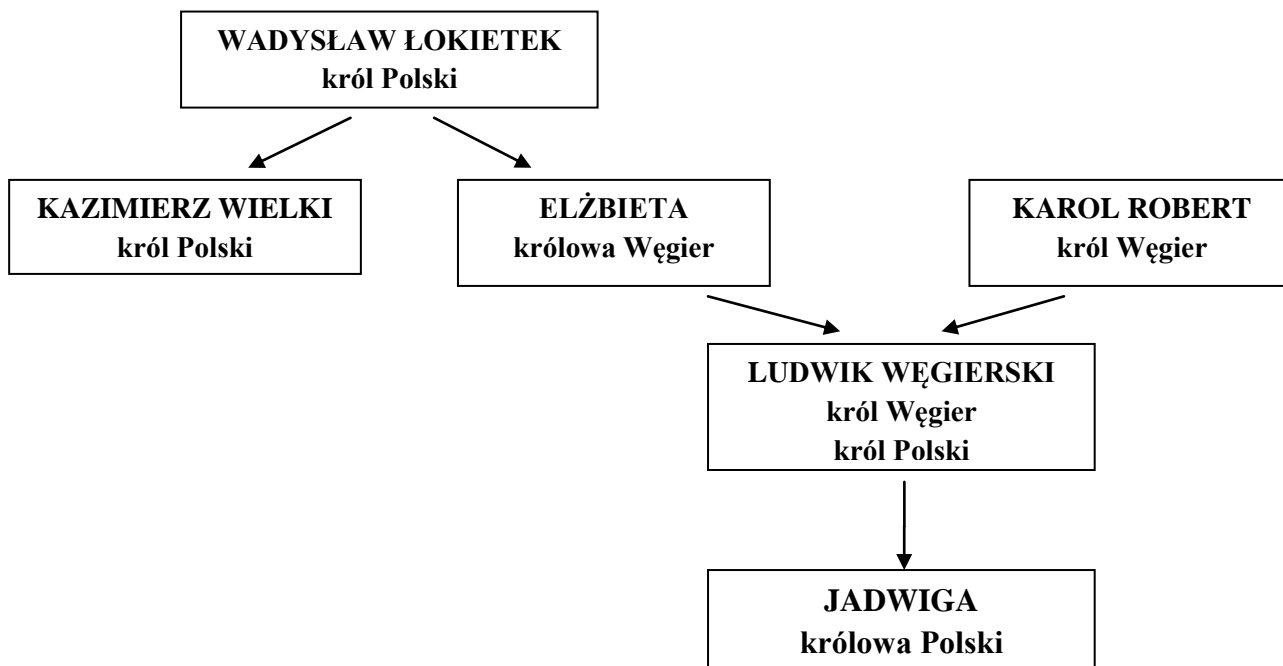
ZADANIE XIII (0 – 6 p.) Przeanalizuj mapę znajdującą się poniżej. Następnie korzystając z informacji na niej zawartych i własnej wiedzy uzupełnij zdania. Przy odpowiednich cyfrach w KARCIE ODPOWIEDZI dopisz poprawne ich zakończenie.

1. Mapa przedstawia terytorium państwa polskiego w wieku
2. W czasie swego panowania Mieszko I podporządkował sobie na północy tereny zajmowane przez plemiona
3. W czasie rządów Mieszka I do Polski należały przejściowo
4. Plemieniem śląskim, które swą nazwę wzięło od góry było plemię
5. W czasie bitwy pod Cedynią Mieszko I pokonał siły margrabiego
6. Po śmierci Mieszka I władzę w Polsce objął



Źródło: <http://wlawczpolske.pl/index.php?etap=10&i=803>

ZADANIE XIV (0 – 5 p.) Przeanalizuj fragment drzewa genealogicznego przedstawiającego związku Piastów z Andegawenami. Następnie uzupełnij zdania dotyczące koligacji rodzinnych umieszczone w KARCIE ODPOWIEDZI.



ZADANIE XV (0 – 5 p.) W KARCIE ODPOWIEDZI napisz, od którego wieku stolicą Polski były:

- Kraków,
- Warszawa.

Odpowiedz również na pytania:

1. Jak nazywał się gród, który był pierwszą stolicą państwa polskiego?
2. Kto przeniósł stolicę Polski z Gniezna do Krakowa?
3. Kto przeniósł stolicę Polski z Krakowa do Warszawy?

ZADANIE XVI (0 – 6 p.) Do tabeli znajdującej się w KARCIE ODPOWIEDZI wpisz odpowiednio informacje dotyczące unii polsko – litewskich.

- * przyjęcie chrztu przez Litwę,
- * powstanie Rzeczypospolitej Obojga Narodów,
- * wspólny sejm polsko – litewski,
- * przyłączenie ziem Litwy i Rusi do Korony Królestwa Polskiego,
- * takie same przywileje dla szlachty polskiej i litewskiej,
- * włączenie Podlasia, Wołynia, Podlasia i Ukrainy do Korony Polskiej.


ZADANIE XVII (0 – 6 p.) Uzupełnij tekst dotyczący sejmu walnego w Polsce. Przy odpowiednich cyfrach w KARCIE ODPOWIEDZI wpisz brakujące informacje.

Pierwsze obrady sejmu walnego odbyły się pod koniec (1) wieku za panowania króla (2) Sejm składał się z trzech stanów sejmujących: króla, (3), izby poselskiej. Obrady sejmu miały odbywać się raz na (4) lata. Pierwszy sejm elekcyjny odbył się w roku (5) Pierwszym królem elekcyjnym został (6)

ZADANIE XVIII (0 – 7 p.) Do tabeli znajdującej się w KARCIE ODPOWIEDZI wpisz odpowiednio miejsca bitew wojsk polskich wymienione poniżej.


- Cecora
- Oliwa
- Legnica
- Płowce
- Grunwald
- Wiedeń
- Świecino

ZADANIE XIX (0 – 5 p.) Poniżej znajduje się satyryczna rycina zatytułowana „Alegoria pierwszego rozbioru Polski”. Na podstawie własnej wiedzy i informacji z ryciny w KARCIE ODPOWIEDZI odpowiedz na pytania znajdujące się poniżej. (Źródło: https://pl.wikipedia.org/wiki/I_rozbi%C3%B3r_Polski)



1. W którym wieku miało miejsce przedstawione na ilustracji wydarzenie?
2. Jaki obszar został przedstawiony na mapie?
3. Jak ma na imię kobieta siedząca na krześle?
4. Władcami których państw są mężczyźni widoczni na ilustracji?
5. O czym dyskutują ci władcy?

ZADANIE XX (0 – 4 p.) Rozpoznaj style architektoniczne, w których wzniesiono poniższe budowle. Przy odpowiednich literach w KARCIE ODPOWIEDZI wpisz nazwy stylów.



Źródła: <http://wlaczpolske.pl/index.php?etap=10&i=1216>, https://pl.wikipedia.org/wiki/Muzeum_Historii_Miasta_Poznania,
<https://www.historiaposzukaj.pl>

ZADANIE XXI (0 – 6 p.) Uzupełnij tabelę znajdującą się w KARCIE ODPOWIEDZI wpisując odpowiednio w puste miejsca **po jednym wydarzeniu** z poniższej ramki.

<p>* likwidacja państwa polskiego * konfederacja targowicka *</p> <p>* utrata Pomorza Gdańskiego * konfederacja barska *</p> <p>* powstanie kościuszkowskie * utrata Ukrainy i Podola *</p>

KARTA ODPOWIEDZI UCZNIĄ

Wojewódzki Konkurs Przedmiotowy z Historii dla uczniów szkół podstawowych
województwa kujawsko-pomorskiego – etap szkolny – data: 21. 10. 2019 r.

Kod ucznia: _____

Wynik: _____/100 pkt.

ZADANIE I (0 – 5 p.)

1.
2.
3.
4.
5.

ZADANIE II (0 – 4 p.)

1.
2.
3.
4.

ZADANIE III (0 – 6 p.)

1. rok wydarzenia upłynęło lat;
2. rok wydarzenia upłynęło lat;
3. rok wydarzenia upłynęło lat.

ZADANIE IV (0 – 3 p.)

ARABESKA	MINIATURA	ARRAS

ZADANIE V (0 – 5 p.)

1.
2.
3.
4.
5.

ZADANIE VI (0 – 5 p.)

Ilustracja A przedstawia

Ilustracja B przedstawia

1.
2.
3.

ZADANIE VII (0 – 2 p.)

1.
2.

ZADANIE VIII (0 – 3 p.)

LEONARDO DA VINCI	MICHAŁ ANIOŁ	RAFAEL SANTI

ZADANIE IX (0 – 5 p.)

1	2	3	4	5

ZADANIE X (0 – 6 p.)

						1			
2									
		3							
	4								
									5
			6						

ZADANIE XI (0 – 4 p.)

1.
2.
3.
4.

ZADANIE XII (0 – 2 p.)

1.
2.

ZADANIE XIII (0 – 6 p.)

1.
2.
3.
4.
5.
6.

ZADANIE XIV (0 – 5 p.)

Elżbieta była Władysława Łokietka.
Ludwik Węgierski był Kazimierza Wielkiego.
Karol Robert był Kazimierza Wielkiego.
Jadwiga była Elżbiety.
Władysław Łokietek był Karola Roberta.

ZADANIE XV (0 – 5 p.)

- Kraków - wiek.
 - Warszawa - wiek.
1.
 2.
 3.

ZADANIE XVI (0 – 6 p.)

UNIA POLSKO – LITEWSKA W	
KREWIE	LUBLINIE

ZADANIE XVII (0 – 6 p.)

1.
2.
3.
4.
5.
6.

ZADANIE XVIII (0 – 7 p.)

BITWY STOCZONE W CZASACH:		
PIASTÓW	JAGIELLONÓW	KRÓLÓW ELEKCYJNYCH

ZADANIE XIX (0 – 5 p.)

1.
2.
3.
4.
5.

ZADANIE XX (0 – 4 p.)

- A.
- B.
- C.
- D.

ZADANIE XXI (0 – 6 p.)

PRZYCZYNA – wydarzenie poprzedzające rozbiór	ROZBIÓR POLSKI	SKUTEK – następstwo rozbioru
	PIERWSZY ROZBIÓR	
	DRUGI ROZBIÓR	
	TRZECI ROZBIÓR	