

**Wojewódzki Konkurs Przedmiotowy
z Historii dla uczniów gimnazjów
województwa kujawsko-pomorskiego**

Etap wojewódzki – data: 21. 02. 2019 r.

Instrukcja dla ucznia

Zanim przystąpisz do rozwiązywania testu, przeczytaj uważnie poniższą instrukcję.

1. Wpisz w wyznaczonym miejscu na **TEŚCIE** i **KARCIE ODPOWIEDZI** swój kod ustalony przez Komisję Konkursową. **Nie wpisuj** swojego imienia i nazwiska.
2. Przed rozpoczęciem pracy sprawdź, czy twój arkusz testowy jest kompletny. Niniejszy arkusz testowy składa się z 14 stron i zawiera 18 zadań. Jeśli zauważysz jakiegokolwiek braki lub błędy w druku, zgłoś je natychmiast Komisji Konkursowej.
3. Przeczytaj uważnie i ze zrozumieniem polecenia i wskazówki do każdego zadania.
4. Odpowiedzi zapisuj w **KARCIE ODPOWIEDZI** długopisem z czarnym lub niebieskim tuszem.
5. Dbaj o czytelność pisma i precyzję odpowiedzi. W zadaniach wielokrotnego wyboru poprawne odpowiedzi zaznaczaj zgodnie z poleceniem.
6. Nie używaj korektora. Jeżeli pomylisz się, błędną odpowiedź otocz kółkiem i ponownie udziel poprawnej odpowiedzi. Oceniane będą tylko odpowiedzi, które zostały zaznaczone lub wpisane zgodnie z poleceniem i umieszczone w miejscu do tego przeznaczonym.
7. Przy każdym zadaniu podano maksymalną liczbę punktów, którą można uzyskać.
8. Na ostatniej stronie testu znajdziesz miejsce na brudnopis. **Brudnopis nie podlega ocenie.**
9. Pracuj samodzielnie.
10. Nie wolno wносить telefonów komórkowych na konkurs.
11. Całkowity czas na wykonanie testu pisemnego wynosi **90 minut.**

ZADANIE 1 (0 – 8 p.) Obejrzyj ilustrację i wykorzystując własną wiedzę odpowiedz na pytania umieszczone poniżej. Przenieś rozwiązania na Kartę Odpowiedzi .

1. Czy religia w starożytnym Egipcie miała charakter monoteistyczny? Uzasadnij. (2 punkty)
2. Jak nazywa się bóg, którego sąd nad duszą zmarłego przedstawia ilustracja? (1 punkt)
3. Co znajduje się na szalkach wagi tego boga? (2 punkty)
4. Jak nazywa się bogini, która była żoną wspomnianego boga? (1 punkt)
5. Jak nazywają się grobowce faraonów? (1 punkt)
6. Co robili Egipcjanie ze zwłokami, zanim umieścili je w sarkofagu? (1 punkt)



Źródło: Tadeusz Andrzejewski, Dusze boga Re, PWN, Warszawa 1967.

ZADANIE 2 (0 – 10 p.) Uzupełnij brakujące elementy tabeli. Przenieś rozwiązania na Kartę Odpowiedzi.

IMIĘ BOGA GRECKIEGO	IMIĘ BOGA RZYMSKIEGO	DZIEDZINA OPIEKI
Zeus	Jowisz	ojciec bogów
Afrodyta		
	Mars	
Dionizos		bóg winnej latorośli
	Junona	bogini ogniska domowego
Posejdon		
	Pluton	

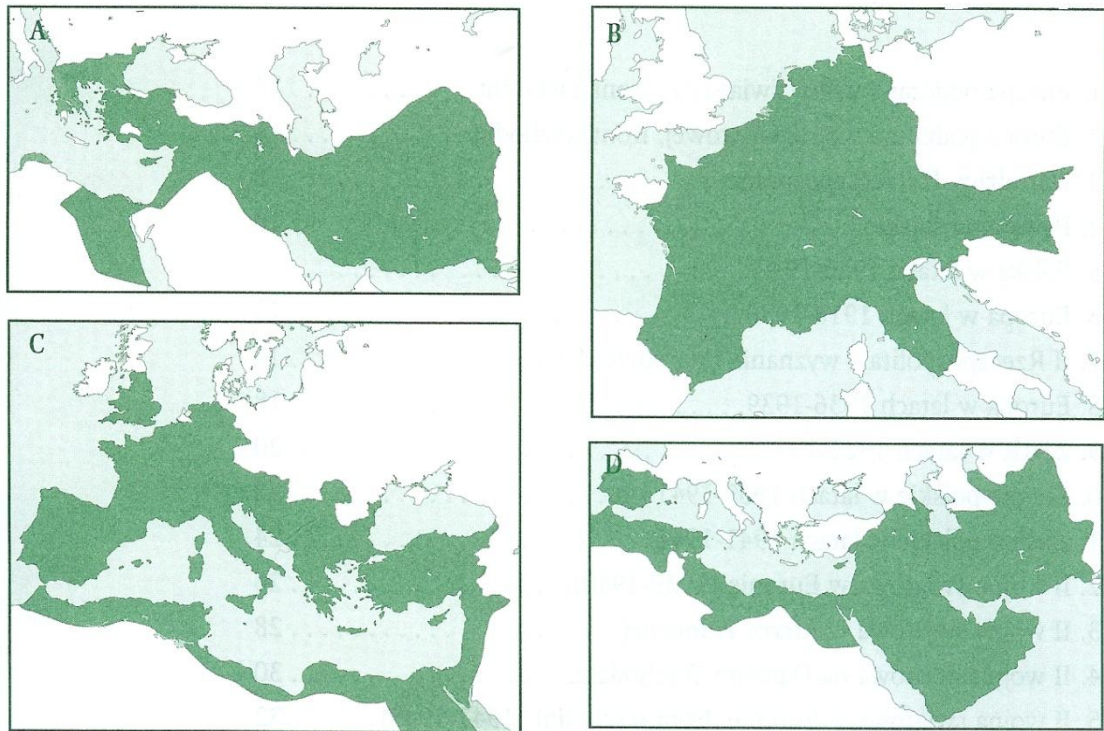
ZADANIE 3 (0 – 9 p.) Pod literami A, B i C umieszczono święte księgi trzech religii monoteistycznych. Obejrzyj ilustracje i odpowiedz na pytania umieszczone poniżej. Przenieś rozwiązania na Kartę Odpowiedzi.



1. Ilustracja z literą A przedstawia, źródło objawione
2. Świątynia tej religii
3. Ilustracja z literą B przedstawia, źródło objawione
4. Świątynia tej religii
5. Ilustracja z literą C przedstawia, źródło objawione
6. Świątynia tej religii

ZADANIE 4 (0 – 8 p.) Na podstawie mapek konturowych i wiedzy własnej uzupełnij tabelę i zaznacz odpowiedzi prawdziwe lub fałszywe. Przenieś rozwiązania na Kartę Odpowiedzi .

LP.	ZDANIE	PRAWDA	FALSZ
1.	Mapka A dotyczy państwa stworzonego przez Aleksandra Macedońskiego w II w. p. n.e.		
2.	W skład monarchii hellenistycznych wchodziły obszary w Azji do rzeki Indus, w Afryce nad rzeką Nil, oraz w Europie Półwysep Bałkański.		
3.	Mapka B przedstawia państwo stworzone przez Karola Wielkiego do 814 r. n.e.		
4.	Karol Wielki oparł swoje państwo o rzeki Łabę na zachodzie i Ebro na Półwyspie Iberyjskim.		
5.	Mapka C przedstawia zasięg Cesarstwa Rzymskiego po bitwie pod Kannami w 216 r. p. n. e.		
6.	Zasięg imperium Rzymskiego w I w. n. e. obejmował część Brytanii, Galie Zaalpejską (dzisiejszą Francję) oraz ziemie Sasów, czyli część Niemiec.		
7.	Mapka D dotyczy podbojów Arabów do V w. n.e.		
8.	Po klęsce pod Poitiers w 732 r. n.e. Arabowie pokonani przez Franków opanowali tylko Półwysep Iberyjski i zatrzymali się na rzece Ebro.		



Źródło: W. Chybowski, *Historia. Zeszyt do ćwiczeń na mapach konturowych*, Warszawa 2004.

ZADANIE 5 (0 – 8 p.) Przeczytaj tekst źródłowy i odpowiedz na poniższe pytania korzystając ze źródła i wiedzy własnej. Przenieś rozwiązania na Kartę Odpowiedzi.

1. Ile dni słonecznych przeżył w czasie wyprawy Amerigo Vesputti? (1 punkt)
2. Jakie instrumenty nawigacyjne pomogły w żegludze podróżnikom? (2 punkty)
3. Jaka dziedzina wiedzy uczyniła z żeglarza znawcę mórz? (1 punkt)
4. Jaki kontynent określono w tekście jako nowoodkryty i skąd pochodzi jego nazwa (2 punkty)
5. Jak nazywał się pierwszy żeglarz, który dopłynął do środkowej części tego kontynentu i kiedy tego dokonał? (2 punkty)

Amerigo Vesputti - o trudach żeglugi po Atlantyku , przeł. J. Szymanowska

Ile naprawdę wycierpieliśmy w bezmiarze morza, jakich doświadczyliśmy niebezpieczeństwa zatonięcia, jak wiele musieliśmy znieść katuszy, ile razy życie stawało się nam obmierzłe, osąd mogą mieć tylko ci, którzy z własnego doświadczenia dobrze wiedzą, jak trudno jest szukać rzeczy niepewnych i wyprawiać się do miejsc, gdzie nie postąpiła ludzka stopa. I żeby rzecz całą w dwóch słowach wyłożyć, dowiedz się, że w ciągu 67 dni żeglugi przez 44 dni nic, tylko lało, grzmiało i błyskało, ciemności zasnuły niebo, tak że nie wiedzieliśmy w dzień słońca, a w nocy jasnego nieba. W końcu oświadczyła nam taka trwoga, że straciliśmy wszelką nadzieję na ocalenie życia (...)

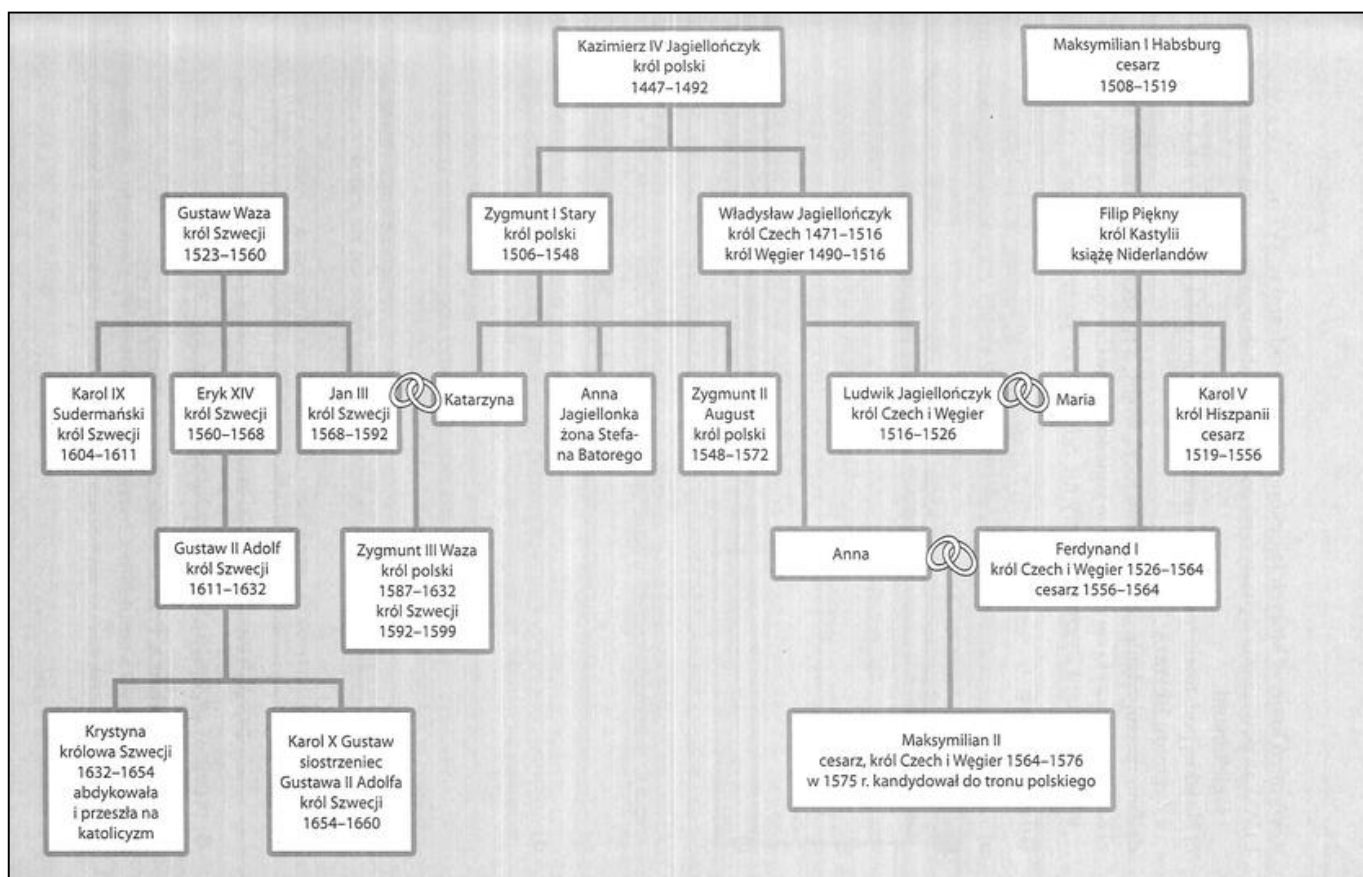
*Nie wspomniałem jeszcze, że **nowo odkryty kontynent** jest odległy od Zielonego Przylądka prawie 700 mil, choć byłem wówczas przekonany, że przepłynęliśmy ich ponad 1800; wpłynęły na to po części nieznanostwo tych stron i nieuctwo sternika, po części burze i wiatry, które spychając nas z kursu, przeszkodziły prostej podróży. Tak więc znaleźliśmy się w punkcie, w którym z winy niesumiennego sternika życie nasze zakończyłoby swój bieg, gdyby nie moja znajomość kosmografii, nie było bowiem wśród nas nikogo, kto orientowałby się nawet z dokładnością do 500 mil, gdzie jesteśmy. Błąkaliśmy się zatem i błędzili, nie wiedząc dokąd zmierzamy, gdybym ja sam nie zatroszczył się o ocalenie własnej i towarzyszy i nie posłużył się astrolabium i kwadrantem dla ustalenia ciał niebieskich, czym przysporzyłem sobie niemaliej*

chwały. Dowiodłem im, że bez praktycznego doświadczenia, a jedynie dzięki wiedzy na mapach morskich, byłem lepszy od wszelkich sterników świata. Nieobeznani z kosmografią – są w porównaniu ze mną całkowitymi ignorantami; znają tylko wody, po których często pływali.

Źródło: Michał Kopczyński, *Poznać przeszłość. Zrozumieć dziś*, Warszawa 2006.

ZADANIE 6 (0 – 10 p.) Przyjrzyj się drzewu genealogicznemu i wykonaj zadania. Skorzystaj z wiedzy ze źródła i własnej. Przenieś rozwiązanie na Kartę Odpowiedzi.

1. Wymień kraje, w których Jagiellonowie byli władcami w XVI wieku. (4 punkty)
2. Z jakimi dynastiami byli powiązani dynastycznie Jagiellonowie w XVI wieku? (2 punkty)
3. Na jakiej podstawie rościli sobie pretensje do tronu polskiego cesarz Maksymilian II i Zygmunt III Waza? (2 punkty)
4. Kiedy zakończyło się panowanie Jagiellonów w Czechach i na Węgrzech? Jakie wydarzenie było związane z tą datą? (2 punkty)




Źródło: Wojciech Kalwat, *Poznać przeszłość. Zrozumieć dziś*, Warszawa 2006.

ZADANIE 7 (0 – 6 p.) Rozpoznaj umieszczone na karykaturach postacie wybitnych biologów i odkrywców z XIX stulecia. Uzupełnij zdania dotyczące ich teorii. Przenieś rozwiązanie na Kartę Odpowiedzi.


Karykatura A przedstawia (nazwisko), uczonego pochodzącego z (państwo), który w połowie XIX wieku sformułował teorię (nazwa), a odkrycie opublikował w monografii „O powstawaniu gatunków”.

Karykatura B przedstawia (nazwisko), uczonego pochodzącego z (państwo), który odkrył (rodzaj odkrycia).



Źródło: Magazyn Hornet, 1871 oraz Źródło: <http://images.fineartamerica.com/images-medium-large/1-louis-pasteur-1822-1895-granger.jpg>
[dostęp: 19.01.2019].

ZADANIE 8 (0 – 4 p.) Obejrzyj ilustracje i odpowiedz na pytanie: **„W jakim stylu są zbudowane przedstawione poniżej budowle?”** Przenieś rozwiązania na Kartę Odpowiedzi.



ZADANIE 9 (0 – 10 p.) Poniżej znajduje się 10 pytań. Wybierz jedną prawidłową spośród niżej wymienionych. Do tabeli w Karcie Odpowiedzi przy odpowiednich cyfrach wpisz litery oznaczające prawidłową odpowiedź.

1. Dnia 28 czerwca 1914 roku serbski student Gawriło Princip zabił w Sarajewie następcę tronu:
 - a. Cesarstwa Rosyjskiego, Mikołaja III,
 - b. Bawarii, Franciszka I,
 - c. Austro – Węgier, Franciszka Ferdynanda,
 - d. Cesarstwa Niemieckiego, Franciszka Ferdynanda.
2. W skład Ententy wchodziły państwa:
 - a. Niemcy, Austro – Węgry i Włochy,
 - b. Anglia, Francja i Rosja,
 - c. Niemcy, Austro – Węgry, Turcja, Bułgaria,
 - d. Anglia, Francja, Japonia.
3. Na froncie zachodnim w 1914 roku odbyła się bitwa nad:
 - a. Marną,
 - b. Sommą,
 - c. Renem,
 - d. Łabą.
4. W bitwie pod Tannenbergiem wojska niemieckie pod dowództwem P. Hindenburga i E. Ludendorffa pokonały Rosjan w roku:
 - a. 1914,
 - b. 1915,
 - c. 1916,
 - d. 1917.
5. Całe Królestwo Polskie znalazło się pod wpływem Niemiec i Austro – Węgier po bitwie pod:
 - a. Kaliszem,
 - b. Gorlicami,
 - c. Jeziorami Mazurskimi,
 - d. Tannenbergiem.
6. Wojsko angielskie po raz pierwszy zastosowało czołgi w bitwie nad:
 - a. Garonną,
 - b. Sekwaną,
 - c. Sommą,
 - d. Loarą.
7. Do przymiotników, które określają I wojnę światową nie można zaliczyć:
 - a. pozycyjna,
 - b. błyskawiczna,
 - c. totalna,
 - d. zimna.
8. Stany Zjednoczone przystąpiły do I wojny światowej po stronie ententy w roku:
 - a. 1915,
 - b. 1916,
 - c. 1917,
 - d. 1918.

9. Dania 8 stycznia 1918 roku 14 punktowe orędzie dotyczące światowego pokoju ogłosił prezydent USA:
- James Monroe,
 - Franklin Delano Roosevelt,
 - Woodrow Wilson,
 - Abraham Lincoln.
10. Na mocy postanowień traktatu wersalskiego z dnia 28 czerwca 1919 roku zawarto traktat pokojowy z:
- Turcją,
 - Niemcami,
 - Austrią,
 - Bułgarią.

ZADANIE 10 (0 – 4 p.) Do podanych władców z historii Polski dopisz po dwóch, którzy przed nimi rządili. Przenieś rozwiązania na Kartę Odpowiedzi.

- | | |
|------------------------|----------------------|
| 1. Mieszko II | 3. Zygmunt II August |
| 2. Bolesław Krzywousty | 4. Jan Kazimierz |

ZADANIE 11 (0 – 6 p.) Ważne miasta w historii Polski. Zaznacz poprawne zakończenie poniższych zdań. Przenieś rozwiązania na Kartę Odpowiedzi.

1. Miasto lokowane w 1243 roku, często pełniło funkcje stołeczne, siedziba arcybiskupa, zniszczył je najazd Brzetysława czeskiego w 1038 roku, to:

a. Poznań b. Kraków c. Gniezno d. Warszawa

2. Miasto lokowane w 1257 roku, stolica Małopolski, Kazimierz Odnowiciel ustanowił tam swoją stolicę, zniszczone przez najazdy tatarskie w 1241 i 1260 roku, to:

a. Kalisz b. Kraków c. Gniezno d. Toruń

3. Miasto lokowane w 1233 roku, miejsce dwóch traktatów z Zakonem Krzyżackim, Kazimierz Jagiellończyk odwiedził je 13 razy, w dobie rozbiorów w granicach Prus, od 18 stycznia 1920 roku w granicach Polski, to:

a. Toruń b. Kraków c. Gdańsk d. Poznań

4. Miasto lokowane w 1235 roku, w 1308 roku podstępnie zajęte przez Krzyżaków, przez 158 lat pod ich wpływem; polskie, nadbałtyckie okno na świat, członek Hanzy, w dobie rozbiorów w granicach Prus, w czasach napoleońskich Wolne Miasto, to:

a. Kalisz b. Warszawa c. Poznań d. Gdańsk

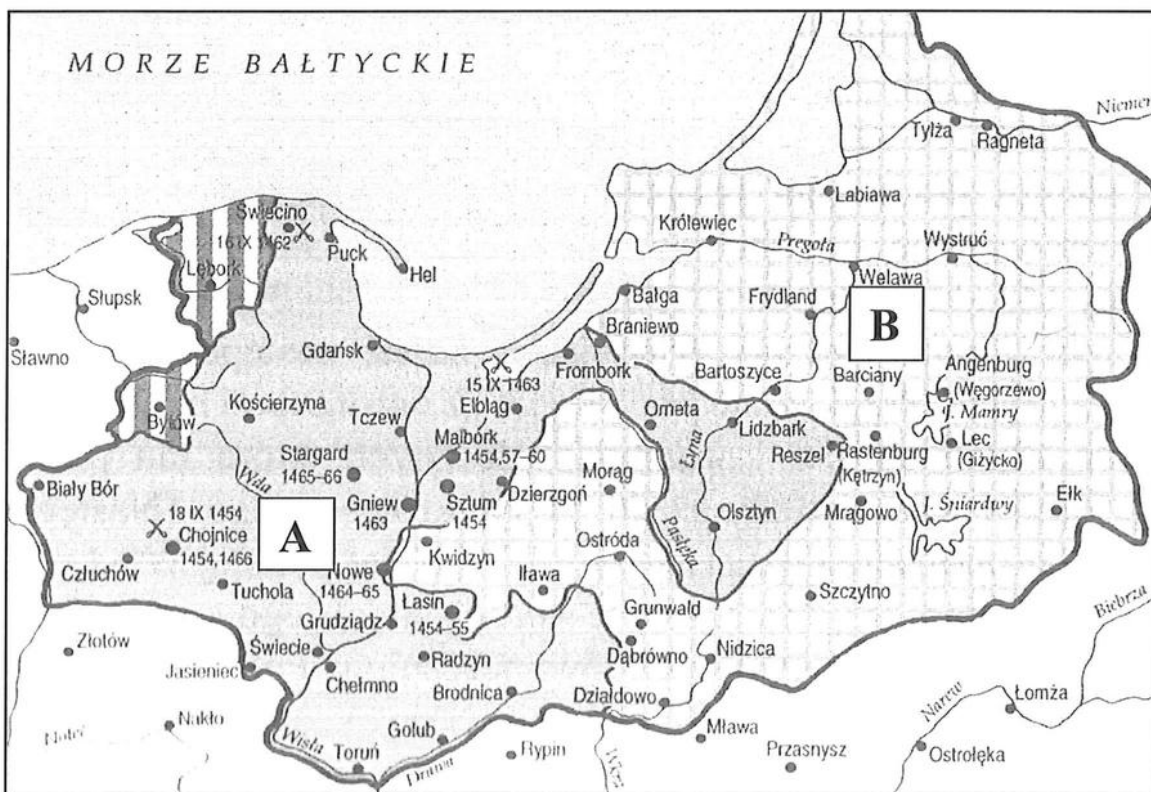
5. Miasto lokowane w 1253 roku, najstarszy ośrodek miejski na ziemiach polskich, wymienione w źródłach w II w. n. e. na szlaku bursztynowym, miejsce pokoju z Krzyżakami w 1343 roku, ośrodek działalności liberalnej opozycji w Królestwie Polskim prowadzonej przez Bonawenturę i Wincentego Niemojowskich przed wybuchem powstania listopadowego, to:

a. Warszawa b. Płock c. Kalisz d. Kraków

6. Miasto lokowane w 1300 r., od unii lubelskiej w 1569 r. miejsce obrad sejmiku Rzeczypospolitej Obojga Narodów, w 1596 r. przeniesiono tam siedzibę dworu królewskiego to:

a. Wrocław b. Warszawa c. Kutno d. Sandomierz

ZADANIE 12 (0 – 8 p.) Obejrzyj mapę i wybierz z dwóch możliwości prawidłowe zakończenie zdania, korzystając z wiedzy ze źródła i własnej. Przenieś rozwiązania na Kartę Odpowiedzi.

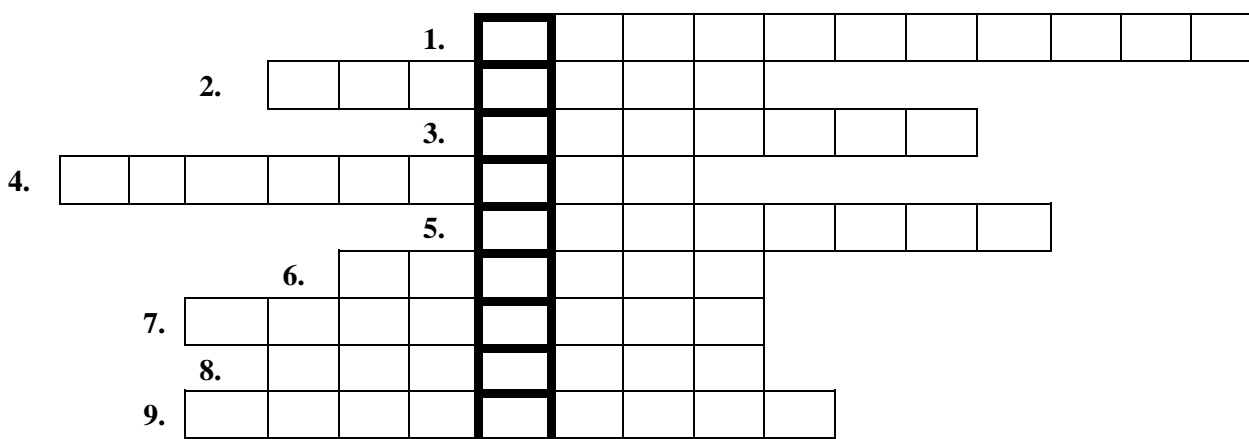


Źródło: A. Dybkowska, J. Żaryn, *Polskie dzieje*, Warszawa 2002.

LP.	ZDANIE	ZAKOŃCZENIE A	ZAKOŃCZENIE B
1.	Mapka przedstawia warunki	I pokoju toruńskiego	II pokoju toruńskiego
2.	Bitwa pod Chojnicami zakończyła się	kłęską wojsk polskich	zwycięstwem wojsk polskich
3.	W bitwie pod Świecinem po stronie polskiej dowodził	Zawisza Czarny	Piotr Dunin
4.	Bitwa na Zalewie Wiślanym zakończyła się	kłęską floty Zakonu Krzyżackiego	kłęską polskich kaprów
5.	Malbork z rąk najemników czeskich wykupił dla Korony	Władysław Jagiełło	Kazimierz Jagiellończyk
6.	Terytorium zaznaczone literką A to	Prusy Zakonne	Prusy Królewskie
7.	Stolicą terytorium B- lennym wobec Polski - był	Królewiec	Malbork
8.	Miasta Olsztyn, Lidzbark i Frombork znajdują się na	Warmii	Pomorzu Gdańskim

ZADANIE 13 (0 – 10 p.) Rozwiąż krzyżówkę i wyjaśnij pojęcie, które powstanie po jej rozwiązaniu. Przenieś rozwiązania na Kartę Odpowiedzi.

1. Nazwisko ostatniego króla Polski.
2. Nazwisko organizatora spisku podchorążych, który miał miejsce 29 listopada 1830 roku.
3. Nazwisko autora hymnu Polski.
4. Nazwisko twórcy Legionów Polskich u boku Republiki Lombardzkiej.
5. Nazwisko najszlachetniejszego dyktatora powstania styczniowego.
6. Przymusowy pobór do wojska rosyjskiego zorganizowany w 1863 roku.
7. Żołnierz powstańczy wyposażony w kosę postawioną na sztorc.
8. Utworzone w 1797 roku u boku Republiki Lombardzkiej.
9. Dokument wydany w 1794 roku w celu pozyskania chłopów do udziału w powstaniu
10. Wyjaśnienie pojęcia z krzyżówki.



Zadanie 14 (0 – 6 p.) Przeczytaj fragment testu i odpowiedz na pytania. Przenieś rozwiązania na Kartę Odpowiedzi.

1. Jaki tytuł nosił pierwszy hymn brytyjski? (1 punkt)
2. Kto napisał pieśń Legionów? (podaj imię i nazwisko) (1 punkt)
3. Kto chwalił pieśń Legionów? (podaj imię i nazwisko) (1 punkt)
4. Czy pieśń Legionów podobała się państwom zaborczym? Uzasadnij (1 punkt)
5. Kiedy „Mazurek Dąbrowskiego” został ogłoszony hymnem Polski? (1 punkt)
6. W jaki sposób zmieniono oryginalną treść pierwszej zwrotki? (1 punkt)

„Mazurek nie był jednak hymnem, lecz pieśnią Legionów. Badacz jego dziejów Roman Kaleta pisze, że hymn państwowy pojawił się w kulturze Europy dopiero w połowie XVIII wieku. Pierwszy brytyjski „Boże chroń króla” został opublikowany w 1744 r. Pieśń Wybickiego przyjęto owacyjnie, a wojsko szybko uznało ją za swoją. Żołnierze do Twojej pieśni coraz więcej gustu nabierają, my ja sobie często nuczmy z winnym szacunkiem dla Autora, którego kochać i być przyjacielem nigdy nie przestanę – pisał gen. Dąbrowski z Bolonii do Wybickiego kilka tygodni po premierze. (...)Mazurka chwalił Tadeusz Kościuszko, postać już wówczas legendarna wśród Polaków. Na łożu śmierci zagrano mu go na jego prośbę. W niecały rok po premierze pieśń dotarła na ziemie polskie. Zaborcze władze uznały ją za „rewolucyjną” i „buntowniczą”. Nadziej związane z Napoleonem szybko się rozwiły: cesarz nie myślał odbudować Polski w

przedrozbiorowych granicach. W 1807 r. legioniści doczekali Księstwa Warszawskiego zajmującego fragment dawnej Rzeczypospolitej. Po upadku Napoleona i powstaniu Królestwa Polskiego – tzw. kongresowego – nadziei na niepodległość ostatecznie zgasły. (...) 26 lutego 1927 r. minister Sławoj – Składkowski specjalnym okólnikiem ogłosił „Mazurka Dąbrowskiego” hymnem państwowym, podając w nim tekst opracowany przez specjalną komisję Ministerstwa Wyznań Religijnych w wersji z „Jeszcze Polska nie zginęła”, a nie jak w oryginale – „nie umarła.”

Źródło: Adam Leszczyński, Mazurek wszystkich Polaków, ale Historia nr 9, Warszawa 2017.

ZADANIE 15 (0 – 12 p.) Rozpoznaj bitwę na podstawie przytoczonego opisu. W Karcie Odpowiedzi podaj miejsce i datę (rok).

- a. „Krzyżacy przez czas jakiś wytrzymywali natarcie, w końcu jednak przeważną liczbą wojsk królewskich zewsząd otoczeni, pobici zostali na głowę” – **Jan Długosz**
- b. „W samym poboju legło do dziewięciu tysięcy człowieka, oprócz tych, co w pogoni, i tych co w Kurlandzkiej ni na inszych miejscach z pogromu uchodzących bito” – **anonimowy autor „Nowin z Inflant”**
- c. „Jedyna, Pan Bóg i Pan nasz na wieki błogosławiony dał zwycięstwo i sławę narodowi naszemu, o jakiej wieki przeszłe nigdy nie słyszały. Działa wszystkie, obóz wszystkich, dostatki nieoszacowane dostały się w nasze ręce” – **epistola Najjaśniejszego Pana do żony**
- d. „Pokazały się czaty nieprzyjacielskie, a wkrótce i wojsko Tormasowa, w wybornym położeniu na wzgórzach między wąwozami uszykowane. Moskale pierwsi zstąpili w dolinę, na trzy podzieleni kolumny. Kościuszko, postanowiwszy zwyciężyć, trzy razy uderza na nich i dzielny opór znajduje; przestawszy na koniec strzelać, staje na czele wczoraj przybyłych z kosami wieśniaków i jednego batalionu piechoty, łamie środek ich wojska, zbiera działa” – **Julian Ursyn Niemcewicz**
- e. „Szwadron ten, natychmiast skoczył w kolumnie, czwórkami – szerokość wąwozu nie pozwalała na rozwinięcie innego szyku. Straszliwy ogień ze strony nieprzyjaciela natychmiast powalił wielu ludzi i konie (...) Szarża ta, najświetniejsza jaka tylko być może, słusznie uważana jest za przykład najbardziej zdumiewający i najśmielszy w historii jazdy” – **Piotr Dautancourt**
- f. „25-go lutego o godzinie między 9 – ta a 10 – tą nieprzyjaciel rozpoczął swój atak na Olszynę. Zaraz po rozpoczęciu ognia dwa bataliony 2 – go pułku strzelców pieszych, będące w środku Olszyny, wyruszyły na brzeg Olszyny ku nieprzyjacielowi, dla wzmocnienia 1 – go batalionu 2 – go pułku strzelców” – **raport dzienny 2 Dywizji**

ZADANIE 16 (0 – 6 p.) Polacy w obcej służbie. Rozpoznaj skomplikowane losy wybitnych postaci. Przenieść rozwiązania na Kartę Odpowiedzi. Uwaga nie wszystkie podpowiedzi są prawidłowe!

*Henryk Dembiński * Józef Bem * Kazimierz Pułaski * Karol Kniaziewicz * * Jarosław Dąbrowski * Romuald Traugutt * Józef Zajączek *




- a. Żył w latach (1794 – 1850), artylerzysta, uczestnik kampanii 1812 roku, w Królestwie Polskim jako oficer zajmował się teorią i konstrukcją rakiet, wyrzucony z wojska za konspirację, uczestniczył w powstaniu listopadowym, a następnie podzielił los tysięcy emigrantów, w 1818 roku dowodził obroną zrewolucjonizowanego Wiednia, w 1849 roku głównodowodzący wojsk węgierskich w armii Siedmiogrodu, zbiegł do Turcji, przeszedł na islam i jako Murat Pasza zreformował artylerię turecką.

- b. Żył w latach (1836 – 1871), oficer wojsk rosyjskich, działacz organizacji czerwonych, pseudonim Łokietek, aresztowany, zbiegł w drodze na zesłanie, w 1865 roku dotarł do Francji, zginął jako naczelny wódz wojsk Komuny Paryskiej w 1871 roku, pochowany na cmentarzu Pere La Chaise.
- c. Żył w latach (1752 – 1826), poseł na sejm czteroletni, generał, uczestniczył w powstaniu kościuszkowskim, kampanii egipskiej Napoleona z 1798 roku, w kampanii 1812 roku stracił nogę, w 1815 roku został namiestnikiem Królestwa Polskiego, był lojalistą wobec cara i arcyksięcia Konstantego.
- d. Żył w latach (1826 – 1864), w 1845 roku wstąpił do armii carskiej, brał udział w tłumieniu powstania na Węgrzech w latach 1848 – 49, i w wojnie krymskiej w latach 1853- 56, w 1862 roku zdymisjonowany na własną prośbę w stopniu pułkownika, dyktator powstania styczniowego, stracony na stokach cytadeli.
- e. Żył w latach (1762 – 1842), uczestnik wojny polsko – rosyjskiej w 1792 roku, walczył w powstaniu kościuszkowskim, generał armii napoleońskiej, organizator Legii Naddunajskiej, podczas powstania listopadowego reprezentował Rząd Narodowy w Paryżu.
- f. Żył w latach (1745 – 1779), współtwórca konfederacji barskiej, po jej upadku na emigracji w Saksonii, Francji i Turcji, wyjechał do Ameryki, mianowany generałem brygady i dowódcą kawalerii zmusił Brytyjczyków do odstąpienia od Charlestonu, zmarł na skutek ran odniesionych pod Savannah, uznany za bohatera Stanów Zjednoczonych.

ZADANIE 17 (0 – 3 p.) Wyjaśnij pojęcia. Przenieś rozwiązania na Kartę Odpowiedzi:

1. Ideologia, którą stworzyli Karol Marks i Fryderyk Engels w 1848 roku pisząc „Manifest Komunistyczny”.
2. Kierunek w malarstwie XIX wieku, nazwa pochodzi od słowa wrażenie i tytułu obrazu C. Moneta „Impresja, wschód słońca”.
3. Obszar zamorski państwa europejskiego, z którego kraj macierzysty czerpie surowce, tanią siłą roboczą i wykorzystuje jako bazę strategiczną oraz rynek zbytu.

ZADANIE 18 (0 – 12 p.) Obejrzyj fotografie, rozpoznaj postacie. Na podstawie wiedzy własnej uzupełnij zadania. Przenieś rozwiązania na Kartę Odpowiedzi.

A	B	C
		

Źródło: A. Dybkowska, J. Żaryn, *Polskie dzieje*, Warszawa 2002.

Fotografia A przedstawia (imię i nazwisko). Ten bohater należał do (pełna nazwa partii). W 1914 roku próbował on wezwać ludność zaboru rosyjskiego do buntu przeciw zaborcy poprzez wymarsz z Krakowa (nazwa jednostki). Po powrocie w granice Cesarstwa Austriackiego stworzył on (nazwa jednostek), które u boku państw centralnych planowały odzyskanie niepodległości. W dniu (dzień i miesiąc) 1916 roku cesarze Niemiec i Austro – Węgier w specjalnym akcie obiecali utworzenie niepodległego państwa polskiego. W 1917 roku w Benjaminowie i Szczypiornie zostali internowani żołnierze, którzy odmówili przysięgi na wierność władcom państw centralnych, a sam komendant został internowany w twierdzy (nazwa miejscowości).

Fotografia B przedstawia (imię i nazwisko), który był liderem partii pod nazwą (pełna nazwa partii). Ten dyplomata był politycznie związany z obozem państw (nazwa koalicji z I wojny światowej). W 1917 roku stworzył on KNP (wyjaśnienie skrótu), który stanowił oficjalną reprezentację państwa polskiego na konferencji wersalskiej.

Fotografia C przedstawia (imię i nazwisko), pianistę i kompozytora oraz osobistego przyjaciela prezydenta Stanów Zjednoczonych (nazwisko), który 8 stycznia 1918 roku w 14 punktowym orędziu punkt 13 poświęcił Polsce.

BRUDNOPIS