




**Wojewódzki Konkurs Przedmiotowy  
z Historii dla uczniów gimnazjów  
województwa kujawsko-pomorskiego  
Etap rejonowy – data: 10. 12. 2018 r.**

**Instrukcja dla ucznia**

**Zanim przystąpisz do rozwiązywania testu, przeczytaj uważnie poniższą instrukcję.**



1. Wpisz w wyznaczonym miejscu na **TEŚCIE** i **KARCIE ODPOWIEDZI** swój kod ustalony przez Komisję Konkursową. **Nie wpisuj** swojego imienia i nazwiska.
2. Przed rozpoczęciem pracy sprawdź, czy twój arkusz testowy jest kompletny. Niniejszy arkusz testowy składa się z 12 stron i zawiera 18 zadań. Jeśli zauważysz jakiegokolwiek braki lub błędy w druku, zgłoś je natychmiast Komisji Konkursowej.
3. Przeczytaj uważnie i ze zrozumieniem polecenia i wskazówki do każdego zadania.
4. Odpowiedzi zapisuj w **KARCIE ODPOWIEDZI** długopisem z czarnym lub niebieskim tuszem.
5. Dbaj o czytelność pisma i precyzję odpowiedzi. W zadaniach wielokrotnego wyboru poprawne odpowiedzi zaznaczaj zgodnie z poleceniem.
6. Nie używaj korektora. Jeżeli pomylisz się, błędną odpowiedź otocz kółkiem i ponownie udziel poprawnej odpowiedzi. Oceniane będą tylko odpowiedzi, które zostały zaznaczone lub wpisane zgodnie z poleceniem i umieszczone w miejscu do tego przeznaczonym.
7. Przy każdym zadaniu podano maksymalną liczbę punktów, którą można uzyskać.
8. Na ostatniej stronie testu znajdziesz miejsce na brudnopis. **Brudnopis nie podlega ocenie.**
9. Pracuj samodzielnie.
10. Nie wolno wносить telefonów komórkowych na konkurs.
11. Całkowity czas na wykonanie testu pisemnego wynosi **90 minut.**

**ZADANIE I (0 – 9 p.)** Poniżej umieszczono symbole trzech religii monoteistycznych. Rozpoznaj je i korzystając z własnej wiedzy uzupełnij tabelę w KARCIE ODPOWIEDZI.

A	B	C
		


Źródło: <https://wszystkiesymbole.pl/Kategoria/symbole-religijne/>

**ZADANIE II (0 – 6 p.)** Rozpoznaj budowle starożytne i przy odpowiednich literach w KARCIE ODPOWIEDZI wpisz ich nazwy oraz państwo, w którym powstała.

A	B
	

Źródło: [https://upload.wikimedia.org/wikipedia/commons/d/da/\(...\).jpg](https://upload.wikimedia.org/wikipedia/commons/d/da/(...).jpg)

Źródło: <http://gfx.filmweb.pl/blog/841287/394137.1.jpg>

C


Źródło: <https://www.wp.pl/?s=wiadomosci.wp.pl%2Fsgwpsgfirst-6031567014003329a>

**ZADANIE III (0 – 5 p.)** Poniżej znajduje się ilustracja związana z kulturą starożytnego Rzymu i ich poprzedników Etrusków. Rozpoznaj ją i korzystając z własnej wiedzy uzupełnij tekst umieszczony poniżej. Przy odpowiednich cyfrach w KARCIE ODPOWIEDZI wpisz brakujące informacje.



Źródło: [https://pl.wikipedia.org/wiki/Wilczyca\\_kapitoli%C5%84ska](https://pl.wikipedia.org/wiki/Wilczyca_kapitoli%C5%84ska)

Na ilustracji znajduje się rzeźba przedstawiająca (1) ....., symbol miasta (2) ..... Postacie dzieci przedstawiają braci (3) ..... i (4) ....., legendarnych założycieli miasta. Powstało ono według tradycji w (5) ..... roku p.n.e.

**ZADANIE IV (0 – 10 p.)** Poniżej znajduje się 10 pytań, do których przygotowano po 4 odpowiedzi. Tylko jedna jest prawdziwa. Do tabeli w KARCIE ODPOWIEDZI wpisz odpowiednio literę oznaczającą prawidłową odpowiedź.

1. Monarchią despoticzną w czasach starożytnych było państwo:
  - A. Egipt,
  - B. Grecja,
  - C. Rzym,
  - D. Indie.
2. Pierwszą formą ustroju starożytnego Rzymu było:
  - A. cesarstwo,
  - B. republika,
  - C. królestwo,
  - D. demokracja.
3. Urzędnikiem republiki rzymskiej powoływanym w sytuacjach krytycznych dla państwa był:
  - A. konsul,
  - B. dyktator,
  - C. pretor,
  - D. edyl.
4. Monarchia Karola Wielkiego była monarchią:
  - A. patrymonialną,
  - B. parlamentarną,
  - C. absolutną,
  - D. konstytucyjną.
5. Parlament angielski ukształtował się w wieku:
  - A. XII,
  - B. XIV,
  - C. XIII,
  - D. XV.

6. Autorem powiedzenia „Państwo to ja” podkreślającego władzę absolutną był król Ludwik:
  - A. XV,
  - B. XIII,
  - C. XVI,
  - D. XIV.
7. Pierwszym państwem, w którym ukształtowała się monarchia parlamentarna w XVII wieku była:
  - A. Francja,
  - B. Anglia,
  - C. Rosja,
  - D. Polska.
8. Absolutyzm oświecony ukształtował się pod wpływem haseł epoki:
  - A. Baroku,
  - B. Renesansu,
  - C. Średniowiecza,
  - D. Oświecenia.
9. Zasadę trójdzielności władzy zastosowano po raz pierwszy w konstytucji:
  - A. USA,
  - B. Polski,
  - C. Francji,
  - D. Austrii.
10. W wyniku rewolucji francuskiej prawo do udziału w rządzeniu państwem uzyskali:
  - A. duchowni,
  - B. szlachta,
  - C. burżuazja,
  - D. chłopci.

**ZADANIE V (0 – 6 p.)** Poniżej umieszczono biogramy sześciu władców, którzy otrzymali przydomek „Wielki”. Przy odpowiednich cyfrach w KARCIE ODPOWIEDZI dopisz ich imiona.

1. Żył w latach 955 – 1015; książę nowogrodzki od 970 roku; syn Świętosława; zjednoczył plemiona wschodniosłowiańskie; w 988 roku przyjął chrześcijaństwo z Bizancjum.
2. Żył w latach 482 – 565; cesarz bizantyjski od 527 roku; zlecił sporządzenie zbioru praw; podbił państwo Wandalów w Afryce i Ostrogotów w Italii.
3. Żył w latach 346 – 395; cesarz rzymski od 379 roku; w 380 roku ogłosił chrześcijaństwo religią panującą; w 395 roku podzielił cesarstwo pomiędzy swoich synów.
4. Żył w latach 356 – 323 p.n.e.; król Macedonii; uczeń Arystotelesa; genialny wódz; twórca wielkiego państwa obejmującego Macedonię, Grecję, podbite imperium perskie i Egipt.
5. Żył w latach 742 – 814; król Franków od 768 roku; cesarz rzymski od 800 roku; syn Pepina Małego; twórca potężnego imperium i odnowiciel cesarstwa zachodniego.
6. Żył w latach 1672 – 1725; car rosyjski od 1682 roku; w 1721 roku przyjął tytuł imperatora Wszechrosji; syn Aleksego Romanowa; twórca potęgi Rosji.





**ZADANIE VI (0 – 5 p.)** Rozwiąż krzyżówkę znajdującą się w KARCIE ODPOWIEDZI.

Miejsca związane z epoką napoleońską:

1. Starcie zbrojne, do którego doszło 18 czerwca 1815 roku, ostatnia bitwa Napoleona Bonaparte.
2. Bitwa, która toczyła się od 26 do 29 listopada 1812 roku pomiędzy wycofującymi się spod Moskwy wojskami francuskimi i ich sojusznikami a wojskami rosyjskimi.
3. Nazywana „bitwą narodów” – starcie zbrojne stoczone w dniach 16–19 października 1813 roku między wojskami francuskimi i ich sojusznikami a wojskami koalicji antyfrancuskiej.

4. Miasto, w którym w 1814 roku ogłoszono detronizację Napoleona.
5. Bitwa stoczona 2 grudnia 1805 roku, w czasie której Francuzi rozgromili pod połączone siły austriacko-rosyjskie.


**ZADANIE VII (0 – 4 p.)** Poniżej umieszczono cztery dzieła malarskie z różnych epok. Wśród nich rozpoznaj te, które powstały w epoce renesansu. Rozpoznaj je i wpisz do tabeli w KARCIE ODPOWIEDZI litery oraz imiona i nazwiska twórców.

A	B
	
<p>Źródło: <a href="https://pl.wikipedia.org">https://pl.wikipedia.org</a></p>	<p>Źródło: <a href="https://pl.wikipedia.org">https://pl.wikipedia.org</a></p>
C	D
	
<p>Źródło: <a href="https://pl.wikipedia.org">https://pl.wikipedia.org</a></p>	<p>Źródło: <a href="https://pl.wikipedia.org">https://pl.wikipedia.org</a></p>

**ZADANIE VIII (0 – 5 p.)** Poniżej umieszczono pięć zdań dotyczących historii Europy w XIX wieku. Rozstrzygnij, które z nich są prawdziwe, a które fałszywe. Przy cyfrach w KARCIE ODPOWIEDZI wpisz odpowiednio słowo „prawda” lub „fałsz”.


1. Kongres Wiedeński wprowadził zasadę legitymizmu.
2. Pierwszą publiczną linię kolejową uruchomił w północnej Anglii George Stephenson.
3. Wiosna Ludów rozpoczęła się w 1847 roku.
4. Ludwik Napoleon Bonaparte, który koronował się na cesarza Francuzów w 1852 roku był wnukiem Napoleona Bonaparte.
5. Pierwszym królem zjednoczonych Włoch w 1861 roku został Wiktor Emanuel II.

**ZADANIE IX (0 – 5 p.)** Przeanalizuj poniższą ilustrację, a następnie w KARCIE ODPOWIEDZI dokończ zdania umieszczone poniżej.



Źródło: <http://mm.pwn.pl/ency/jpg/583/1t/d96i2893.jpg>

1. Ilustracja przedstawia męczeńską śmierć .....
2. Wydarzenia te miały miejsce w roku .....
3. Władcą Polski był wówczas .....
4. Wydarzenie, które nastąpiło po śmierci męczennika przedstawiono na ilustracji .....



Źródło: [http://dziedzictwo.ekai.pl/\\_album/1063,500,q.jpg](http://dziedzictwo.ekai.pl/_album/1063,500,q.jpg)

5. Ilustracje przedstawiają fragmenty znajdujące się na drzwiach Katedry .....
- A. na Wawelu,
  - B. św. Jana w Warszawie,
  - C. w Gnieźnie.

**ZADANIE X (0 – 5 p.)** Przeczytaj uważnie fragment Kroniki Galla Anonima poświęcony jednemu z władców i korzystając z informacji w nim zawartych oraz własnej wiedzy w KARCIE ODPOWIEDZI dokończ zdania umieszczone pod tekstem wybierając właściwą informację z nawiasu.

*Pewnego dnia siedział (...) w mieście Krakowie przed pałacem w otoczeniu swego dworu i oglądał rozłożone na kobiercach haracze Rusinów i innych ludów, składających (mu) daniny. Otóż zdarzyło się, że był przy tym obecny pewien ubogi a obcy kleryk i zobaczył ogrom tych wszystkich skarbów. A gdy tak z niezmiernym podziwem wbijał oczy w te masy bogactw i pomyślał [przy tym] o własnym ubóstwie, westchnął z głośnym jękiem. Zapytany więc przez króla, o czym myślał, wzdychając tak żałośnie, kleryk z drżeniem odparł: „Królu – panie! przypatrując się swojej nędzy i swemu ubóstwu, a waszej chwale i waszemu majestatowi, porównywałem, jak niepodobne są sobie szczęście i bieda, i westchnąłem z wielkiej boleści!” Wtedy (...) król rzecze: „Jeżeli z powodu ubóstwa westchnąłeś, to znalazłeś w królu (...) pocieszyciela swego niedostatku. Przystąp tedy do bogactw, które (tak) podziwiasz, i ilekolwiek zdołasz za jednym razem unieść, niech będzie twoim!” - Przystąpiwszy tedy ów biedaczek tak wyładował złotem i srebrem swój płaszcz, że mu pękł od zbytniego ciężaru, a kosztowności się wysypały. Wtedy szczodry król zerwał płaszcz ze swych ramion, dał go biednemu klerykowi (...) i pomagając mu, jeszcze większymi kosztownościami go obładował.*

*Źródło: <http://www.historiapolski.eu/viewtopic.php?f=22&t=171&start=30>*

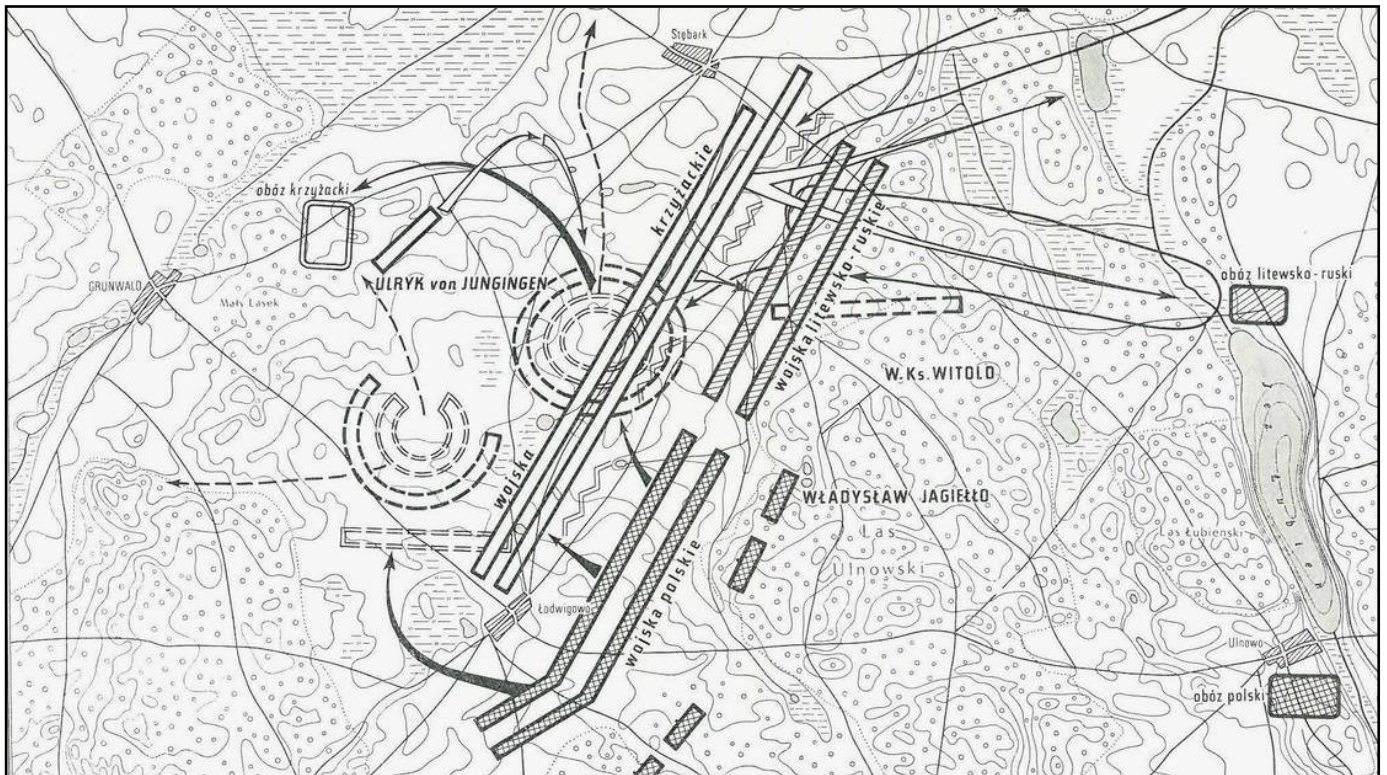
1. Powyższy fragment dotyczy króla (Bolesława Śmiałego, Bolesława Chrobrego).
2. Opisane wydarzenia miały miejsce w (I połowie XI wieku, II połowie XI wieku).
3. Fragment kroniki podkreśla (hojność, skąpstwo) władcy.
4. Władca przedstawiony we fragmencie kroniki związany był ze (św. Stanisławem, św. Wojciechem).
5. Gall Anonim pisał swoją kronikę (w czasach opisanego władcy, po śmierci opisanego władcy).

**ZADANIE XI (0 – 5 p.)** Poniżej znajduje się 15 postaci historycznych związanych z historią i kulturą Polski. Uporządkuj je i wpisz ich imiona i nazwiska (przydomki) w odpowiednie rubryki do tabeli w KARCIE ODPOWIEDZI.

- |                               |                        |
|-------------------------------|------------------------|
| • Michał Korybut Wiśniowiecki | • Jan Kochanowski      |
| • Jan Długosz                 | • Wincenty Kadłubek    |
| • Wit Stwosz                  | • Jan Andrzej Morsztyn |
| • Zygmunt I Stary             | • August II Mocny      |
| • Bernardo Belotto            | • Artur Grottger       |
| • Gall Anonim                 | • Władysław Jagiełło   |
| • Jan Olbracht                |                        |
| • Ignacy Krasicki             |                        |
| • Stefan Batory               |                        |




**ZADANIE XII (0 – 5 p.)** Poniżej znajduje się plan bitwy z historii Polski. Na podstawie informacji ze źródła i własnej wiedzy w KARCIE ODPOWIEDZI odpowiedz na pytania umieszczone pod ilustracją.



Źródło: <http://www.wojsko-polskie.pl/>

1. Gdzie stoczono przedstawioną bitwę?
2. W czasie której wojny miała ona miejsce?
3. Kto dowodził oddziałami polskimi?
4. Kto dowodził oddziałami litewsko – ruskimi?
5. Kto dowodził oddziałami krzyżackimi?

**ZADANIE XIII (0 – 5 p.)** Poniżej umieszczono herb państwa polskiego. Korzystając z własnej wiedzy wykonaj polecenia znajdujące się obok ilustracji i zapisz odpowiedzi w KARCIE ODPOWIEDZI.  
(Źródło: <http://www.herby.umk.pl/wystawa/herb/>)





1. Jak nazywano państwo, którego symbolem był powyższy herb?
2. Po jakim wydarzeniu historycznym państwo to zostało utworzone?
3. Za panowania którego władcy miało miejsce to wydarzenie?
4. Jak nazywają się elementy zaznaczone na ilustracji literami A i B?
5. Jaki ustrój polityczny symbolizuje element oznaczony literą C?

**ZADANIE XIV (0 – 5 p.)** Poniżej umieszczono mapę Rzeczypospolitej Obojga Narodów. Korzystając z własnej wiedzy i analizy mapy oceń, które ze zdań znajdujących się pod mapą są prawdziwe, a które fałszywe. Do tabeli w KARCIE ODPOWIEDZI wpisz odpowiednio numery zdań.



Źródło: [https://pl.wikipedia.org/wiki/Wojna\\_polsko-rosyjska\\_\(1609%E2%80%931618\)/#/media/File:Rzeczpospolita\\_Dymitriads.png](https://pl.wikipedia.org/wiki/Wojna_polsko-rosyjska_(1609%E2%80%931618)/#/media/File:Rzeczpospolita_Dymitriads.png)

1. Mapa przedstawia Rzeczpospolitą w XVI wieku.
2. Literą A na mapie oznaczono teren Inflant.
3. Literą B na mapie oznaczono ziemię, która stała się lennem Rzeczypospolitej w XV wieku.
4. Literą C na mapie oznaczono ziemię siewierską.
5. Literą D na mapie oznaczono teren, który w II połowie XVII wieku został włączony do Rosji.

**ZADANIE XV (0 – 6 p.)** Poniżej znajdują się fragmenty Konstytucji 3 Maja 1791 roku. Przeczytaj uważnie tekst i odpowiedz na pytania znajdujące się w KARCIE ODPOWIEDZI.

### ***I Religia panująca***

*Religią narodową panującą jest i będzie wiara święta rzymska katolicka ze wszystkimi jej prawami; (...)*

### ***II Szlachta i ziemianie***

*Szanując pamięć przodków naszych jako fundatorów rządu wolnego, stanowi szlacheckiemu wszystkie swobody, wolności, prerogatywy pierwszeństwa w życiu prywatnym i publicznym najuroczyściej zapewniamy; (...)*

### III Miasta i mieszczenie

*Prawo na teraźniejszym sejmie zapadłe pod tytułem „Miasta nasze królewskie wolne w państwach Rzeczypospolitej” w zupełności utrzymane mieć chcemy i za część niniejszej konstytucji deklarujemy;(…)*

### IV Chłopi włościanie

*Lud rolniczy, spod którego ręki płynie najobfitsze bogactw krajowych źródło,(…), pod opiekę prawa i rządu krajowego przyjmujemy;(…)*

### V Rząd, czyli oznaczenie władz publicznych

*Wszelka władza społeczności ludzkiej początek swój bierze z woli narodu. Aby więc całość państw, wolność obywatelska i porządek społeczności w równej wadze na zawsze zostawały, trzy władze rząd narodu polskiego składać powinny i z woli prawa niniejszego na zawsze składać będą, to jest: władza prawodawcza w Stanach zgromadzonych, władza najwyższa wykonawcza w królu i Straży, i władza sądownicza w jurysdykcjach;(…)*

### VI Sejm, czyli władza prawodawcza

*Wszystko i wszędzie większością głosów decydowane być powinno. Przeto „liberum veto”, konfederacje wszelkiego gatunku i sejmy konfederackie jako duchowi niniejszej konstytucji przeciwne, rządy obalające, społeczność niszczące, na zawsze znosimy.(…)*

### VII Król, władza wykonawcza

*Tron polski elekcyjnym przez familie mieć na zawsze chcemy i stanowimy. Dynastia przyszłych krolów polskich zacznie się na osobie Fryderyka Augusta, dzisiejszego elektora saskiego, (…). Najstarszy syn króla panującego po ojcu na tron następować ma.*

### VIII Władza sądownicza

*Władza sądownicza nie może być wykonywaną ani przez Władzę prawodawczą, ani przez Króla: lecz przez Magistratury na ten koniec ustanowione i wybierane.(…)Sądy pierwszej Instancji dla każdego województwa, ziemi i powiatu, do których Sędziowie wybierani będą na sejmikach.(…) Od tych sądów iść będzie apelacja na Trybunały główne dla każdej prowincji być mające, złożone równie z osób na sejmikach wybranych.(…)*

Źródło: <https://www.infor.pl/prawo/konstytucja/teksty-polskich-konstytucji/76731,Konstytucja-3-Maja-z-1791-roku.html>

**ZADANIE XVI (0 – 5 p.)** Do podanych budowli dopisz styl architektoniczny, w którym je wzniesiono. Przy odpowiednich cyfrach w KARCIE ODPOWIEDZI wpisz ich nazwy.

1. Pałac w Wilanowie,
2. Ratusz w Chełmnie,
3. Zespół pałacowy w Łazienkach,
4. Zamek krzyżacki w Malborku,
5. Rotunda św. Prokopa w Strzelnie.


**ZADANIE XVII (0 – 5 p.)** Połącz nazwy polskich ugrupowań emigracyjnych działających w XIX wieku z informacjami o ich programie i odpowiedz na pytania pod tabelą. Do cyfr w tabeli w KARCIE ODPOWIEDZI dopisz odpowiednie litery oraz odpowiedz na pytania.

<b>1. HOTEL LAMBERT</b>	<b>A.</b> Wyzwolenie Polski poprzez powstanie ludu, zniesienie własności i przywilejów, pozbawienie szlachty wpływu na władzę w państwie.
<b>2. TOWARZYSTWO DEMOKRATYCZNE POLSKIE</b>	<b>B.</b> Polska wyzwolona przy okazji konfliktu mocarstw zaborczych jako monarchia konstytucyjna, stopniowe uwłaszczenie chłopów za odszkodowaniem dla szlachty.
<b>3. GROMADY LUDU POLSKIEGO</b>	<b>C.</b> Odzyskanie niepodległości w drodze powstania narodowego, Polska państwem o ustroju republikańskim w granicach sprzed 1773 roku ze swobodami obywatelskimi.

1. Po upadku którego powstania miała miejsce Wielka Emigracja?
2. Na czele którego z ugrupowań stał ks. Adam Czartoryski?

**ZADANIE XVIII (0 – 4 p.)** Poniżej umieszczono obrazy przedstawiające sceny z polskich powstań narodowych. Przy odpowiednich literach w KARCIE ODPOWIEDZI wpisz właściwe nazwy powstań.

**A**



Źródło: [http://www.wilanow-palac.pl/warszawski\\_arsenal.html](http://www.wilanow-palac.pl/warszawski_arsenal.html)

**B**



Źródło: <http://www.cultureave.com/tadeusz-kosciuszko-i-maciejowice/>

**C**



Źródło: <http://artschool.pl/obraz-bitwy-pod-raclawicami/>

**D**



Źródło: <https://pl.wikipedia.org/wiki/Branka>

***BRUDNOPIS***