

**Wojewódzki Konkurs Przedmiotowy  
z Historii dla uczniów gimnazjów  
województwa kujawsko-pomorskiego  
Etap szkolny – data: 17. 10. 2018 r.**


**Instrukcja dla ucznia**

**Zanim przystąpisz do rozwiązywania testu, przeczytaj uważnie poniższą instrukcję.**

1. Wpisz w wyznaczonym miejscu na **TEŚCIE** i **KARCIE ODPOWIEDZI** swój kod ustalony przez Komisję Konkursową. **Nie wpisuj** swojego imienia i nazwiska.
2. Przed rozpoczęciem pracy sprawdź, czy twój arkusz testowy jest kompletny. Niniejszy arkusz testowy składa się z 9 stron i zawiera 20 zadań. Jeśli zauważysz jakiegokolwiek braki lub błędy w druku, zgłoś je natychmiast Komisji Konkursowej.
3. Przeczytaj uważnie i ze zrozumieniem polecenia i wskazówki do każdego zadania.
4. Odpowiedzi zapisuj w **KARCIE ODPOWIEDZI** długopisem z czarnym lub niebieskim tuszem.
5. Dbaj o czytelność pisma i precyzję odpowiedzi. W zadaniach wielokrotnego wyboru poprawne odpowiedzi zaznaczaj zgodnie z poleceniem.
6. Nie używaj korektora. Jeżeli pomylisz się, błędną odpowiedź otocz kółkiem i ponownie udziel poprawnej odpowiedzi. Oceniane będą tylko odpowiedzi, które zostały zaznaczone lub wpisane zgodnie z poleceniem i umieszczone w miejscu do tego przeznaczonym.
7. Przy każdym zadaniu podano maksymalną liczbę punktów, którą można uzyskać.
8. Na ostatniej stronie testu znajdziesz miejsce na brudnopis. **Brudnopis nie podlega ocenie.**
9. Pracuj samodzielnie.
10. Nie wolno wносить telefonów komórkowych na konkurs.
11. Całkowity czas na wykonanie testu pisemnego wynosi **60 minut.**




**ZADANIE I (0 – 5 p.)** Przeczytaj informacje dotyczące trybu życia ludzi pierwotnych i nazwij je odpowiednio. Rozpoznaj na ilustracji schronienia ludzi pierwotnych i nazwij je. Do KARTY ODPOWIEDZI wpisz właściwe określenia.

1. Tryb życia, który polegał na ciągłej zmianie miejsca zamieszkania. Ludzie szukali miejsc, w których nie brakowało pożywienia oraz innych zasobów naturalnych. Zbierali owoce, jaja, miód, małe, łowili ryby i polowali na zwierzęta.
2. Tryb życia, który polegał na osiedlaniu się w jednym miejscu i budowaniu trwałych osad. Ludzie udomowili niektóre zwierzęta i zaczęli uprawiać ziemię, co zapoczątkowało rozwój hodowli i rolnictwa.



Źródło: [https://historia.opracowania.pl/gimnazjum/najdawniejsze\\_dzieje\\_cz%C5%82owieka/](https://historia.opracowania.pl/gimnazjum/najdawniejsze_dzieje_cz%C5%82owieka/)

**ZADANIE II (0 – 5 p.)** Przyjrzyj się ilustracjom przedstawiającym różne rodzaje pisma, które powstało w starożytności i uzupełnij zdania znajdujące się poniżej. Przy odpowiednich cyfrach w KARCIE ODPOWIEDZI wpisz zakończenia poszczególnych zdań.

A	B	C
		
<p>Źródło: <a href="http://www.maximus.pl/test/historia_test_maturalny_20062c_poziom_podstawowy2c_cz_i-547.html">http://www.maximus.pl/test/historia_test_maturalny_20062c_poziom_podstawowy2c_cz_i-547.html</a></p>		<p>Źródło: <a href="http://whk.up.krakow.pl/pis_grec.html">http://whk.up.krakow.pl/pis_grec.html</a></p>

1. Najstarsze pismo przedstawiono na ilustracji .....
2. Pismo alfabetyczne przedstawiono na ilustracji .....
3. Na tabliczkach wykonanych z gliny pisano pismem przedstawionym na ilustracji .....
4. Pismem przedstawionym na ilustracji A posługiwano się w państwie .....
5. Podstawą stworzenia cyrylicy stało się pismo przedstawione na ilustracji .....

**ZADANIE III (0 – 5 p.)** Rozwiąż krzyżówkę znajdującą się w KARCIE ODPOWIEDZI, wpisz hasła związane ze starożytną Grecją.

1. Córka Zeusa, bogini mądrości, jej atrybutami, jako patronki wojny sprawiedliwej były tarcza i włócznia.
2. Najważniejszy z bogów greckich, władca innych bóstw oraz ludzi, jego atrybutem był piorun.
3. Bóg słynący z urody, sprawował opiekę nad sztuką, jego atrybutem była lira.
4. Słynny filozof, był uczniem Sokratesa, uważał, że świat składa się z materii oraz idei.
5. Syn Zeusa, grecki heros, który za popełnioną wcześniej zbrodnię musiał wykonać 12 trudnych prac.

**ZADANIE IV (0 – 5 p.)** Przeczytaj uważnie poniższy tekst i korzystając z informacji w nim zawartych oraz własnej wiedzy odpowiedz na pytania znajdujące się w KARCIE ODPOWIEDZI.

*Tablica I*

*1. Jeśli ktokolwiek pozwie człowieka przed sąd, ten zobowiązany jest stawić się. Jeśli pozwany uchyla się, niech pozywający przywoła widzów na świadków i niech przyprowadzi go siłą.*

*Tablica III*

*1. Ten, który przyznał się do zadłużenia, albo też ten, przeciw któremu ogłoszono orzeczenie, będzie miał trzydzieści dni na zapłatę. Po tym terminie można przymusowo zniewolić jego osobę.*

*Tablica V*

*1. Kobiety niechaj pozostają pod opieką, nawet wówczas, gdy osiągnęły pełnoletniość.*

*Tablica VIII*

*2. Jeśli ktoś okaleczył kończynę drugiej osobie i nie ułożył się z poszkodowanym, ten ma prawo do zemsty. Jeśli ktoś złamał kość człowiekowi wolnemu swą ręką, albo drewnianą pałką, niechaj zapłaci karę w wysokości trzystu monet, jeśli zaś złamał kość niewolnikowi, zapłaci sto pięćdziesiąt.*

*Tablica XI*

*1. Nie wolno zawierać małżeństw między patrycjuszami a plebejuszami.*

*Źródło: <https://www.imperiumromanum.edu.pl>*

**ZADANIE V (0 – 5 p.)** Przeczytaj poniższe biogramy władców. Przy odpowiednich cyfrach w KARCIE ODPOWIEDZI wpisz imię i przydomek osoby, o której mowa.




1. Pierwszy cesarz rzymski, żył na przełomie I w. p.n. e. i I w. n.e., siostrzeniec i adoptowany syn Cezara, pokonał w wojnie domowej Marka Antoniusza.
2. Król Babilonii, żył w XVIII w. p.n.e., wydał słynny zbiór praw, stworzył imperium na terenie Mezopotamii.
3. Najznakomitszy władca z dynastii karolińskiej, żył na przełomie VIII i IX wieku, w 800 roku koronowany przez papieża na cesarza, uważany za „ojca Europy”.
4. Król Macedonii, syn Filipa II, żył w IV w. p.n.e., poprowadził wyprawę przeciwko państwu perskiemu i podporządkował sobie jego terytorium.
5. Żył w V wieku, od 527 roku cesarz bizantyński, zlecił sporządzenie zbioru praw zwanego Korpusem Prawa Cywilnego, podbił państwo Wandalów w Afryce i Ostrogotów w Italii.

**ZADANIE VI (0 – 5 p.)** Rozstrzygnij, które z poniższych zdań jest prawdziwe, a które fałszywe. Przy odpowiednich cyfrach w KARCIE ODPOWIEDZI wpisz słowo „prawda”, jeśli uważasz, że zdanie jest prawdziwe lub słowo „fałsz”, jeśli uważasz, że zdanie jest fałszywe.

1. Święty Benedykt utworzył swój zakon w IV wieku.
2. Klasztor na Monte Cassino był siedzibą zakonu dominikanów.
3. Pierwszy zakon żebraczy utworzył święty Franciszek.
4. Pomieszczenia, w których mnisi przepisywali księgi nazywały się skryptoriumami.
5. Cystersi wiedli pustelniczy tryb życia.

**ZADANIE VII (0 – 4 p.)** Przeczytaj poniższe zdania i wybierz ich poprawne zakończenia. W tabeli w KARCIE ODPOWIEDZI wpisz odpowiednie informacje.

1.	Wyprawy Krzysztofa Kolumba miały miejsce:	przed wydaniem dzieła Kopernika „O obrotach sfer niebieskich”.
		po wydaniu dzieła Kopernika „O obrotach sfer niebieskich”.
2.	Krzysztof Kolumb umierał przekonany, że:	odkrył „Nowy Świat”.
		dopłynął do Azji Wschodniej (Indii).
3.	Statek widoczny na ilustracji A to:	triera.
		karawela.
4.	Trasę wyprawy Kolumba przedstawia mapa na ilustracji:	B.
		C.

A	B	C
		
<small>Źródło: <a href="https://encyklopedia.pwn.pl/haslo/Kolumb-Krzysztof;3924060.html#prettyPhoto">https://encyklopedia.pwn.pl/haslo/Kolumb-Krzysztof;3924060.html#prettyPhoto</a></small>	<small>Źródło: <a href="http://edudu.pl/sciaga-wielkie-odkrycia-geograficzne--europejska-potega-kolonialna,b4ce72d7739202324cd4">http://edudu.pl/sciaga-wielkie-odkrycia-geograficzne--europejska-potega-kolonialna,b4ce72d7739202324cd4</a></small>	

**ZADANIE VIII (0 – 5 p.)** Oceń, które z poniższych zdań dotyczących Renesansu są prawdziwe, a które są fałszywe. Przy cyfrach w KARCIE ODPOWIEDZI wpisz odpowiednio słowa „prawda” lub „fałsz”.

1. „Kolebką” Renesansu w XIV wieku były Włochy.
2. Jednym z najwybitniejszych artystów tej epoki we Włoszech był Leonardo da Vinci.
3. Autorem dzieła „Utopia” jest Erazm z Rotterdamu.
4. Galileusz był wybitnym fizykiem, filozofem i astronomem epoki Renesansu.
5. Johannes Gutenberg zaczął stosować ruchomą czeronkę w swojej drukarni w połowie XVI wieku.



**ZADANIE IX (0 – 6 p.)** Przeanalizuj znajdujące się poniżej materiały źródłowe i korzystając z informacji w nich zawartych oraz własnej wiedzy odpowiedz na pytania znajdujące się w KARCIE ODPOWIEDZI.

### **ŹRÓDŁO I**



Źródło: <https://gloria.tv/article/1GLApKyrwdsZAE41V2ECJxZ9U>

### **ŹRÓDŁO II**

*„Henryk z łaski Bożej król Francji i Navarry wszystkim obecnym (...) edyktem wieczystym i nieodwołalnym orzekliśmy, oświadczyli i zarządzili, orzekamy, oświadczamy i zarządzamy, (...)*

*Zarządzamy, że religia katolicka, apostolska i rzymska ma być przywrócona we wszystkich miejscach tego naszego królestwa i krajów nam podległych, gdzie wykonywanie tejże zostało przerwane (...) pozwoliliśmy i pozwalamy wyznawcom rzeczonyj religii reformowanej żyć i przebywać we wszystkich miastach i miejscach naszego królestwa i krajów nam podległych z tym, że nie będą poszukiwani, prześladowani i niepokojeni ani też zmuszani do czynienia czegokolwiek w rzeczach dotyczących religii wbrew ich sumieniu, ani też z powodu tejże poszukiwani w domach i miejscach, w których zechcą zamieszkać, zachowując się zresztą według treści naszego obecnego edyktu.*

*(...) Ogłaszamy wszystkich, którzy wyznają lub wyznawać będą rzeczoną religię, za zdolnych do dzierżawienia i sprawowania wszelkich godności, urzędów i obowiązków publicznych jakichkolwiek, królewskich, pańskich lub w miastach naszego królestwa.”*

Źródło: T. Maresz, K. Juszczyk, Historia w tekstach źródłowych, Wypisy, t.1, Wydawnictwo Temat, Toruń 1994

**ZADANIE X (0 – 5 p.)** Przeczytaj poniższe informacje. Przy odpowiednich cyfrach w KARCIE ODPOWIEDZI wpisz nazwy miast, w których miały miejsce wydarzenia.

#### **MASTO, W KTÓRYM:**

1. miało miejsce „picie herbaty” w 1773 roku.
2. ogłoszono „Deklarację niepodległości” w 1776 roku.
3. wojska amerykańskie odniosły zwycięstwo w bitwie w 1777 roku dzięki fortyfikacjom zaprojektowanym przez Tadeusza Kościuszkę.
4. w czasie bitwy w 1779 roku został śmiertelnie ranny Kazimierz Pułaski.
5. podpisano w 1783 roku pokój, na mocy którego Wielka Brytania uznała niepodległość USA.

**ZADANIE XI (0 – 6 p.)** Uzupełnij poniższy tekst dotyczący panowania pierwszych Piastów. Przy odpowiednich cyfrach w KARCIE ODPOWIEDZI wpisz brakujące informacje.

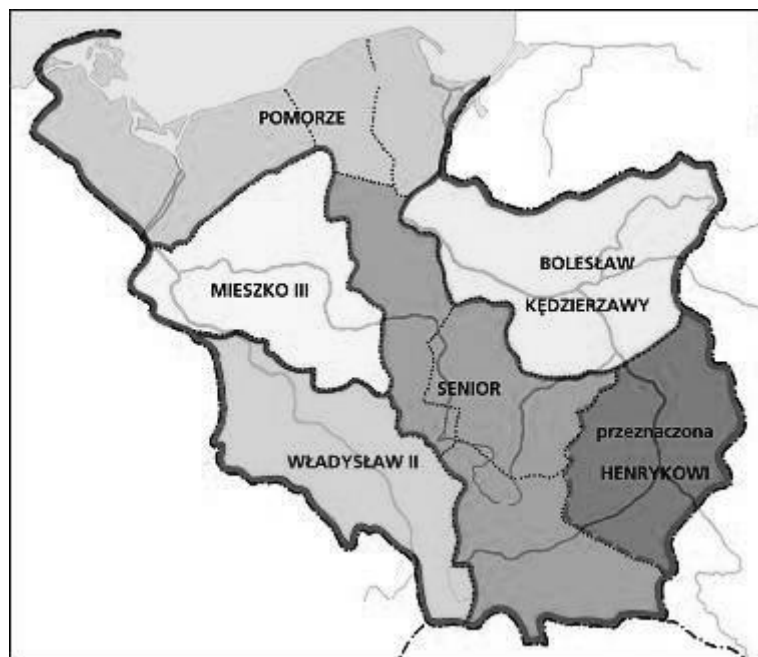
Książęta z dynastii Piastów wywodzili się z plemienia (1) ..... Pierwszym historycznym władcą Polski był (2) ..... Ożenił się on z księżniczką (3) ..... i z rąk biskupów czeskich przyjął w roku (4) ..... chrzest. Zapoczątkowało to proces krzewienia chrześcijaństwa w Polsce. W 968 roku utworzono pierwsze biskupstwo w (5) ..... Powstanie arcybiskupstwa w (6) ..... ogłoszono w czasie zjazdu gnieźnieńskiego.

**ZADANIE XII (0 – 4 p.)** Przeczytaj uważnie poniższy tekst i korzystając z informacji w nim zawartych oraz własnej wiedzy wykonaj polecenia znajdujące się w KARCIE ODPOWIEDZI.

*„Albowiem na przybycie cesarza przygotował przedziwne (wprost) cuda; najpierw hufce przeróżne rycerstwa, następnie dostojników rozstawił jak chóry na obszernej równinie, a poszczególne z osobna stojące hufce wyróżniała odmienna barwa strojów. (...) Zważywszy jego chwałę, potęgę i bogactwo, cesarz rzymski zawołał w podziwie: „Na koronę mego cesarstwa! To, co widzę, większe jest, niż wieść głosiła!” I za radą swych magnatów dodał wobec wszystkich: „Nie godzi się takiego i tak wielkiego męża, jakby jednego spośród dostojników, księciem nazywać lub hrabią, lecz (wypada) chlubnie wynieść go na tron królewski i uwieńczyć koroną”. A zdjęwszy z głowy swój diadem cesarski, włożył go na głowę Bolesława(...)”*

Źródło: <http://www.law.uj.edu.pl/~khpp/fontesu/gall.htm>

**ZADANIE XIII (0 – 4 p.)** Przeanalizuj poniższą mapkę, a następnie wpisz prawidłowe odpowiedzi na pytania znajdujące się pod mapką w KARCIE ODPOWIEDZI.



Źródło: <http://www.wiiv.pl/historia/atlas/mapa33.asp>

1. Mapka przedstawia podział państwa polskiego na mocy dokumentu wystawionego przez:
  - A. Mieszko I,
  - B. Kazimierz Odnowiciel,
  - C. Bolesław Krzywousty,
  - D. Władysław Herman.

2. Dokument został sporządzony:
  - A. pod koniec XI w.,
  - B. w 1. połowie XII w.,
  - C. w 2. połowie XII w.,
  - D. na początku XIII w.
3. Na mocy testamentu, pierwszym seniorem został:
  - A. Władysław Wygnaniec,
  - B. Mieszko Stary,
  - C. Bolesław Kędzierzawy,
  - D. Henryk Sandomierski.
4. Mieszko III Stary otrzymał jako dzielnicę dziedziczną:
  - A. Mazowsze,
  - B. Śląsk,
  - C. Ziemię krakowską,
  - D. Wielkopolskę.

**ZADANIE XIV (0 – 6 p.)** Przeczytaj uważnie fragment żartobliwego wiersza o Kazimierzu Wielkim. Następnie w KARCIE ODPOWIEDZI podaj rok i nazwę miasta, w których miały miejsce te wydarzenia.

**FRAGMENT I**     (...) *Tak to sprytnie sobie radził  
Kazik, z tym, co z nim się wadził.  
Z Krzyżakami zawarł pokój,  
czas zyskując oraz spokój (...)*

**FRAGMENT II**     (...) *U Wierzyńka na kolacji  
podjął władców wielu nacji,  
by pomiędzy zakąskami  
móc się zająć problemami (...)*

**FRAGMENT III**     (...) *Czech Janek,  
co nam robił wstręty same,  
do korony polskiej roszczeń  
zrzekł się, tak go Kazik podszedł (...)*

*Źródło: Wasowski G. PKP, czyli Poczet Królów Polskich, Warszawa 1997, s. 47 – 48.*



**ZADANIE XV (0 – 4 p.)** W KARCIE ODPOWIEDZI napisz, od którego wieku stolicą Polski były:

- Kraków,
- Warszawa.

Odpowiedz również na pytania:

1. Kto przeniósł stolicę Polski z Gniezna do Krakowa?
2. Kto przeniósł stolicę Polski z Krakowa do Warszawy?

**ZADANIE XVI (0 – 6 p.)** Rozpoznaj poniższe mapki. Następnie do tabeli w KARCIE ODPOWIEDZI wpisz odpowiednie wyrażenia z ramki umieszczone pod mapami. (*Uwaga! Niektóre wyrażenia nie pasują!*)

A	B
	
<p>Źródło: <a href="http://wlpaczpolske.pl/index.php?etap=10&amp;i=1126">http://wlpaczpolske.pl/index.php?etap=10&amp;i=1126</a></p>	<p>Źródło: <a href="http://wlpaczpolske.pl/index.php?etap=10&amp;i=1201">http://wlpaczpolske.pl/index.php?etap=10&amp;i=1201</a></p>

\* Krewie \* XVI \* Władysława Jagiełły \* Lublinie \*  
 \* Władysława Łokietka \* XIV \* Zygmunta II Augusta \* XVII \*

**ZADANIE XVII (0 – 5 p.)** Poniżej umieszczono wydarzenia z historii Polski i fakty z nimi związane, wśród których jedno nie pasuje. Rozpoznaj je i wpisz odpowiednio do KARTY ODPOWIEDZI.

WIELKA WOJNA Z ZAKONEM (XV wiek)	* bitwa pod Grunwaldem * obrona Głogowa * * oblężenie Malborka * pokój w Toruniu *
WOJNA TRZYNASTOLETνια (XV wiek)	* bitwa pod Chojnicami * bitwa na Zalewie Wiślanym * * pokój w Toruniu * bitwa pod Płowcami *
WOJNY Z ROSJĄ (XVII wiek)	* bitwa pod Pskowem * zajęcie Moskwy przez polskie wojska * * pokój w Polanowie * bitwa pod Kłuszynem *
WOJNY ZE SZWECJĄ (XVII wiek)	* bitwa pod Kircholmem * bitwa pod Połtawą * * rozejm w Sztumskiej Wsi * bitwa pod Oliwą *
WOJNY Z TURCJĄ (XVII wiek)	* zdobycie Kamieńca Podolskiego przez Turków * bitwa pod Cecorą * * bitwa pod Wiedniem * bitwa pod Warną *

**ZADANIE XVIII (0 – 5 p.)** W XVIII wieku miały miejsce rozbiory Polski. Odpowiedz pytania związane z rozbiorami, wpisując w odpowiednie miejsce w KARCIE ODPOWIEDZI właściwą odpowiedź.

1. Na rzecz jakiego państwa utraciła Polska kopalnie soli w Wieliczce i Bochni?
2. W którym rozbiorze Królestwo Pruskie zagarnęło Gdańsk i Toruń?
3. Które z państw zaborczych nie wzięło udziału w II rozbiorze?
4. Jakie wydarzenie było bezpośrednią przyczyną III rozbioru?
5. Które z państw zagarnęło najwięcej terenu Rzeczypospolitej?



**ZADANIE XIX (0 – 5 p.)** Poniżej znajdują się zdania dotyczące Ustawy Rządowej z dnia 3 maja 1791 roku. Przy odpowiednich cyfrach w KARCIE ODPOWIEDZI wpisz słowo prawda, jeśli uważasz, że zdanie jest prawdziwe lub słowo fałsz, jeśli uważasz, że zdanie nie jest prawdziwe.

1. Konstytucja wprowadzała dziedzicność tronu, znosiła wolną elekcję.
2. Sejm sprawował władzę prawodawczą i był wybierany na czteroletnią kadencję.
3. Konstytucja nadawała chłopom wolność osobistą oraz nietykalność osobistą i majątkową.
4. Konstytucja pozbawiała prawa do udziału w sejmikach szlacheckich tzw. gołoty szlacheckiej.
5. Konstytucja znosiła liberum veto.

**ZADANIE XX (0 – 5 p.)** Poniżej umieszczono informacje o pięciu królach elekcyjnych. Przeczytaj je uważnie, następnie do tabeli w KARCIE ODPOWIEDZI wpisz odpowiednio lata panowania, imię i przydomek (nazwisko) króla.

1. Książę Siedmiogrodu, mąż Anny Jagiellonki, prowadził wojny z Iwanem IV Groźnym o Inflanty; doprowadził do utworzenia piechoty wybranieckiej; swe rządy oparł na sojuszu ze średnią szlachtą i jej przywódcą – Janem Zamoyskim.
2. Doskonale wykształcony, arystokrata, spokrewniony z przywódcami Familii poprzez matkę, Konstancję z domu Czartoryską; pomoc carycy Katarzyny II oraz wujów wyniosła go na tron; mecenas sztuki i kultury, utworzył Szkołę Rycerską, za jego panowania powstała Komisja Edukacji Narodowej.
3. Hetman polny koronny, po zwycięstwie nad wojskami tatarsko-kozackimi w bitwie pod Podhajcami mianowany hetmanem wielkim koronnym; pokonał Turków pod Chocimiem; jako król dowodził wojskami polskimi w bitwie pod Wiedniem.
4. Objął tron z wyboru szlachty, przeciwstawiającej się kandydaturze francuskiej; w czasie jego panowania Turcy zdobyli Kamieniec Podolski, podpisano traktat w Buczaczu, na mocy którego Polska miała Turcji płacić haracz.
5. Elektor saski z dynastii Wettinów; rywalizował o tron ze Stanisławem Leszczyńskim; aby zyskać poparcie papieża dla swej kandydatury przeszedł z luteranizmu na katolicyzm; wbrew interesom Rzeczypospolitej wciągnął ją do wojny północnej, co spowodowało ograniczenie suwerenności i ruinę gospodarczą kraju.

# KARTA ODPOWIEDZI UCZNIĄ

Wojewódzki Konkurs Przedmiotowy z Historii dla uczniów gimnazjów  
województwa kujawsko-pomorskiego – etap szkolny – data: 17. 10. 2018 r.

Kod ucznia: \_\_\_\_\_

Wynik: \_\_\_\_\_/100 pkt.

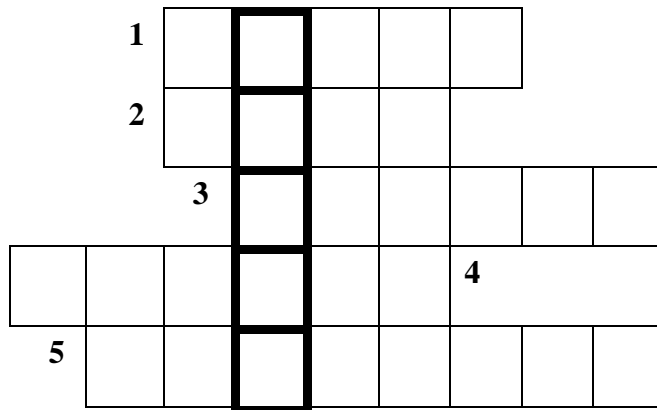
## ZADANIE I (0 – 5 p.)

1. ....
2. ....
- A - .....
- B - .....
- C - .....

## ZADANIE II (0 – 5 p.)

1. ....
2. ....
3. ....
4. ....
5. ....

## ZADANIE III (0 – 5 p.)



## ZADANIE IV (0 – 5 p.)

1. W którym wieku powstał ten zbiór praw?  
.....
2. W którym miejscu Rzymu zostały wystawione tablice z wypisanymi prawami?  
.....

3. Wyjaśnij, w jakim przypadku Rzymianin mógł popaść w niewolę?

4. Wskaż z tekstu dwa przykłady na dowód tego, że przepisy prawa nie traktowały wszystkich równo.

**ZADANIE V (0 – 5 p.)**

1. ....
2. ....
3. ....
4. ....
5. ....

**ZADANIE VI (0 – 5 p.)**

1. ....
2. ....
3. ....
4. ....
5. ....

**ZADANIE VII (0 – 4 p.)**

1.	Wyprawy Krzysztofa Kolumba miały miejsce:	
2.	Krzysztof Kolumb umierał przekonany, że:	
3.	Statek widoczny na ilustracji A to:	
4.	Trasę wyprawy Kolumba przedstawia mapa na ilustracji:	

**ZADANIE VIII (0 – 5 p.)**

1. ....
2. ....
3. ....
4. ....
5. ....

**ZADANIE IX (0 – 6 p.)**

1. Jak w historii nazywa się wydarzenia przedstawione w źródle I ?

.....

2. W którym roku miało one miejsce?

.....

3. Wyjaśnij, kim byli hugenoci.

.....

4. Jak nazywa się dokument przedstawiony w źródle II?

.....

5. Ile lat po wydarzeniu ukazanym w źródle I wydano dokument przedstawiony w źródle II?

.....

6. Jaką zasadę wprowadzał dokument przedstawiony w źródle II?

.....

**ZADANIE X (0 – 5 p.)**

1. ....

2. ....

3. ....

4. ....

5. ....

**ZADANIE XI (0 – 6 p.)**

1. ....

2. ....

3. ....

4. ....

5. ....

6. ....

**ZADANIE XII (0 – 4 p.)**

1. Wypisz imiona (i przydomki) władców, o których mowa w tekście:

.....

2. Podaj nazwę grodu, w którym doszło do spotkania:

.....

3. Ile lat później miała miejsce prawdziwa koronacja?

.....

**ZADANIE XIII (0 – 4 p.)**

1. ....
2. ....
3. ....
4. ....

**ZADANIE XIV (0 – 6 p.)**

	<b>ROK WYDARZENIA</b>	<b>MIASTO</b>
<b>FRAGMENT I</b>		
<b>FRAGMENT II</b>		
<b>FRAGMENT III</b>		

**ZADANIE XV (0 – 4 p.)**

Kraków był stolicą Polski od wieku .....

Warszawa była stolicą Polski od wieku .....

1. Stolicę Polski z Gniezna do Krakowa przeniósł .....
2. Stolicę z Krakowa do Warszawy przeniósł .....

**ZADANIE XVI (0 – 6 p.)**

	<b>MAPA PRZEDSTAWIA PAŃSTWO POLSKIE</b>	
	<b>A</b>	<b>B</b>
w wieku		
za panowania		
po podpisaniu unii		

**ZADANIE XVII (0 – 5 p.)**

	<b>WYDARZENIE</b>
WIELKA WOJNA Z ZAKONEM (XV wiek)	
WOJNA TRZYNASTOLETNIA (XV wiek)	
WOJNY Z ROSJĄ (XVII wiek)	
WOJNY ZE SZWECJĄ (XVII wiek)	
WOJNY Z TURCJĄ (XVII wiek)	



**ZADANIE XVIII (0 – 5 p.)**

1. ....
2. ....
3. ....
4. ....
5. ....

**ZADANIE XIX(0 – 5 p.)**

1. ....
2. ....
3. ....
4. ....
5. ....

**ZADANIE XX (0 – 5 p.)**

1. ....
2. ....
3. ....
4. ....
5. ....