

**Wojewódzki Konkurs Przedmiotowy
z Historii dla uczniów gimnazjów
województwa kujawsko-pomorskiego**

Etap szkolny – data: 26. 10. 2016 r.

Kod ucznia: _____

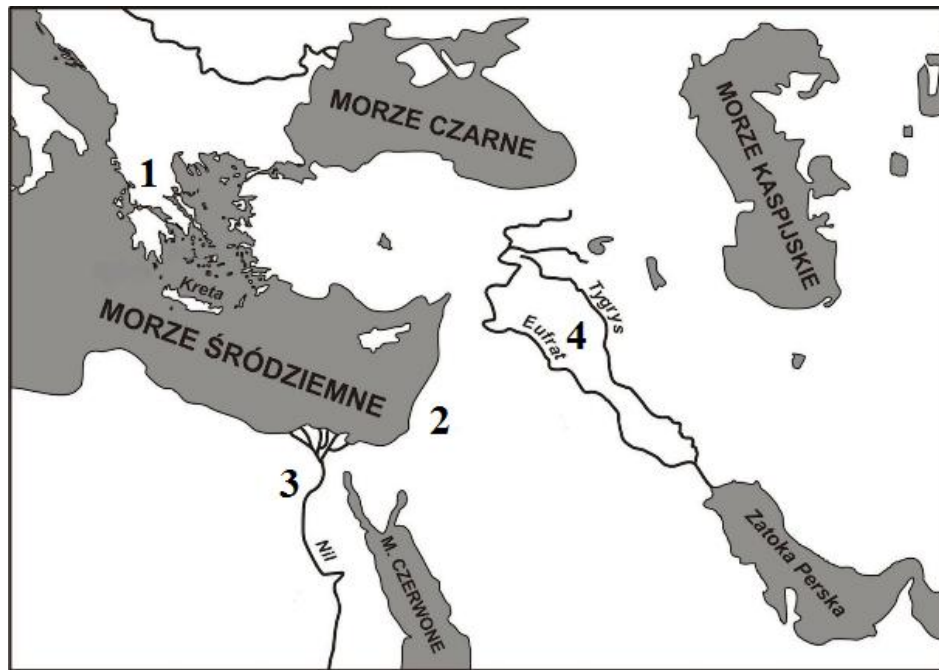
Wynik: _____/100 pkt.

Instrukcja dla ucznia

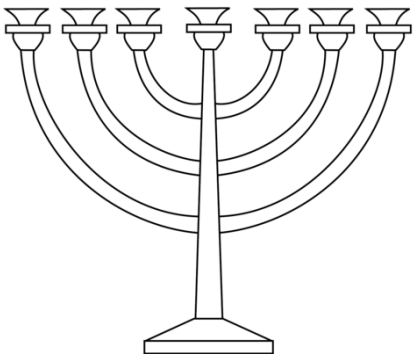

Zanim przystąpisz do rozwiązywania testu, przeczytaj uważnie poniższą instrukcję.

1. Wpisz w wyznaczonym miejscu na **TEŚCIE** i **KARCIE ODPOWIEDZI** swój kod ustalony przez Komisję Konkursową. **Nie wpisuj** swojego imienia i nazwiska.
2. Przed rozpoczęciem pracy sprawdź, czy twój arkusz testowy jest kompletny. Niniejszy arkusz testowy składa się z 8 stron i zawiera 18 zadań. Jeśli zauważysz jakiegokolwiek braki lub błędy w druku, zgłoś je natychmiast Komisji Konkursowej.
3. Przeczytaj uważnie i ze zrozumieniem polecenia i wskazówki do każdego zadania.
4. Odpowiedzi zapisuj w **KARCIE ODPOWIEDZI** długopisem z czarnym lub niebieskim tuszem.
5. Dbaj o czytelność pisma i precyzję odpowiedzi. W zadaniach wielokrotnego wyboru poprawne odpowiedzi zaznaczaj zgodnie z poleceniem.
6. Nie używaj korektora. Jeżeli pomylisz się, błędną odpowiedź otocz kółkiem i ponownie udziel poprawnej odpowiedzi. Oceniane będą tylko odpowiedzi, które zostały zaznaczone lub wpisane zgodnie z poleceniem i umieszczone w miejscu do tego przeznaczonym.
7. Przy każdym zadaniu podano maksymalną liczbę punktów, którą można uzyskać.
8. Na ostatniej stronie testu znajdziesz miejsce na brudnopis. **Brudnopis nie podlega ocenie.**
9. Pracuj samodzielnie.
10. Nie wolno wносить telefonów komórkowych na konkurs.
11. Całkowity czas na wykonanie testu pisemnego wynosi **60 minut.**

ZADANIE I (0 – 5 p.) Poniżej znajduje się mapa konturowa i ilustracje. Przeanalizuj ją i przy informacjach umieszczonych w tabeli w **KARCIE ODPOWIEDZI** dopisz odpowiednie cyfry.



Źródło: <http://bdp.ibe.edu.pl/public/files/media/historia/mapa-wschodu.png>

A	B
	

Źródło: A http://www.supercoloring.com/sites/default/files/styles/coloring_medium/public/cif/2015/12/menorah-coloring-page.png; B http://www.supercoloring.com/sites/default/files/styles/coloring_full/public/cif/2010/04/egyptian-gods-coloring-page.jpg

ZADANIE II (0 – 5 p.) Rozwiąż krzyżówkę dotyczącą urzędników sprawujących władzę w starożytnej Sparcie, Atenach i Rzymie.

1. Urzędnik republiki rzymskiej zajmujący się finansami publicznymi.
2. Urzędnicy sprawujący najwyższą władzę administracyjną i sądową w Sparcie, wybierano ich pięciu.
3. Wchodzili w skład Geruzji – rady działającej w Sparcie.
4. Urzędnik republiki rzymskiej wybierany na pół roku w sytuacji zagrożenia zewnętrznego państwa.
5. Urzędnik wybierany w demokratycznych Atenach, dowódca armii lub floty, wybierano ich dziesięciu, tworzyli kolegium.



ZADANIE III (0 – 3 p.) Połącz nazwy pojęć z ich charakterystyką. Do tabeli w **KARCIE ODPOWIEDZI** wpisz odpowiednie litery.

ARABESKA	A. osoba zwołująca pięć razy dziennie muzułmanów do modlitwy z wieży znajdującej się przy meczecie.
MUEZZIN	B. tytuł następców Mahometa, najwyższy przywódca religijny i świecki w społeczności muzułmańskiej.
KALIF	C. wysoka, zwykle smukła wieża stawiana przy meczecie z nadwieszonym balkonem lub galeryjką, z którego muezin może nawoływać wiernych na modlitwę.
	D. ornament ze stylizowanych wici roślinnych, motywów geometrycznych, niekiedy form zwierzęcych, znana od starożytności, stosowana w meczetach.

ZADANIE IV (0 – 7 p.) Uzupełnij tekst, wpisując przy odpowiednich cyfrach w **KARCIE ODPOWIEDZI** brakujące słowa:

Zjednoczenia Franków dokonał (1), który przyjął chrzest w 496 roku. Od VIII do X wieku w państwie Franków panowała dynastia (2) Jej najwybitniejszym przedstawicielem był (3), który prowadził wiele wojen i poszerzył granice swego państwa. W roku 800 został on koronowany przez papieża na (4) Temu wybitnemu władcy zawdzięczamy reformę języka (5), którą oczyszczono z naleciałości germańskich. Stolicą państwa był (6) Monarchia została podzielona na trzy części w 843 roku na mocy postanowień traktatu w (7)

ZADANIE V (0 – 5 p.) Nazwij wydarzenia przedstawione na ilustracjach i uzupełnij zdania umieszczone pod nimi. Odpowiedzi wpisz do **KARTY ODPOWIEDZI**.

A	B
	

Źródło: A <http://www.bikop.eu/Content/383/20121121-0534.jpg>

B <http://blogiceo.nq.pl/turniejerycerskie/turnieje/>

Obie ilustracje nawiązują do kultury czasów (1), w których ukształtował się podział społeczeństwa na (2), z których każdy stworzył własną kulturę. Ilustracje nawiązują do kultury (3)

ZADANIE VI (0 – 5 p.) Do nazwisk żeglarzy w KARCIE ODPOWIEDZI dopisz miasto lub państwo, z których pochodzili, a następnie uzupełnij zdania dotyczące wypraw wymienionych odkrywców.

1. Krzysztof Kolumb,
2. Vasco da Gama,
3. Ferdynand Magellan
 - A. Najwcześniej miała miejsce wyprawa
 - B. Najdłużej trwała wyprawa

ZADANIE VII (0 – 10 p.) Poniżej znajduje się 10 pytań do których przygotowano po cztery odpowiedzi, z których tylko jedna jest prawdziwa. Do tabeli w KARCIE ODPOWIEDZI przy odpowiednich cyfrach wpisz litery oznaczające prawidłową odpowiedź.

1. Kultura renesansu powstała w XV wieku na terenie:
 - A. Włoch (Italii),
 - B. Niemiec,
 - C. Francji,
 - D. Anglii.
2. Nazwa „odrodzenie” oznacza, że w tym czasie artyści sięgali do elementów kultury:
 - A. średniowiecznej,
 - B. starożytnej,
 - C. bizantyjskiej,
 - D. arabskiej.
3. Humanistą w okresie renesansu był człowiek, który:
 - A. interesował się życiem człowieka i jego sprawami,
 - B. pomagał ludziom w trudnych chwilach,
 - C. zajmował się opisywaniem świata przyrody,
 - D. studiował teologię.
4. Erazm z Rotterdamu jest autorem dzieła:
 - A. „Umowa społeczna”,
 - B. „O duchu praw”,
 - C. „Pochwała głupoty”,
 - D. „Kodeks Atlantycki”.
5. Autorem obrazu „Mona Lisa” jest:
 - A. Michał Anioł,
 - B. Rafael Santi,
 - C. Donato Bramante,
 - D. Leonardo da Vinci.
6. Marcin Luter w swoich „95 tezach”, które wywiesił na drzwiach kościoła w Wittenberdze potępiał:
 - A. symonię,
 - B. bogactwo Kościoła,
 - C. sprzedaż odpustów,
 - D. nepotyzm.
7. Jan Kalwin głosił naukę o predestynacji, która zakładała, że:
 - A. najważniejsza w wyznawaniu wiary jest „Biblia”,
 - B. losy człowieka z góry określone są przez wolę Boga,
 - C. papież jest zwierzchnikiem Kościoła,
 - D. wierni powinni podporządkować swoje życie religii.

8. W XVI wieku w Anglii powstało wyznanie chrześcijańskie, którego główną cechą było:
 - A. odrzucenie zwierzchnictwa papieża,
 - B. utrzymanie klasztorów i dóbr kościelnych,
 - C. wprowadzenie nowych dogmatów i obrzędów,
 - D. nawiązanie do religii islamu.
9. Zasadę tolerancji religijnej wprowadzono pod koniec XVI wieku na terenie:
 - A. Niemiec,
 - B. Szwajcarii,
 - C. Francji,
 - D. Niderlandów.
10. Jan Gutenberg wynalazł ruchomą czcionkę drukarską w połowie:
 - A. XVII wieku,
 - B. XIV wieku,
 - C. XVI wieku,
 - D. XV wieku.

ZADANIE VIII (0 – 4 p.) Rozpoznaj typ monarchii i podaj państwo, w którym w XVII wieku ukształtował się ten ustrój polityczny. Uzupełnij tabelę w KARCIE ODPOWIEDZI.

1. „Państwo to ja”
2. „Król panuje, ale nie rządzi”.

ZADANIE IX (0 – 6 p.) Do tabeli w KARCIE ODPOWIEDZI wpisz odpowiednio wyrażenia z ramki. **(UWAGA! Wyrażeń jest więcej – dwa z nich nie pasują do tabeli!)**

* KONSTYTUCJA Z 1787 ROKU * STANY GENERALNE * DŁUGI PARLAMENT *
 *KONGRES KONTYNENTALNY * DEKLARACJA PRAW CZŁOWIEKA I OBYWATELA *
 KONSTYTUCJA Z 1791 ROKU * DEKLARACJA NIEPODLEGŁOŚCI *
 * HABEAS CORPUS ACT *

ZADANIE X (0 – 5 p.) Poniżej wypisano fragmenty średniowiecznych kronik i dokumentów. Przeczytaj je uważnie i następnie w KARCIE ODPOWIEDZI napisz, którego z władców z dynastii Piastów dotyczą.

1. *„Dotychczas jednak w takich pogrążony był błędach pogaństwa, że wedle swego zwyczaju siedmiu żon zażywał. W końcu zażądał w małżeństwo jednej bardzo dobrej chrześcijanki z Czech, imieniem Dąbrówka”.*
 (Kronika Galla Anonima - http://mlektury.pl/teksty_/kronika_Galla_Anonima_tekst.pdf)
2. *„Zważywszy jego chwałę, potęgę i bogactwo, cesarz rzymski zawołał w podziwie: „Na koronę mego cesarstwa! To co widzę, większe jest niż wieść głosiła”.*
 (Kronika Galla Anonima - http://mlektury.pl/teksty_/kronika_Galla_Anonima_tekst.pdf)
3. *„Winienieś albo przyjąć z powrotem brata swego, oddając mu połowę królestwa, a mnie płacić rocznie 300 grzywien trybutu lub tyluż rycerzy dostarczyć na wyprawę albo ze mną, jeśli czujesz się na siłach, podzielić mieczem Królestwo Polskie”*
 (Kronika Galla Anonima - http://mlektury.pl/teksty_/kronika_Galla_Anonima_tekst.pdf)
4. *„Księżę zaś (...) wszedłszy do Krakowa z liczniejszym niż kiedy indziej rycerstwa poczem, wszystkie dochody wójtostwa krakowskiego, opłaty z młynów, jatek, sklepów, domów i innych miejsc (...) zabrał i do swego książęcego stołu przydzielił. Niektórych zaś z mieszczan krakowskich, sprawców i*

przywódców buntu, na postrach i przykład dla drugich, aby się podobnej wystrzegali zbrodni, kazał pojmać i końmi włóczyć po ulicach, a potem wieszać albo w koło wplatać”

(Kronika Jana Długosza -

http://www.dbp.wroc.pl/biblioteki/wroclaw/attachments/article/714/Jan%20D%20C5%82ugosz_Roczniki%20czyli%20Kroniki%20s%20C5%82awnego%20Kr%20C3%B3lestwa%20Polskiego)

5. *„Ponieważ jest jeden władca i jedno prawo, jedna moneta powinna być w całym królestwie, która niech będzie stała i dobra w wartości, aby dzięki temu była wszystkim szczególnie miła”.*

(Statut wielkopolski - <http://polskakazimierzawielkiego.bloggg.pl/>)

ZADANIE XI (0 – 10 p.) Uzupełnij tekst dotyczący stosunków polsko – krzyżackich. Przy odpowiednich cyfrach w KARCIE ODPOWIEDZI wpisz brakujące informacje.

Zakon Krzyżacki sprowadził do Polski w 1226 roku księżę (1), by bronić Mazowsza przed atakami pogańskich Prusów. Do końca XIII wieku Krzyżacy opanowali tereny zajmowane przez Prusów i stworzyli tam państwo. W latach 1308 – 1309 zajęli obszar (2), Władysław Łokietek podjął walkę przeciwko Krzyżakom i pokonał ich w bitwie pod (3) w 1331 roku. Mimo zwycięstwa Krzyżacy zajęli rok później (4), W czasie swego panowania Kazimierz Wielki próbował rozwiązać konflikt z Krzyżakami na drodze pokojowej. W (5) roku odbył się proces warszawski, w wyniku którego przyznano Polsce wszystkie zagarnięte przez Krzyżaków ziemie i olbrzymie odszkodowanie. Wyrok ten pozostał tylko na papierze i Kazimierz Wielki podjął rokowania z Krzyżakami. Ich efektem było podpisanie pokoju w (6) w 1343 roku. Do Polski wróciły Kujawy i ziemia dobrzyńska. Do kolejnych konfliktów z Krzyżakami doszło za panowania Jagiellonów. W latach (7) toczyła się Wielka Wojna z Zakonem, zakończona podpisaniem I pokoju toruńskiego. Za panowania Kazimierza Jagiellończyka doszło do wojny (8), w wyniku której Polska odzyskała Pomorze Gdańskie, ziemię chełmińską, ziemię michałowską i Warmię. W latach 1519 – 1521 miała miejsce ostatnia wojna z Krzyżakami. W (9) roku w Krakowie został zawarty traktat między Zygmuntem I Starym a Albrechtem – Wielkim Mistrzem Zakonu. W jego wyniku państwo Zakonu Krzyżackiego w Prusach przestało istnieć, a na tym terenie powstało państwo świeckie pod nazwą (10)

ZADANIE XII (0 – 5 p.) Przy odpowiednich cyfrach w KARCIE ODPOWIEDZI dopisz pojęcia, których charakterystyka znajduje się poniżej.

1. Ciężkozbrojna jazda polska (XVI-XVIII w.) uzbrojona m.in. w półzbroje ze skrzydłami, szyszaki oraz kopie i broń białą;
2. Zbrojne wystąpienie szlachty przeciw królowi pod hasłami obrony praw i swobód szlacheckich;
3. Wybór króla przez ogół szlachty;
4. Z języka greckiego – rządy nielicznych, określenie grupy magnatów dominujących w życiu politycznym państwa;
5. Styl życia i myślenia szlachty polskiej w XVII wieku, którego cechami były m. in.: wiara w pochodzenie od starożytnych Sarmatów, duma z wolności i równości członków stanu szlacheckiego.

ZADANIE XIII (0 – 5 p.) Przeanalizuj poniższą mapę i oceń, czy zdania znajdujące się w tabeli w KARCIE ODPOWIEDZI są prawdziwe czy fałszywe. Wpisz odpowiednio słowo „prawda” lub „fałsz”.



Źródło: <http://wlpaczpolske.pl/pliczki/2022>

ZADANIE XIV (0 – 6 p.) Poniżej wypisano postanowienia pokojów, które zawarła Polska w XVII wieku. Do tabeli w KARCIE ODPOWIEDZI dopisz odpowiednio rok i miejsce podpisania każdego traktatu. Wykorzystaj informacje z ramki (**UWAGA! Jest ich więcej, niektóre nie pasują!**).

NUMER	POSTANOWIENIA POKOJU
I	Polska utraciła na rzecz Rosji lewobrzeżną Ukrainę wraz z Kijowem, ziemię smoleńską, ziemię czernihowską i ziemię siewierską.
II	Rzeczpospolita odzyskała Podole i Ukrainę zagarniętą wcześniej przez Turków.
III	Jan Kazimierz rzekł się tytułu króla szwedzkiego, a Rzeczpospolita Inflant (utraconych już wcześniej na rzecz Szwecji).

* Oliwa * 1686 * 1699 * Polanowo * Karłowice *
 * 1660 * Moskwa * 1634 *

ZADANIE XV (0 – 4 p.) Przeczytaj uważnie poniższy tekst, następnie uzupełnij zdania umieszczone w KARCIE ODPOWIEDZI.

„Twierdza wznosiła się na wysokiej skale nad Smortyczą, w miejscu trudno dostępnym dla napastnika. Osman podobno długo się przyglądał fortyfikacjom. Po długim milczeniu zapytał wreszcie „Kto zbudował ten zamek?” Na to jeden z dostojników odpowiedział „Podobno sam Bóg”. „To niechże i sam Bóg go zdobywa” powiedział zdenerwowany sultan i zawrócił swoje wojska spod zamku”.

Źródło: <http://historykon.pl>



Źródło: <http://www.abcukraina.pl/images/stories/Ukraina>

ZADANIE XVI (0 – 4 p.) Do podanych tytułów dzieł twórców polskiego Oświecenia przy odpowiednich cyfrach w KARCIE ODPOWIEDZI dopisz imiona i nazwiska autorów.

1. „O skutecznym rad sposobie”,
2. „Głos wolny wolność ubezpieczający”,
3. „Anonima listów kilka”,
4. „Mikołaja Doświadczyńskiego przypadki”

ZADANIE XVII (0 – 5 p.) W ramce poniżej umieszczono wydarzenia z historii Polski XVIII wieku. Do tabeli w KARCIE ODPOWIEDZI wpisz odpowiednio te, które miały miejsce za panowania Augusta II i Augusta III.

* powstanie publicznej Biblioteki Załuskich* konfederacja tarnogrodzka *
* Sejm Niemy * utworzenie Colegium Nobilium * traktat Loewenwolda *

ZADANIE XVIII (0 – 6 p.) Uzupełnij tabelę znajdującą się w KARCIE ODPOWIEDZI wpisując odpowiednio w puste miejsca **po jednym wydarzeniu** z poniższej ramki.

* likwidacja państwa polskiego * konfederacja targowicka *
* utrata Pomorza Gdańskiego * konfederacja barska * powstanie kościuszkowskie *
* utrata Ukrainy i Podola *

Wojewódzki Konkurs Przedmiotowy z Historii dla uczniów gimnazjów województwa kujawsko-pomorskiego – etap szkolny – data: 26. 10. 2016 r.

KARTA ODPOWIEDZI UCZNIĄ

Kod ucznia: _____

Wynik: _____ / 100 pkt.

ZADANIE I (0 – 5 p.)

INFORMACJA	NUMER NA MAPIE
Został tam spisany kodeks Hammurabiego.	
Organizowano tam igrzyska sportowe ku czci boga Zeusa.	
Powstała tam religia, z którą związany jest symbol na ilustracji A.	
Bogów wyobrażano sobie tam w sposób przedstawiony na ilustracji B.	
Powstało tam najstarsze pismo na świecie – pismo klinowe.	

ZADANIE II (0 – 5 p.)

1									
			2						
						3			
							4		

ZADANIE III (0 – 3 p.)

ARABESKA	MUEZZIN	KALIF

ZADANIE IV (0 – 7 p.)

1.
2.
3.
4.
5.
6.
7.

ZADANIE V (0 – 5 p.)

ILUSTRACJA A

ILUSTRACJA B

1.
2.
3.

ZADANIE VI (0 – 5 p.)

1. Krzysztof Kolumb -
2. Vasco da Gama -
3. Ferdynand Magellan -

A. Najwcześnieij miała miejsce wyprawa

B. Najdłużej trwała wyprawa

ZADANIE VII (0 – 10 p.)

PYTANIE	1	2	3	4	5	6	7	8	9	10
ODPOWIEDŹ										

ZADANIE VIII (0 – 4 p.)

	TYP MONARCHII	PAŃSTWO
<i>„Państwo to ja”</i>		
<i>„Król panuje, ale nie rządzi”</i>		

ZADANIE IX (0 – 6 p.)

REWOLUCJA FRANCUSKA	WOJNA O NIEPODLEGŁOŚĆ USA

ZADANIE X (0 – 5 p.)

1.
2.
3.
4.
5.

ZADANIE XI (0 – 10 p.)

1.
2.
3.
4.
5.
6.
7.
8.
9.
10.

ZADANIE XII (0 – 5 p.)

1.
2.
3.
4.
5.

ZADANIE XIII (0 – 5 p.)

Mapa przedstawia Polskę i Litwę po podpisaniu unii lubelskiej.	
Podlasie, Wołyń, Ukraina przed podpisaniem unii należały do tylko Litwy.	
Inflanty stały się lennem Polski i Litwy po podpisaniu unii w Lublinie.	
Stolicą Rzeczypospolitej Obojga Narodów w 1569 roku była Warszawa.	
Unię lubelską zawarto 184 lata po podpisaniu pierwszej unii polsko – litewskiej w Krewie.	

ZADANIE XIV (0 – 6 p.)

NUMER INFORMACJI	MIEJSCE PODPISANIA POKOJU	ROK PODPISANIA POKOJU
I		
II		
III		

ZADANIE XV (0 – 4 p.)

1. Twierdza, którą zobaczył Osman znajdowała się w
2. Została ona przedstawiona na ilustracji numer
3. Turcy zdobyli twierdzę w roku
4. Królem Polski był wówczas

ZADANIE XVI (0 – 4 p.)

1.
2.
3.
4.

ZADANIE XVII (0 – 5 p.)

AUGUST II MOCNY	AUGUST III

ZADANIE XVIII (0 – 6 p.)

PRZYCZYNA – wydarzenie poprzedzające rozbiór	ROZBIÓR POLSKI	SKUTEK – następstwo rozbioru
	PIERWSZY ROZBIÓR	
	DRUGI ROZBIÓR	
	TRZECI ROZBIÓR	

