

**Wojewódzki Konkurs Przedmiotowy  
z Historii dla uczniów gimnazjów  
województwa kujawsko-pomorskiego**

**Etap rejonowy – data: 03.12.2015 r.**

**Instrukcja dla ucznia**

**Zanim przystąpisz do rozwiązywania testu, przeczytaj uważnie poniższą instrukcję.**


1. Wpisz w wyznaczonym miejscu w **KARCIE ODPOWIEDZI** swój kod ustalony przez Komisję Konkursową. Nie wpisuj swojego imienia i nazwiska.
2. Przed rozpoczęciem pracy sprawdź, czy twój arkusz testowy jest kompletny. Niniejszy arkusz testowy składa się z **11** stron i zawiera **22** zadania. Jeśli zauważysz jakiegokolwiek braki lub błędy w druku, zgłoś je natychmiast Komisji Konkursowej.
3. Przeczytaj uważnie i ze zrozumieniem polecenia i wskazówki do każdego zadania.
4. Odpowiedzi zapisuj w **KARCIE ODPOWIEDZI** długopisem z czarnym lub niebieskim tuszem.
5. Dbaj o czytelność pisma i precyzję odpowiedzi. W zadaniach wielokrotnego wyboru poprawne odpowiedzi zaznaczaj zgodnie z poleceniem.
6. Nie używaj korektora. Jeżeli pomylisz się, błędną odpowiedź otocz kółkiem i ponownie udziel poprawnej odpowiedzi. Oceniane będą tylko odpowiedzi, które zostały zaznaczone lub wpisane zgodnie z poleceniem i umieszczone w miejscu do tego przeznaczonym.
7. Przy każdym zadaniu podano maksymalną liczbę punktów, którą można uzyskać.
8. Na ostatniej stronie KARTY ODPOWIEDZI znajdziesz miejsce na brudnopis. **Brudnopis nie podlega ocenie.**
9. Pracuj samodzielnie.
10. Nie wolno wносить telefonów komórkowych na konkurs.
11. Całkowity czas na wykonanie testu pisemnego wynosi **90 minut.**

## HISTORIA POWSZECHNA

**ZADANIE I (0 – 2 p.)** Poniżej znajdują się dwa pojęcia związane z najdawniejszymi dziejami człowieka. Przeczytaj je uważnie, następnie przy odpowiednich cyfrach w KARCIE ODPOWIEDZI wpisz ich nazwy.

1. Historia rodowa człowieka i człowiekowatych, procesy biologiczne, które doprowadziły do powstania człowieka.
2. Proces powstawania gatunku człowiek rozumny (*homo sapiens*), w którym wyróżnia się m.in. ukształtowanie pionowej postawy ciała, umiejętność dwunożnego chodu, refleksyjnego myślenia i mowy.

**ZADANIE II (0 – 6 p.)** Rozpoznaj obiekt umieszczony na zdjęciu, następnie uzupełnij zdania umieszczone pod zdjęciem. Brakujące informacje wpisz przy odpowiednich cyfrach w KARCIE ODPOWIEDZI.



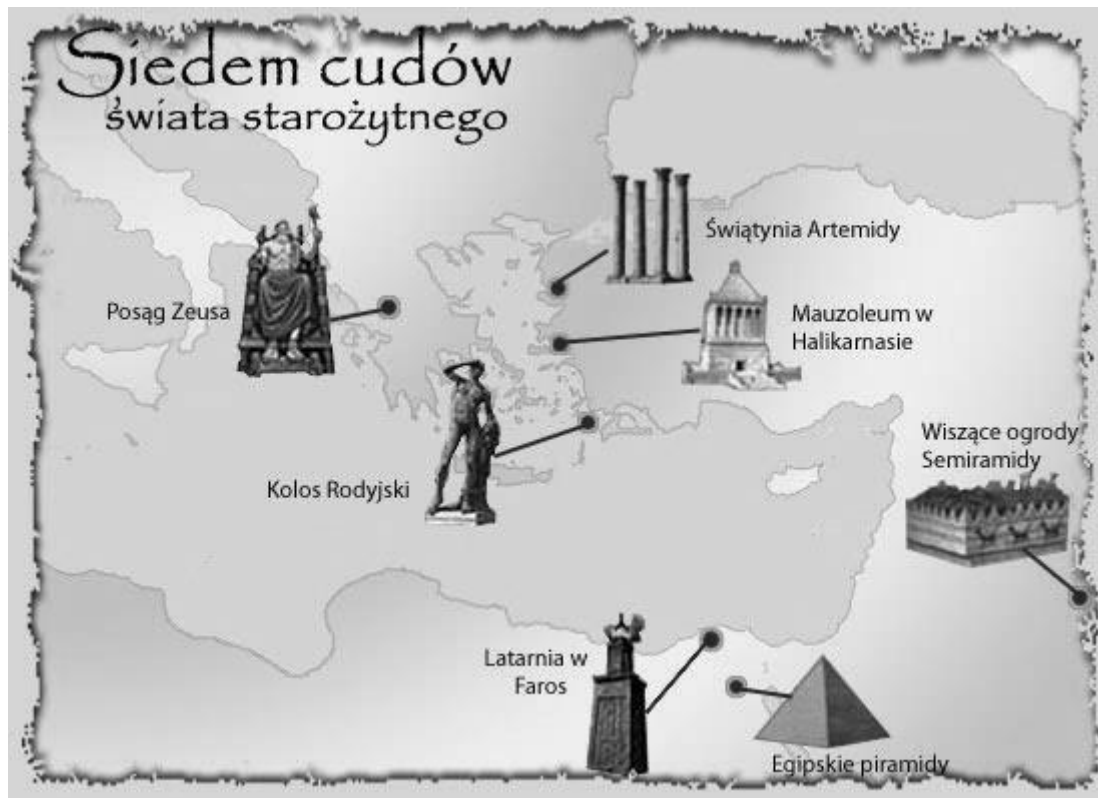
Źródło: [http://www.zsplast.gdynia.pl/historia\\_sztuki/kanon\\_dziel\\_obrazy/egipt/kamien\\_z\\_rosetty.jpg](http://www.zsplast.gdynia.pl/historia_sztuki/kanon_dziel_obrazy/egipt/kamien_z_rosetty.jpg)

Zdjęcie przedstawia (1) ..... Został on odnaleziony na terenie (2) ..... przez francuskich saperów z armii Napoleona pod koniec (3) ..... wieku. Na kamieniu został wryty tekst w trzech wersjach pisma, z których wówczas znane było pismo (4) ..... Porównanie tych wersji tekstu umożliwiło naukowcom odczytanie pisma (5) ..... Obecnie płyta znajduje się w muzeum w (6) .....

**ZADANIE III (0 – 3 p.)** Poniżej znajdują się nazwy świąt obchodzonych przez wyznawców judaizmu i ich krótka charakterystyka. Połącz je i do tabeli w KARCIE ODPOWIEDZI do cyfr dopisz odpowiednie litery.

1. PASCHA	A. Święto uważane za najbardziej poważne i uroczyste spośród wszystkich świąt, jest dniem, kiedy można od Boga uzyskać przebaczenie. Jego liturgia to wspólna modlitwa społeczności w synagodze.
2. ŚWIĘTO SZALAŚÓW (SUKKOT)	B. Jest jednym z trzech największych świąt. Jest pamiątką niewolnictwa i wyjścia Żydów z Egiptu, symbolem wolności narodu żydowskiego, jedności i stabilności rodziny żydowskiej, wreszcie - świętem wiosny.
3. DZIEŃ POKUTY (YOM KIPPUR)	C. Jest ostatnim z trzech świąt pielgrzymich. Nazwa święta związana jest z czterdziestoma latami tułaczki biblijnych Żydów po pustyni i zamieszkiwania przez nich w tymczasowych schronieniach

**ZADANIE IV (0 – 5 p.)** Poniżej znajduje się mapka przedstawiająca siedem cudów świata starożytnego. Korzystając z informacji ze źródła i własnej wiedzy odpowiedz na pytania umieszczone pod mapką. Odpowiedzi zapisz przy odpowiednich cyfrach w KARCIE ODPOWIEDZI.



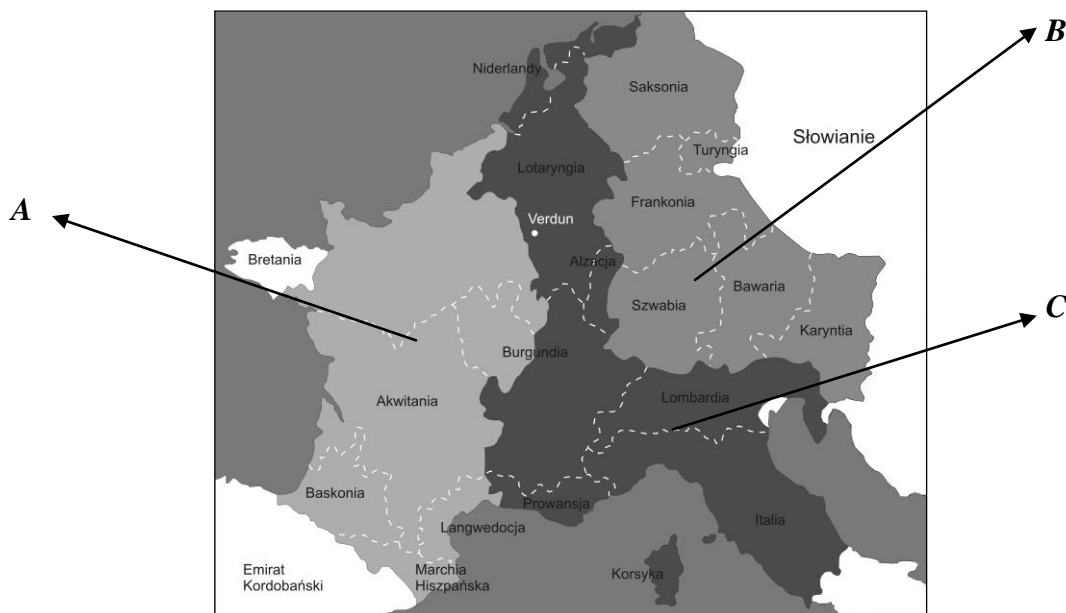
Źródło: <http://zhistorii.blogspot.com/2014/05/siedem-cudow-swiate-starozytnego-czyli.html>

1. Jaką funkcję pełnił Kolos Rodyjski?
2. W którym mieście znajdował się Posąg Zeusa?
3. W którym państwie znajdowały się wiszące ogrody?
4. W którym mieście znajdowała się Świątynia Artemidy?
5. Który z siedmiu cudów świata istnieje do dziś?

**ZADANIE V (0 – 8 p.)** Uzupełnij tekst dotyczący Cesarstwa Bizantyjskiego. Przy odpowiednich cyfrach w KARCIE ODPOWIEDZI wpisz brakujące informacje.

Podział Cesarstwa Rzymskiego na dwie części nastąpił pod koniec (1) ..... wieku n.e. Cesarstwo zachodniorzymskie upadło w (2) ..... roku w wyniku najazdu barbarzyńców. Cesarstwo wschodniorzymskie zostało podbite przez (3) ..... i przestało istnieć w 1453 roku. Stolicą Bizancjum był (4) ..... Cesarz (5) ..... w VI wieku nakazał wybudować w stolicy Kościół Hagia Sophia (Mądrości Bożej). Mieszkańcy Bizancjum wyznawali chrześcijaństwo. Zwierzchnikiem kościoła bizantyjskiego był cesarz, który wyznaczał (6) ..... – najwyższego duchownego. W połowie XI wieku doszło do konfliktu pomiędzy nim a papieżem. Jego skutkiem była tzw. (7) ..... czyli rozłam kościoła chrześcijańskiego i powstanie dwóch nowych wyznań: rzymskokatolickiego i (8) .....

**ZADANIE VI (0 – 5 p.)** Poniżej znajduje się mapka przedstawiająca podział państwa Karola Wielkiego. Wykonaj polecenia znajdujące się pod mapką i zapisz odpowiedzi przy odpowiednich cyfrach w KARCIE ODPOWIEDZI.




Źródło: [https://pl.wikipedia.org/wiki/Traktat\\_w\\_Verdun#/media/File:Traktat\\_verdun.svg](https://pl.wikipedia.org/wiki/Traktat_w_Verdun#/media/File:Traktat_verdun.svg)

1. Ile lat temu podpisano traktat w Verdun (licząc do roku 2015)?
2. Kto dokonał podziału państwa Karola Wielkiego?
3. Przy literach wpisz imiona władców, którzy dostali określone tereny.

**ZADANIE VII (0 – 5 p.)** Poniżej znajduje się pięć zdań dotyczących kultury średniowiecza. Oceń ich prawdziwość. Przy odpowiednich cyfrach w KARCIE ODPOWIEDZI wpisz słowo „prawda” lub słowo „fałsz”.

1. Pierwsze uniwersytety w Europie Zachodniej powstały w XIV wieku.
2. Siedem sztuk wyzwolonych składało się z dwóch stopni: trivium i quadrivium.
3. Pierwszym zakonem utworzonym w średniowieczu był zakon benedyktynów.
4. Tomasz z Akwinu w swych dziełach odwoływał się do filozofii Platona.
5. We Francji wędrownych poetów i muzyków nazywano trubadurami.

**ZADANIE VIII (0 – 3 p.)** Rozpoznaj dzieła wybitnych twórców włoskiego renesansu. Przy odpowiednich literach w KARCIE ODPOWIEDZI wpisz imię i nazwisko artysty. (Źródło: <https://pl.wikipedia.org> xxx)



**ZADANIE IX (0 – 3 p.)** Poniżej umieszczono miejsca odkryte przez Europejczyków w czasie wielkich odkryć geograficznych. Uzupełnij tabelę w KARCIE ODPOWIEDZI – wpisz imię i nazwisko podróżnika oraz wiek, w którym dokonał odkrycia.

1. Filipiny,
2. San Salvador,
3. Kalikat.

**ZADANIE X (0 – 4 p.)** Poniżej umieszczono ilustrację przedstawiającą jednego z królów Francji. Rozpoznaj władcę i wykonaj polecenia znajdujące się poniżej. Odpowiedzi zapisz przy odpowiednich cyfrach w KARCIE ODPOWIEDZI.



Źródło: <http://www.newsweek.pl/g/i.aspx/328/0/newsweek/635412904964357572.jpg>

1. Na podstawie poniższych informacji rozpoznaj postacie, z którymi współpracował władca.
  - A. (1602-1661), kardynał, polityk francuski pochodzenia włoskiego. W latach 1634-1636 przebywał jako nuncjusz papieski we Francji. Za namową kardynała A.J. Richelieu przyjął stanowisko pierwszego ministra króla Ludwika XIII. Funkcję tę pełnił przez cały okres regencji Anny Austriaczki i po objęciu tronu przez jej syna.
  - B. (1619-1683), francuski mąż stanu, doradca króla. Kierował całą administracją. Zwolennik władzy absolutnej - dążył do scentralizowania organizacji państwowych, zniósł przywileje miast i prowincji, podporządkowując je jednolitemu prawodawstwu. Uporządkował system wag, miar, a także podatkowy. Jako zwolennik merkantylnizmu dążył do uprzemysłowienia Francji i jej wzbogacenia.
2. Podaj nazwę ustroju politycznego, który za panowania tego władcy ukształtował się we Francji.

**ZADANIE XI (0 – 6 p.)** Przeczytaj uważnie poniższy tekst, następnie odpowiedz na pytania znajdujące się poniżej. Odpowiedzi zapisz przy odpowiednich cyfrach w KARCIE ODPOWIEDZI.

### **„Artykuł I**

§1. Wszelka niniejszym przyznana władza ustawodawcza przysługuje Kongresowi Stanów Zjednoczonych, który składa się z Senatu i z Izby Reprezentantów.

§2. W skład Izby Reprezentantów wchodzi członkowie wybierani co dwa lata przez ludność poszczególnych stanów; w każdym stanie wyborcy powinni odpowiadać wymogom, określonym dla wyborców tej izby ciała ustawodawczego stanu, która składa się z większej liczby członków.

§3. Senat Stanów Zjednoczonych składa się z senatorów wybieranych po dwu z każdego stanu przez jego ciało ustawodawcze na lat sześć; każdy senator rozporządza jednym głosem.

### **Artykuł II**

§1. Władzę wykonawczą sprawuje prezydent Stanów Zjednoczonych Ameryki. Urząd swój pełni przez okres lat czterech, a wybierany jest wraz z obieranym na ten sam okres wiceprezydentem (...)

### **Artykuł III**

§1. Władzę sądową Stanów Zjednoczonych sprawuje jeden Sąd Najwyższy oraz takie sądy niższe, jakie z biegiem czasu Kongres ustanowi i utworzy. Sędziowie zarówno Sądu Najwyższego, jak i niższych sądów pozostają na swym urzędzie, dopóki sprawują go nienagannie. Za swoją służbę otrzymują w określonych terminach uposażenie, które nie może być obniżone, dopóki pełnią swój urząd”

Źródło: <http://www.kolousa.wssm.edu.pl/res/konstytucja.pdf>

1. W którym państwie został ogłoszony ten dokument?
2. W którym roku został uchwalony?
3. Jaką zasadę opracowaną w czasach oświecenia wykorzystali twórcy dokumentu?
4. Jak długo trwała kadencja poszczególnych organów władzy wymienionych w artykułach I i II?

**ZADANIE XII (0 – 10 p.)** Poniżej znajduje się 10 pytań, do których przygotowano po cztery odpowiedzi, z których tylko jedna jest prawdziwa. Do tabeli w KARCIE ODPOWIEDZI przy odpowiednich cyfrach wpisz litery oznaczające prawidłową odpowiedź.

1. Ludwik XVI w 1789 roku zwołał Stany Generalne, ponieważ:
  - A. trzeba było uchwalić nowe podatki,
  - B. chciał uchwalić konstytucję,
  - C. żądała tego burżuazja,
  - D. lud Paryża zdobył Bastylię.
2. Po otwarciu Stanów Generalnych przedstawiciele stanu trzeciego ogłosili się:
  - A. Konstytuanta,
  - B. Dyrektoriatem,
  - C. Zgromadzeniem Narodowym,
  - D. Legislatywą.
3. W czasie rewolucji francuskiej na czele klubu jakobinów stał:
  - A. Georges Danton,
  - B. Maksymilian Robespierre,
  - C. Jean Paul Marat,
  - D. Georges Couthon.
4. Napoleon Bonaparte dokonał zamachu stanu i utworzył Konsulat w roku:

- A. 1799,
  - B. 1801,
  - C. 1804,
  - D. 1807.
5. Śluby cywilne i rozwody wprowadzono we Francji na podstawie zapisów w:
- A. Deklaracji Praw Człowieka i Obywatela,
  - B. Konstytucji z 1791 roku,
  - C. Konstytucji z 1795 roku,
  - D. Kodeksie Cywilnym.
6. W czasie obrad kongresu wiedeńskiego wojska Napoleona poniosły ostateczną klęskę w bitwie pod:
- A. Lipskiem,
  - B. Waterloo,
  - C. Austerlitz,
  - D. Borodino.
7. Zasada legitymizmu wprowadzona w czasie kongresu wiedeńskiego oznaczała:
- A. przywrócenie ustroju absolutnego we Francji,
  - B. konieczność utrzymania równowagi sił w Europie,
  - C. nienaruszalność historycznych uprawnień dynastii do tronów i ziem,
  - D. zlikwidowanie prawodawstwa epoki napoleońskiej.
8. Państwem, które w 1815 roku ogłosiło wieczystą neutralność była:
- A. Francja,
  - B. Hiszpania,
  - C. Wielka Brytania,
  - D. Szwajcaria.
9. Wśród państw, które w 1815 roku utworzyły Święte Przymierze nie było:
- A. Francji,
  - B. Rosji,
  - C. Austrii,
  - D. Prus.
10. Na mocy postanowień kongresu wiedeńskiego w 1815 roku na tronie Francji zasiadł Ludwik XVIII, który był dla świątego Ludwika XVI:
- A. synem,
  - B. bratem,
  - C. wnukiem,
  - D. zięciem.

## HISTORIA POLSKI

**ZADANIE XIII (0 – 6 p.)** Przeczytaj poniższe teksty źródłowe – fragmenty kronik Galla Anonima i Thietmara. Korzystając z informacji w nich zawartych uzupełnij tabelę znajdującą się w KARCIE ODPOWIEDZI.

### FRAGMENT KRONIKI GALLA ANONIMA

*[...] cesarz Otto [...] przybył do [grobu] św. Wojciecha dla modlitwy i pojednania, a zarazem w celu poznania sławnego Bolesława [...]. Bolesław przyjął go zaszczycie i okazał, jak wypadło przyjęc króla, cesarza rzymskiego i dostojnego gościa. Albowiem na przybycie cesarza przygotował przedziwne [wprost] cuda; najpierw hufce przeróżne rycerstwa, następnie dostojników rozstawił jak chóry na obszernej równinie, a poszczególne z osobna stojące hufce wyróżniała odmienna barwa strojów. [...] Zważywszy jego chwałę, potęgę i bogactwo, cesarz rzymski zawołał w podziwie: „Na koronę mego cesarstwa! To, co widzę, większe jest, niż wieść głosiła!” I za radą swych magnatów dodał wobec wszystkich: „Nie godzi się takiego i tak wielkiego męża, jakby jednego spośród dostojników, księciem nazywać lub hrabią, lecz [wypada] chlubnie wynieść go na tron królewski i uwieńczyć koroną”. A zdjąwszy z głowy swój diadem cesarski, włożył go na głowę Bolesława na [zadatek] przymierza i przyjaźni i za chorągiew triumfalną dał mu w darze gwóźdź z Krzyża Pańskiego wraz z włócznią św. Maurycego, w zamian za co Bolesław ofiarował mu ramię św. Wojciecha.*

Źródło: <http://www.law.uj.edu.pl/~khpp/fontesu/gall.htm>

### FRAGMENT KRONIKI THIETMARA

*Następnie cesarz [Otton III] na wieść o cudach, jakie Bóg działał przez milego sobie męczennika Wojciecha, pospieszył tamże celem pomodlenia się [przy jego grobie]. [...] Minąwszy granicę Milczan, doszedł do ziemi Dziadoszan, gdzie z niezmierną serdecznością wyszedł ma powitanie Bolesław, którego imię tłumaczy się „większa sława” nie za zasługi, lecz w myśl dawnego zwyczaju [...]. W jaki zaś sposób był cesarz przez niego wówczas podejmowany i przez jego kraj aż do Gniezna wiedziony, rzecz to nie do uwierzenia i wprost nie da się opowiedzieć. Widząc z daleka miasto upragnione szedł doń pobożnie bosymi stopami, a przyjęty z czcią niezwykłą przez biskupa tamecznego Ungera, wprowadzony został do kościoła, błagając zlanymi łzami wstawiennictwa świętego męczennika dla pozyskania sobie łaski Chrystusowej. I niezwłocznie ustanowił tam arcybiskupstwo[...].*

*Dokonawszy tego dzieła uczczony został cesarz przez pomienionego księcia ogromnymi darami i trzystu żołnierzami pancernymi [...].*

*[...] Oby Bóg przebaczył cesarzowi [Ottonowi III], że czynszownika [Bolesława Chrobrego] czyniąc udziałnym panem do tego stopnia go wywyższył [...].*

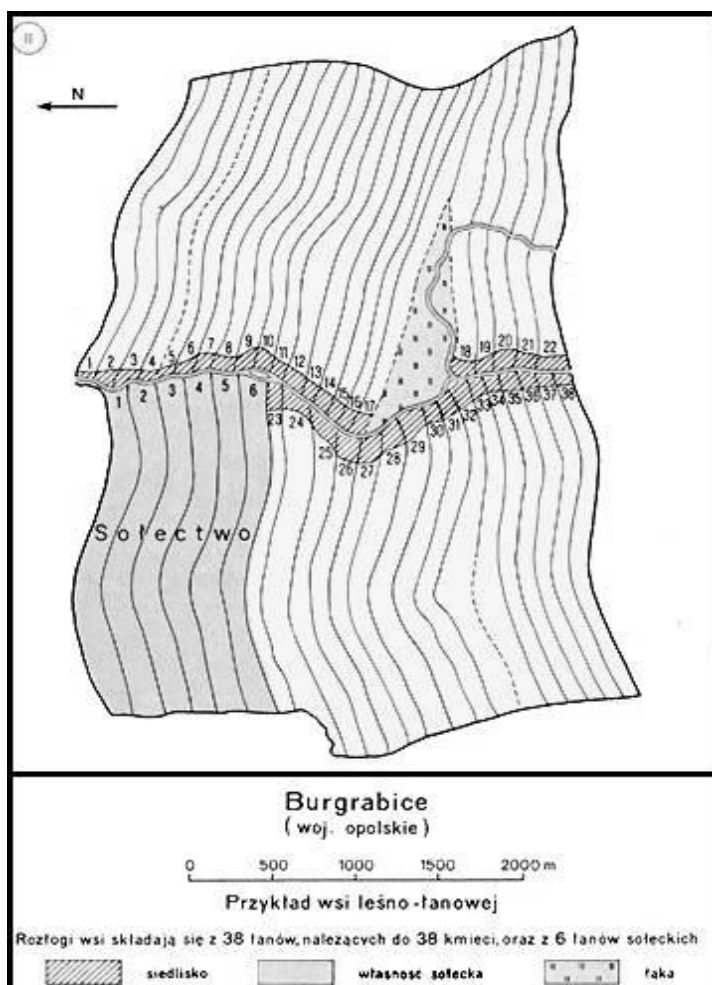
Źródło: <http://www.law.uj.edu.pl/~khpp/fontesu/1000thiet.htm>

**ZADANIE XIV (0 – 4 p.)** Połącz odpowiednio urzędników z zakresem ich obowiązków wpisując do tabeli w KARCIE ODPOWIEDZI przy literach odpowiednie cyfry:

<b>A. stolnik</b>	<b>1.</b> nosił miecz przed władcą podczas uroczystości.
<b>B. koniuszy</b>	<b>2.</b> zarządzał piwnicami z trunkami.
<b>C. cześnik</b>	<b>3.</b> dbał o zaopatrzenie w żywność.
<b>D. miecznik</b>	<b>4.</b> prowadził korespondencję władcy.
	<b>5.</b> zajmował się książeńką stajnią i końmi.



**ZADANIE XV (0 – 5 p.)** Poniższy schemat przedstawia plan wsi średniowiecznej. Korzystając z informacji ze schematu i własnej wiedzy odpowiedz na pytania umieszczone obok schematu. Odpowiedzi zapisz w KARCIE ODPOWIEDZI.



1. W którym wieku na ziemiach polskich rozpoczął się proces lokacji wsi?
2. Ilu kmieciów zamieszkiwało tę wieś?
3. Dlaczego ziemie należące do sołtysa zajmowały największy obszar?
4. Kto mógł korzystać z łąki?
5. Czym była wolnizna?

Źródło: <http://piastowie.kei.pl/piast/mapy/14.jpg>

**ZADANIE XVI (0 – 8 p.)** Uzupełnij tekst dotyczący sejmu walnego w Polsce. Przy odpowiednich cyfrach w KARCIE ODPOWIEDZI wpisz brakujące informacje.

Pierwsze obrady sejmu walnego odbyły się w roku (1) ..... za panowania króla (2) ..... Sejm składał się z trzech stanów sejmujących: króla, (3) ....., izby poselskiej. Obrady sejmu miały odbywać się raz na (4) ..... lata i trwać co najwyżej (5) ..... tygodni. W sytuacjach szczególnych król mógł zwołać sejm nadzwyczajny czyli (6) ..... Pierwszy sejm elekcyjny odbył się w roku (7) ..... Pierwszym królem elekcyjnym został (8) .....

**ZADANIE XVII (0 – 7 p.)** W KARCIE ODPOWIEDZI rozwiąż krzyżówkę dotyczącą stosunków polsko – krzyżackich.

1. Jedna z ziem, którą włączono do Polski po podpisaniu pokoju w 1466 roku.
2. Jedna z ziem, które Krzyżacy mieli zwrócić Polsce na mocy wyroku sądu papieskiego z 1339 roku.
3. Miasto, w którym podpisano pokój polsko – krzyżacki w 1343 roku.
4. Miasto, którego flota wraz z flotą Gdańską pokonały flotę krzyżacką w 1463 roku.
5. Bitwa stoczona w 1331 roku, zakończona zwycięstwem Polaków.
6. Miasto, w którym dwukrotnie podpisywano pokój polsko – krzyżacki.
7. Miasto, w którym Albrecht Hohenzollern złożył hołd lenny Zygmuntowi I staremu.

**ZADANIE XVIII (0 – 6 p.)** Poniżej znajdują się trzy zabytki architektury polskiej. W KARCIE ODPOWIEDZI wpisz styl, w którym został wybudowany oraz imię i przydomek (nazwisko) króla, za panowania którego powstał.

**A**



Źródło: [http://193.187.64.80/image.php/15272/palac\\_w\\_wilanowie.jpg](http://193.187.64.80/image.php/15272/palac_w_wilanowie.jpg)

**B**



Źródło:  
<http://i985.photobucket.com/albums/ae339/filoss2010/2011a/cscf9974.jpg>

**C**



Źródło: [http://www.wsp.krakow.pl/geo/gif/krak\\_1.jpg](http://www.wsp.krakow.pl/geo/gif/krak_1.jpg)

**ZADANIE XIX (0 – 6 p.)** Poniżej umieszczono wydarzenia z wojen Rzeczypospolitej Obojga Narodów w XVII wieku. Przy odpowiednich cyfrach w KARCIE ODPOWIEDZI wpisz imię i przydomek władcy, za panowania którego miało ono miejsce.

1. Rozejm w Dywilinie;
2. Rozejm w Sztumskiej Wsi;
3. Rozejm w Andruszowie;
4. Traktat w Buczaczu;
5. Rozejm w Żurawnie;
6. Pokój w Karłowicach.

**ZADANIE XX (0 – 5 p.)** Poniżej umieszczono pięć zdań dotyczących reform Sejmu Wielkiego. Oceń ich prawdziwość. Przy odpowiednich cyfrach w KARCIE ODPOWIEDZI wpisz słowo „prawda” lub słowo „fałsz”.

**REFORMY SEJMU:**

1. Zwiększenie armii do 100 tysięcy żołnierzy.
2. Wprowadzenie podatku w wysokości 20% z dóbr prywatnych i 10 % z dóbr kościelnych.
3. Utworzenie Rady Nieustającej.
4. Prawo o miastach zostało włączone do Konstytucji.
5. Konstytucja 3 maja ustanowiła dziedziczość tronu polskiego.

**ZADANIE XXI (0 – 5 p.)** Poniżej umieszczono dwie mapki Rzeczypospolitej w XVIII wieku. Korzystając z informacji z map i własnej wiedzy uzupełnij zdania znajdujące się pod mapkami. Odpowiedzi zapisz w KARCIE ODPOWIEDZI.

A	B
<p>Źródło: <a href="https://pl.wikipedia.org/wiki/XX_rozbi%C3%B3r_Polski#/media/File:Second_Partition_of_Poland_XXX.PNG">https://pl.wikipedia.org/wiki/XX_rozbi%C3%B3r_Polski#/media/File:Second_Partition_of_Poland_XXX.PNG</a></p>	<p>Źródło: <a href="https://pl.wikipedia.org/wiki/XX_rozbi%C3%B3r_Polski#/media/File:First_Partition_of_Poland1XXX.png">https://pl.wikipedia.org/wiki/XX_rozbi%C3%B3r_Polski#/media/File:First_Partition_of_Poland1XXX.png</a></p>

1. Mapa A przedstawia postanowienia ..... rozbioru Polski.
2. Bezpośrednią przyczyną tego rozbioru była konfederacja .....
3. Mapa B przedstawia postanowienia ..... rozbioru Polski.
4. Bezpośrednią przyczyną tego rozbioru była konfederacja .....
5. Największy obszar państwa polskiego w czasie rozbiorów znalazł się w granicach .....

**ZADANIE XXII (0 – 8 p.)** Poniżej umieszczono przyczyny i skutki dwóch powstań narodowowyzwoleńczych w XIX wieku – listopadowego i styczniowego. Do tabeli w KARCIE ODPOWIEDZI wpisz odpowiednio informacje z ramki.

<p>*utworzenie Kraju Przywiślańskiego * wykrycie sprzysiężenia Wysockiego *</p> <p>*ogłoszenie Statutu Organicznego * przeprowadzenie poboru do wojska młodzieży miejskiej *</p> <p>*rozpoczęcie wzmożonej rusyfikacji * krwawe tłumienie manifestacji patriotycznych Polaków *</p> <p>*zlikwidowanie polskiego wojska i sejmu * plan użycia polskiej armii do tłumienia rewolucji w Belgii *</p>
---

**Wojewódzki Konkurs Przedmiotowy z Historii dla uczniów gimnazjów  
województwa kujawsko-pomorskiego - etap rejonowy**

**KARTA ODPOWIEDZI UCZNIĄ**

**KOD UCZNIĄ** .....

**UZYSKANE PUNKTY** .....

---

**ZADANIE I (0 – 2 p.)**

1. ....

2. ....

**ZADANIE II (0 – 6 p.)**

1. ....

2. ....

3. ....

4. ....

5. ....

6. ....

**ZADANIE III (0 – 3 p.)**

1	2	3

**ZADANIE IV (0 – 5 p.)**

1. ....

2. ....

3. ....

4. ....

5. ....

**ZADANIE V (0 – 8 p.)**

1. ....

2. ....

3. ....

4. ....

5. ....

6. ....

7. ....

8. ....

**ZADANIE VI (0 – 5 p.)**

1. ....
2. ....
3. A. ....  
B. ....  
C. ....

**ZADANIE VII (0 – 5 p.)**

1. ....
2. ....
3. ....
4. ....
5. ....

**ZADANIE VIII (0 – 3 p.)**

- A. ....
- B. ....
- C. ....

**ZADANIE IX (0 – 3 p.)**

MIEJSCE	PODRÓŻNIK	WIEK
FILIPINY		
SAN SALVADOR		
KALIKAT		

**ZADANIE X (0 – 4 p.)**

Władca na ilustracji .....

1. A. ....  
B. ....
2. ....

**ZADANIE XI (0 – 6 p.)**

1. ....
2. ....
3. ....
4. ....

**ZADANIE XII (0 – 10 p.)**

<b>PYTANIE</b>	<b>1</b>	<b>2</b>	<b>3</b>	<b>4</b>	<b>5</b>	<b>6</b>	<b>7</b>	<b>8</b>	<b>9</b>	<b>10</b>
<b>ODPOWIEDŹ</b>										

**ZADANIE XIII (0 – 6 p.)**

	<b>GALL ANONIM</b>	<b>THIETMAR</b>
W jakim celu cesarz Otton III przybył do Polski?		
Jakie korzyści dla Polski przyniosła wizyta Ottona III?		
Jaki jest stosunek kronikarza do Bolesława Chrobrego?		

**ZADANIE XIV (0 – 4 p.)**

<b>A</b>	<b>B</b>	<b>C</b>	<b>D</b>

**ZADANIE XV (0 – 5 p.)**

1. ....
2. ....
3. ....
4. ....
5. ....

**ZADANIE XVI (0 – 8 p.)**

1. ....
2. ....
3. ....
4. ....
5. ....
6. ....
7. ....
8. ....

**ZADANIE XVII (0 – 7 p.)**

						1
						2
3						
4						
5						
6						
						7

**ZADANIE XVIII (0 – 6 p.)**

BUDOWLA	STYL ARCHITEKTONICZNY	KRÓL
A		
B		
C		

**ZADANIE XIX (0 – 6 p.)**

1. ....
2. ....
3. ....
4. ....
5. ....
6. ....

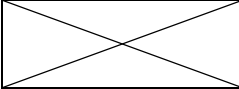
**ZADANIE XX (0 – 5 p.)**

1. ....
2. ....
3. ....
4. ....
5. ....

**ZADANIE XXI (0 – 5 p.)**

1. ....
2. ....
3. ....
4. ....
5. ....

**ZADANIE XXII (0 – 8 p.)**

	<b>POWSTANIE LISTOPADOWE</b>	<b>POWSTANIE STYCZNIOWE</b>
<b>PRZYCZYNY</b>		
<b>SKUTKI</b>		



***BRUDNOPIS***