

**Wojewódzki Konkurs Przedmiotowy
z geografii dla uczniów gimnazjum
województwa kujawsko-pomorskiego**

Etap Rejonowy – data: 12.12.2015r.

Kod ucznia: _____

Wynik: _____/100 pkt.


Instrukcja dla ucznia

Zanim przystąpisz do rozwiązywania testu, przeczytaj uważnie poniższą instrukcję.

1. Wpisz w wyznaczonym miejscu powyżej swój kod ustalony przez Komisję Konkursową. Nie wpisuj swojego imienia i nazwiska.
2. Przed rozpoczęciem pracy sprawdź, czy twój arkusz testowy jest kompletny. Niniejszy arkusz testowy składa się z 12 stron i zawiera 23 zadania. Jeśli zauważysz jakiegokolwiek braki lub błędy w druku, zgłoś je natychmiast Komisji Konkursowej.
3. Przeczytaj uważnie i ze zrozumieniem polecenia i wskazówki do każdego zadania.
4. Odpowiedzi zapisuj długopisem z czarnym lub niebieskim tuszem.
5. Dbaj o czytelność pisma i precyzję odpowiedzi. W zadaniach wielokrotnego wyboru poprawne odpowiedzi zaznaczaj zgodnie z poleceniem.
6. Nie używaj korektora. Jeżeli pomylisz się, błędną odpowiedź otocz kółkiem i ponownie udziel poprawnej odpowiedzi. Oceniane będą tylko odpowiedzi, które zostały zaznaczone lub wpisane zgodnie z poleceniem i umieszczone w miejscu do tego przeznaczonym.
7. Przy każdym zadaniu podano maksymalną liczbę punktów, którą można uzyskać.
8. Na ostatniej stronie testu znajdziesz miejsce na brudnopis. **Brudnopis nie podlega ocenie.**
9. Pracuj samodzielnie.
10. Nie wolno wносить telefonów komórkowych na konkurs.
11. Całkowity czas na wykonanie testu pisemnego wynosi **90 minut.**

Zadanie 1.

[0 – 5 p.]




Uzupełnij tabelę wpisując w odpowiednie miejsce nazwę państwa, stolicę, przynależność do UE, walutę.

Lp.	Państwo	Przynależność do UE [tak/nie]	Stolica	Waluta
1.			Sztokholm	
2.	Dania			
3.			Helsinki	
4.	Niemcy			
5.	Ukraina			

Zadanie 2.

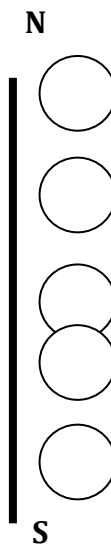
[0 – 1 p.]



Ułóż podane miasta w Polsce w odpowiedniej kolejności położenia z północy na południe wpisując w koła odpowiedni numer.


Miasta:

1. Bielsko-Biała,
2. Częstochowa,
3. Malbork,
4. Tychy,
5. Włocławek



Zadanie 3.

[0 – 2 p.]




Co łączy (jaka wspólna cecha) wymienione obiekty geograficzne? Zaznacz prawidłowe odpowiedzi.

A. Wieprz, Wysoczyzna Białostocka, J. Sajno, Szeszupa

- a. Położenie w woj. podlaskim
- b. Położenie w woj. lubelskim
- c. Przecina je południk 23° E


B. Słubice, Bukowiec, Bóbr, Pojezierze Łagowskie

- a. Położenie w woj. dolnośląskim
- b. Położenie w woj. lubuskim
- c. Przecina je równoleżnik 52° N



Zadanie 4.

[0 - 6 p.]



Do wymienionych krain geograficznych dopisz województwo (spośród podanych), na terenie którego jest położona.


Województwa:

kujawsko-pomorskie, lubelskie, mazowieckie, podlaskie, warmińsko-mazurskie, zachodniopomorskie

Kraina	Województwo
Pojezierze Drawskie	
Równina Augustowska	
Pojezierze Mrągowskie	
Wysoczyzna Płońska	
Równina Inowrocławska	
Kotlina Hrubieszowska	

Zadanie 5.

[0 - 3 p.]



Wykreśl nieprawidłowe stwierdzenia, tak aby powstały prawdziwe zdania.


Polska liczy obecnie (2014r.) ok. **a. 28 b. 38 c. 48 d. 58** mln mieszkańców,

z tego w miastach żyje ok. **a. 40% b. 50% c. 60% d. 70%** populacji.

W latach 1990-2015 liczba ludności Polski **a. wzrosła b. spadła.**

Zadanie 6.

[0 - 4 p.]





Spośród wymienionych miast utwórz pary miast, które położone są na tym samym południku. Nie wszystkie podane miasta będą tworzyły pary.

Miasta:

Łódź, Bydgoszcz, Włocławek, Katowice, Warszawa, Tarnów, Wrocław, Opole, Poznań

Południk	17°E	18°E	19°E	21°E
Para miast				





Zadanie 7.

[0 - 2 p.]

Liczba mieszkańców Włocławka w roku 2014 wynosiła ok. 114 tys.
Powierzchnia miasta ok. 85 km²

A – Podaj nazwę wskaźnika demograficznego, który można obliczyć na podstawie podanych wartości?


.....

B – Oblicz wartość tego wskaźnika.

.....

Zadanie 8.

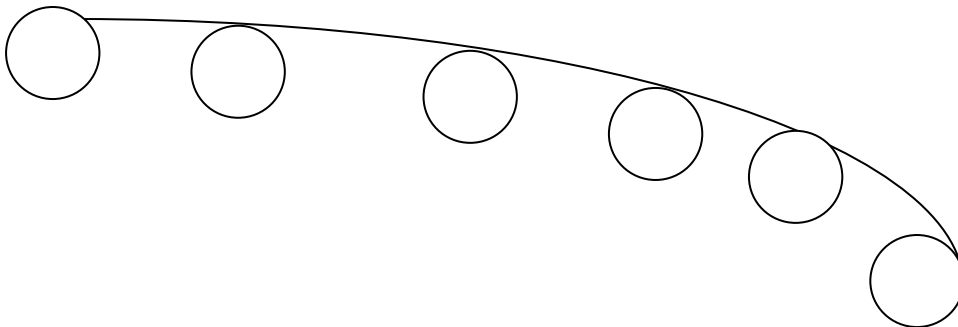
[0 - 2 p.]



Uszereguj następujące miasta biorąc pod uwagę długość dnia 22 czerwca (od najdłuższego do najkrótszego). Wpisz numery miast w odpowiednie miejsca.


Miasta:

1. Narwik
2. Kopenhaga
3. Rovaniemi
4. Reykiawik
5. Göteborg
6. Bergen



Zadanie 9.


[0 - 1 p.]



Islandia w dużym stopniu wykorzystuje tanią energię geotermalną do ogrzewania mieszkań.


Jakie cechy środowiska przyrodniczego wyspy wpływają na znaczący udział tej energii w życiu mieszkańców?

.....
.....
.....



Zadanie 10.

[0 - 10 p.]




Znakiem **X** zaznacz czy podane zdanie jest prawdziwe czy fałszywe.

Lp.	Stwierdzenie	P	F
1.	W latach 50.XX wieku podstawowym powodem migracji ludności Polski z terenów wiejskich do miast był intensywny proces uprzemysłowienia.		
2.	Główną przyczyną emigracji zagranicznych z Polski w ostatnich latach jest poszukiwanie pracy.		
3.	Średnia przewidywana długość życia kobiet w Polsce jest krótsza niż mężczyzn.		
4.	Od 1988 roku obserwuje się w Polsce systematyczne zmniejszanie się udziału ludności w wieku: 0-14 lat w strukturze ludności kraju.		
5.	Współczynnik feminizacji w miastach Polski jest wyższy niż na terenach wiejskich.		
6.	Na tle krajów UE Polska charakteryzuje się wysokim odsetkiem zatrudnionych w rolnictwie i przemyśle oraz stosunkowo niskim w usługach.		
7.	Średnia wieku całej populacji Polski w 2014 roku wynosi ok. 40 lat.		
8.	Liczba ludności Polski w latach 1946-2014 wzrosła o ok. 60%		
9.	W latach 2002-2005 oraz 2013 obserwowano w Polsce ujemny przyrost naturalny.		
10.	Ludność Polski stanowi ponad 10% ludności Europy.		


Zadanie 11.

[0 - 3 p.]




Wymień trzy (3) przyczyny współczesnego bezrobocia w Polsce.

1.
2.
3.



Zadanie 12.

[0 - 2 p.]




Do podanych firm przyporządkuj państwo, z którego ona pochodzi.
(Dania, Finlandia, Wielka Brytania, Szwecja, Norwegia, Islandia, Belgia)

NOKIA	ERICSSON	ELECTROLUX	STATOIL	DR MARTENS	DANFOSS

Zadanie 13.

[0 - 6 p.]




Zaznacz prawidłowe odpowiedzi.

Które miejsce na świecie zajmuje Polska (2013r.) pod względem:

<i>Lp.</i>	<i>Parametr</i>	<i>A</i>	<i>B</i>	<i>C</i>
1.	Powierzchni	49	69	89
2.	Liczby ludności	23	33	43
3.	Zbiorów żyta	2	6	12
4.	Wydobycia węgla kamiennego	1	10	20
5.	Produkcji miedzi rafinowanej	9	19	29
6.	Produktu Krajowego Brutto	24	44	64


Zadanie 14.

[0 - 6 p.]




Wstaw odpowiedni znak: >, <, =
Porównaj Polskę z innymi państwami Europy.

<i>Lp.</i>	<i>Parametr</i>	<i>Polska</i>	<i>znak</i>	<i>Państwo</i>
1.	<i>Liczba ludności</i>	Polska		Szwecja
2.	<i>Powierzchnia</i>	Polska		Finlandia
3.	<i>Ludność stolicy</i>	Polska		Norwegia
4.	<i>Wysokość najwyższego szczytu</i>	Polska		Czechy
5.	<i>Przyrost naturalny w ‰</i>	Polska		Norwegia
6.	<i>Odsetek pracujących w rolnictwie</i>	Polska		Niemcy



Zadanie 15.

[0 - 6 p.]




Podaj nazwy izolinii, którymi przedstawia się następujące zjawiska przyrodnicze oraz przyporządkuj im odpowiednie jednostki, w których są wyrażane (spośród podanych).

Jednostki: °C, m n.p.m., ‰, m, hPa, mm

Zjawisko	Izolinia	Jednostka
Opady atmosferyczne		
Ciśnienie atmosferyczne		
Głębokość dna		
Zasolenie wody		
Temperatura powietrza		
Wysokość bezwzględna terenu		

Zadanie 16.

[0 - 4 p.]

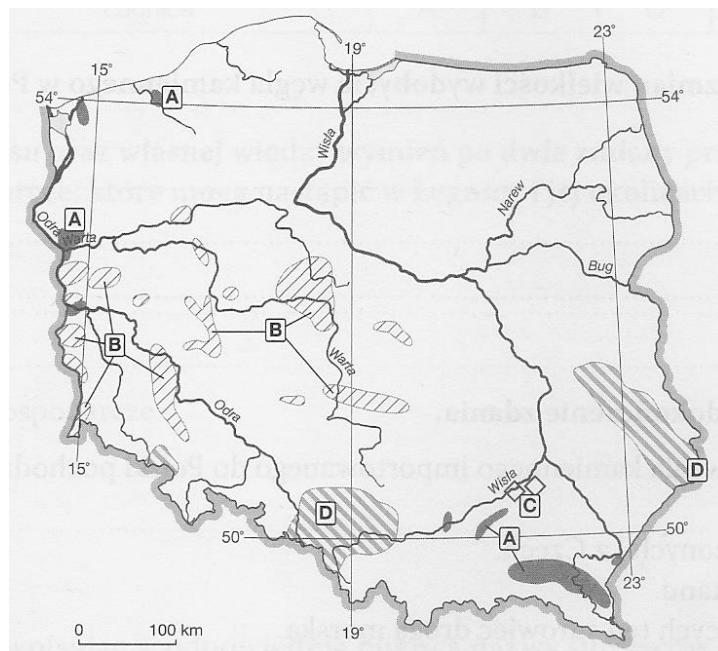


Na mapie literami A, B, C, D zaznaczono obszary występowania czterech surowców mineralnych.


Literze przyporządkuj odpowiedni surowiec:

ropa naftowa, węgiel brunatny, węgiel kamienny, siarka

- A.
- B.
- C.
- D.




Źródło: Oblicza geografii 3., 2014, Nowa Era.

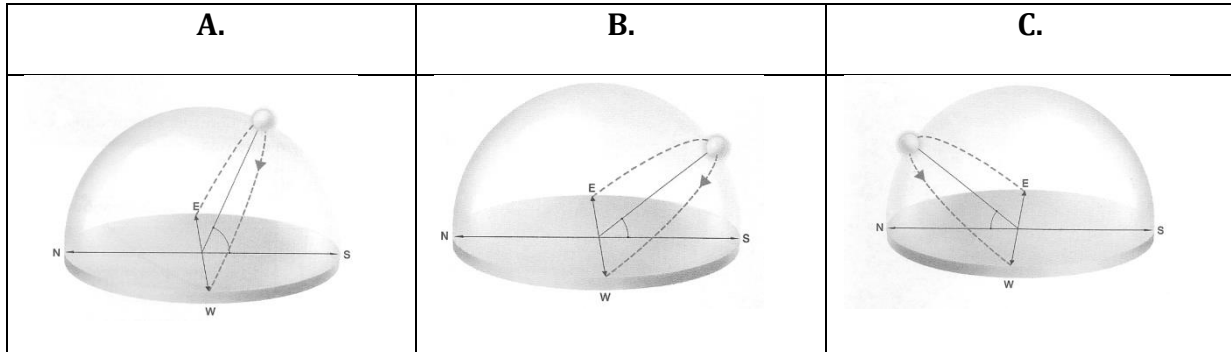


Zadanie 17.

[0 – 1 p.]




Na którym schemacie (otocz kółkiem wybraną literę - prawidłową odpowiedź) obserwator widzący Słońce podczas jego górowania jest na półkuli południowej?



Źródło: Oblicza geografii 3., 2014, Nowa Era.

Zadanie 18.

[0 – 7 p.]




Do podanych wysp dopisz **państwo/ państwa, którego/ których** dana wyspa (archipelag wysp) jest częścią.

Lp.	Wyspa	Państwo/ Państwa
1.	<i>Svalbard</i>	
2.	<i>Lofoty</i>	
3.	<i>Zelandia</i>	
4.	<i>Uznam</i>	
5.	<i>Fionia</i>	
6.	<i>Sarema</i>	
7.	<i>Gotlandia</i>	

Zadanie 19.

[0 – 2 p.]



Siedziba światowej korporacji mieści się w **Seulu** φ 37° 35' N, λ 127°E, a jej filia w **Toruniu** φ 51° 1'N , λ 18° 37'E.

12 grudnia 2015 r. w Seulu zorganizowano wideokonferencję, której początek zaplanowano na godzinę **16.00** czasu lokalnego Seulu.


O której godzinie rozpocznie się to spotkanie w Toruniu? Zapisz obliczenia!

Należy pamiętać, iż czas w Seulu to UTC/GMT +9 godz.

Obliczenia:


.....

Odpowiedź:



Zadanie 20.

[0 - 2 p.]



Na mapie w skali 1:200 000 dokonano pomiaru powierzchni Gotlandii i uzyskano wynik 740 cm².

Oblicz rzeczywistą powierzchnię wyspy. Zapisz obliczenia!


Obliczenia:

.....

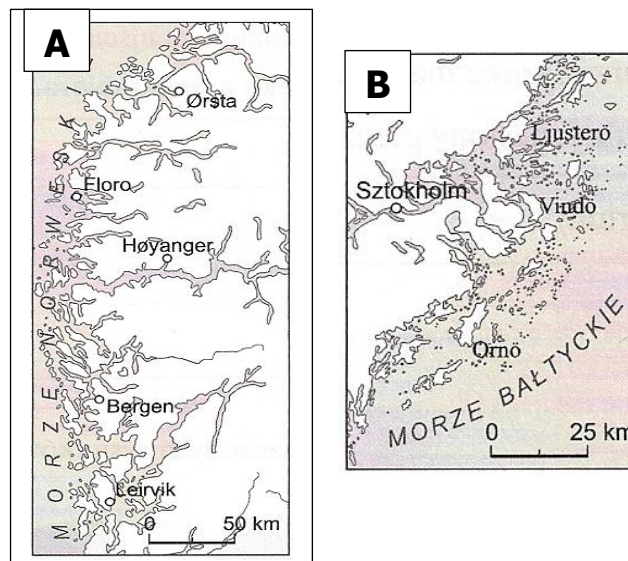
Odpowiedź:

Zadanie 21.

[0 - 4 p.]




Poniższe mapy przedstawiają fragmenty wybrzeży Europy. Uzupełnij tabelę wpisując nazwy typów, obszar występowania oraz jedno podobieństwo i jedną różnicę dotyczącą ich genezy.




Źródło: Borzyńska M., Smorenda M., Szewczyk I.: Blżej geografii. Zeszyt ćwiczeń, część 1., WS i P Warszawa 2009

	Typ wybrzeża	Obszar występowania	Podobieństwo	Różnica
A				
B				

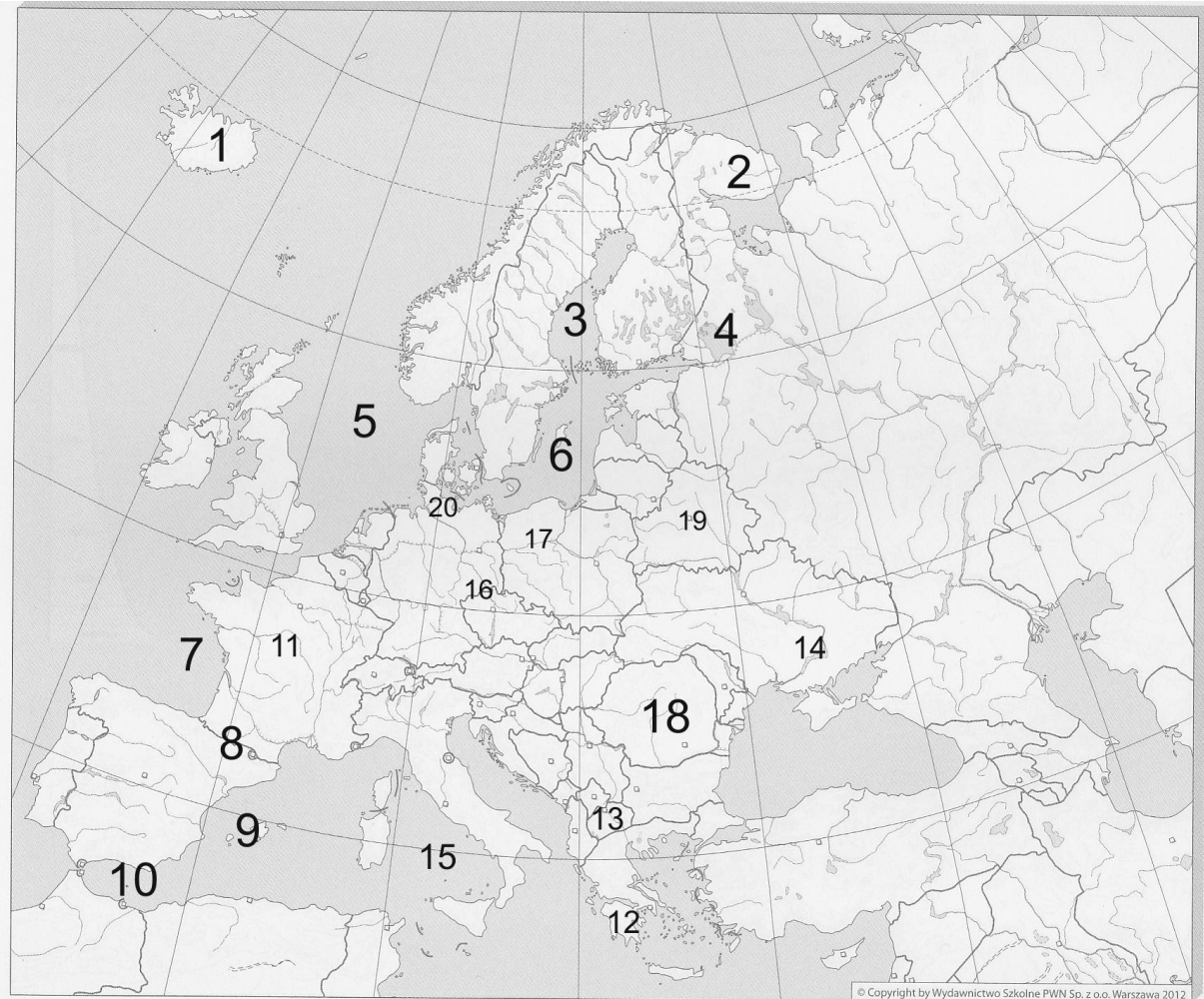


Zadanie 22.

[0 - 10 p.]



Rozpoznaj obiekty geograficzne i wpisz do tabeli ich nazwy.




1. Wyspa	2. Półwysep	3. Zatoka	4. Jezioro	5. Morze

6. Wyspa	7. Zatoka	8. Góry	9. Archipelag	10. Morze


11. Rzeka	12. Półwysep	13. Państwo	14. Rzeka	15. Morze

16. Góry	17. Rzeka	18. Państwo	19. Miasto	20. Kanał

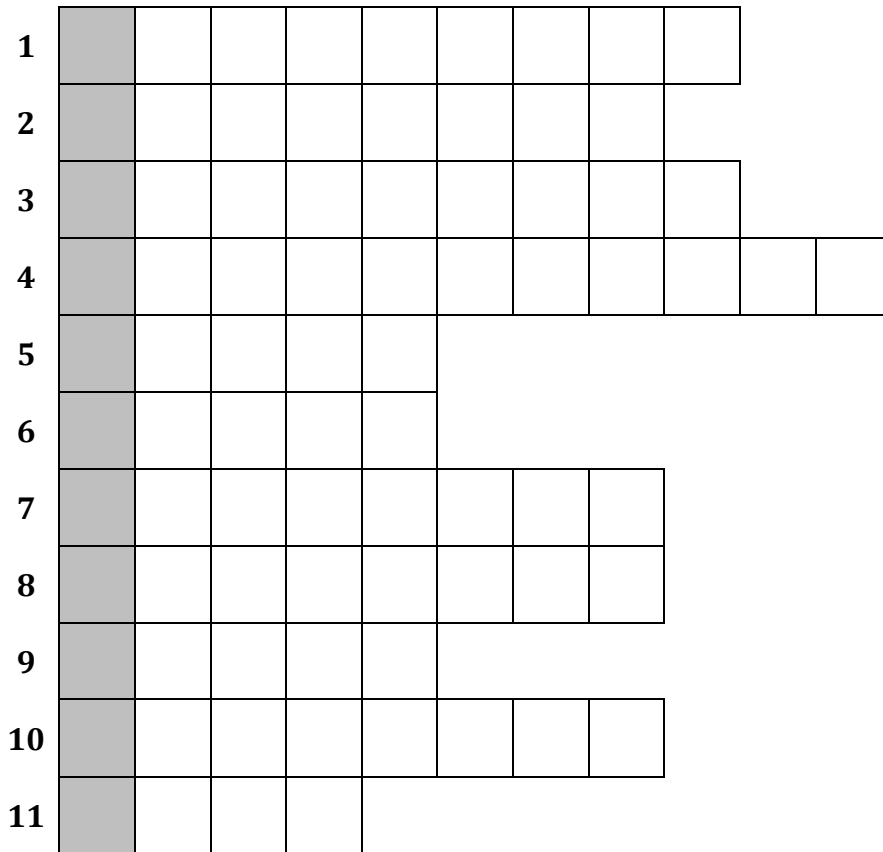


Zadanie 23.

[0 - 11 p.]




Rozwiąż krzyżówkę.



HASŁO:

1. Stolica najludniejszego państwa nordyckiego.
2. Cieśnina nad którą położony jest Goeteborg.
3. Archipelag wysp fińskich z dominującym językiem szwedzkim.
4. Narodowy sport w państwach skandynawskich.
5. Ojczyzna klocków LEGO.
6. Miasto portowe w Szwecji, które ma połączenie promowe ze Świnoujściem.
7. Inaczej Przylądek Północny.
8. Duński autor baśni.
9. Największe pod względem powierzchni jezioro Półwyspu Skandynawskiego.
10. Państwo nordyckie, którego 12% powierzchni zajmują pokrywy lodowe, z liczącą 10 tys. osób Polonią.
11. Najbardziej znany szwedzki zespół grający muzykę pop, który sprzedał ponad 300 mln płyt.



BRUDNOPIS

