

**KONKURS HISTORYCZNY**  
**dla uczniów gimnazjów – etap szkolny**  
**rok szkolny 2014/2015**

Drogi Olimpijczyku!

Uczestniczysz w etapie szkolnym Konkursu Historycznego.

Do rozwiązania masz test składający się z 18 zadań. Możesz uzyskać maksymalnie 100 punktów. Wszystkie odpowiedzi zapisuj odpowiednio w KARCIE ODPOWIEDZI.

Życzymy Ci powodzenia!


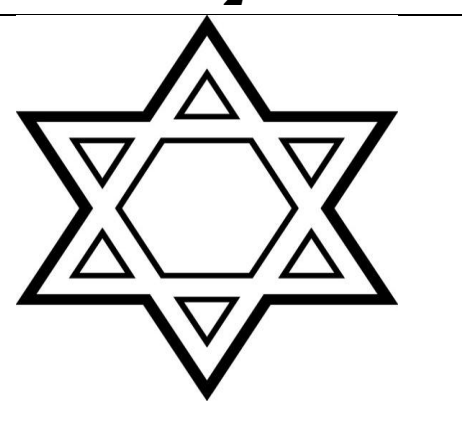

**HISTORIA Powszechna**

**ZADANIE I (0 – 2 p.)** Przeczytaj informacje dotyczące trybu życia ludzi pierwotnych i nazwij je odpowiednio. Do KARTY ODPOWIEDZI wpisz właściwe określenia.

1. Tryb życia, który polegał na ciągłej zmianie miejsca zamieszkania. Ludzie szukali miejsc, w których nie brakowało pożywienia oraz innych zasobów naturalnych. Zbierali owoce, jaja, miód, małe, łowili ryby i polowali na zwierzęta.
2. Tryb życia, który polegał na osiedlaniu się w jednym miejscu i budowaniu trwałych osad. Ludzie udomowili niektóre zwierzęta i zaczęli uprawiać ziemię, co zapoczątkowało rozwój hodowli i rolnictwa.

**ZADANIE II (0 – 5 p.)** Poniżej znajdują się symbole trzech religii monoteistycznych. Do KARTY ODPOWIEDZI wpisz nazwy tych religii i uzupełnij zdania znajdujące się pod ilustracjami.

*(UWAGA – ilustracje pochodzą z zasobów Internetu, ale autor testu nie mógł podać adresów internetowych, ponieważ zawierały one odpowiedzi do zadania)*

1	2	3
		

Monoteizm to .....

Przeciwieństwem monoteizmu jest .....

**ZADANIE III (0 – 5 p.)** Rozpoznaj państwa starożytne, z których istnieniem związane są poniższe utwory. Do KARTY ODPOWIEDZI wpisz odpowiednio nazwy państw, w których powstały.

1. „Księga Umarłych”;
2. „Kodeks Hammurabiego”;
3. „Tora”;
4. „Eneida”;
5. „Wojna peloponeska”.

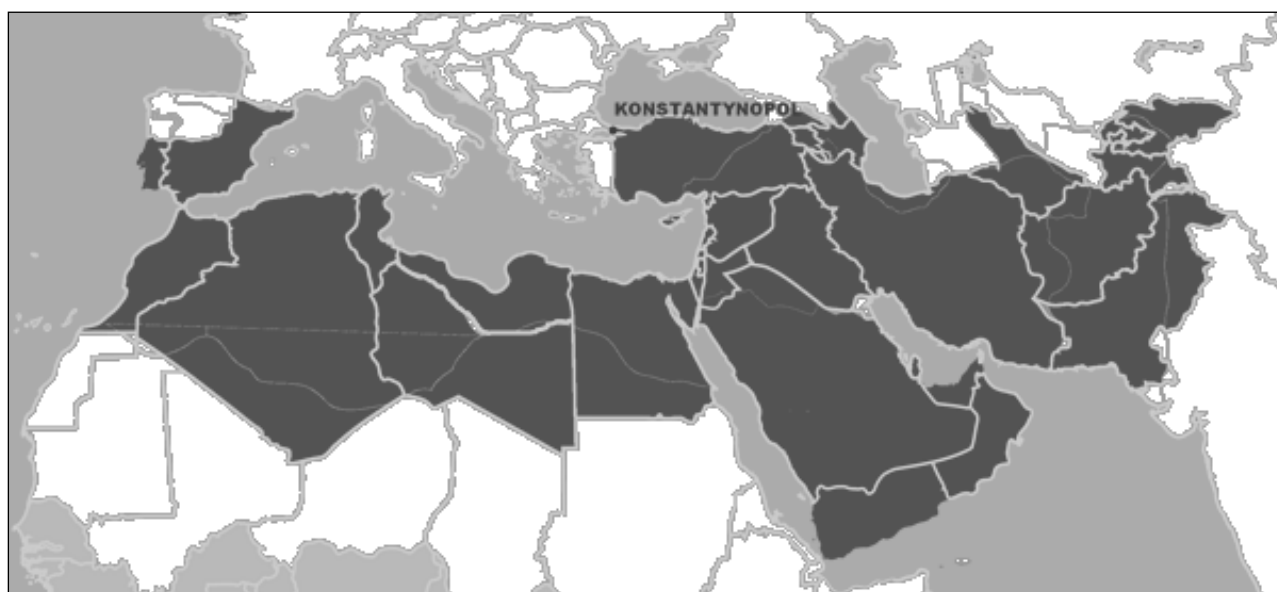
**ZADANIE IV (0 – 8 p.)** Rozwiąż krzyżówkę znajdującą się w KARCIE ODPOWIEDZI.

1. Plac w kształcie długiego prostokąta zaokrąglonego z jednej strony przeznaczony do wyścigów konnych.
2. Inaczej „umiłowanie mądrości”, dziedzina nauki, która powstała w starożytnej Grecji.
3. Świątynie schodkowe budowane na terenie Mezopotamii.
4. Obrazy wykonane z drobnych kamyków, kawałków szkła lub ceramiki.
5. Łaźnie rzymskie.
6. Pismo obrazkowe stosowane w starożytnym Egipcie w świątyniach, grobowcach.
7. Wodociągi, którymi dostarczano wodę do miast w Imperium Rzymskim.
8. Rynek, główny plac w miastach starożytnej Grecji i Rzymu.

**ZADANIE V (0 – 3 p.)** Poniżej znajdują się mapy konturowe trzech imperiów z czasów starożytnych i czasów średniowiecza. Rozpoznań je i do KARTY ODPOWIEDZI wpisz ich nazwy.

*(UWAGA – mapy pochodzą z zasobów Internetu, ale autor testu nie mógł podać adresów internetowych, ponieważ zawierały one odpowiedzi do zadania)*

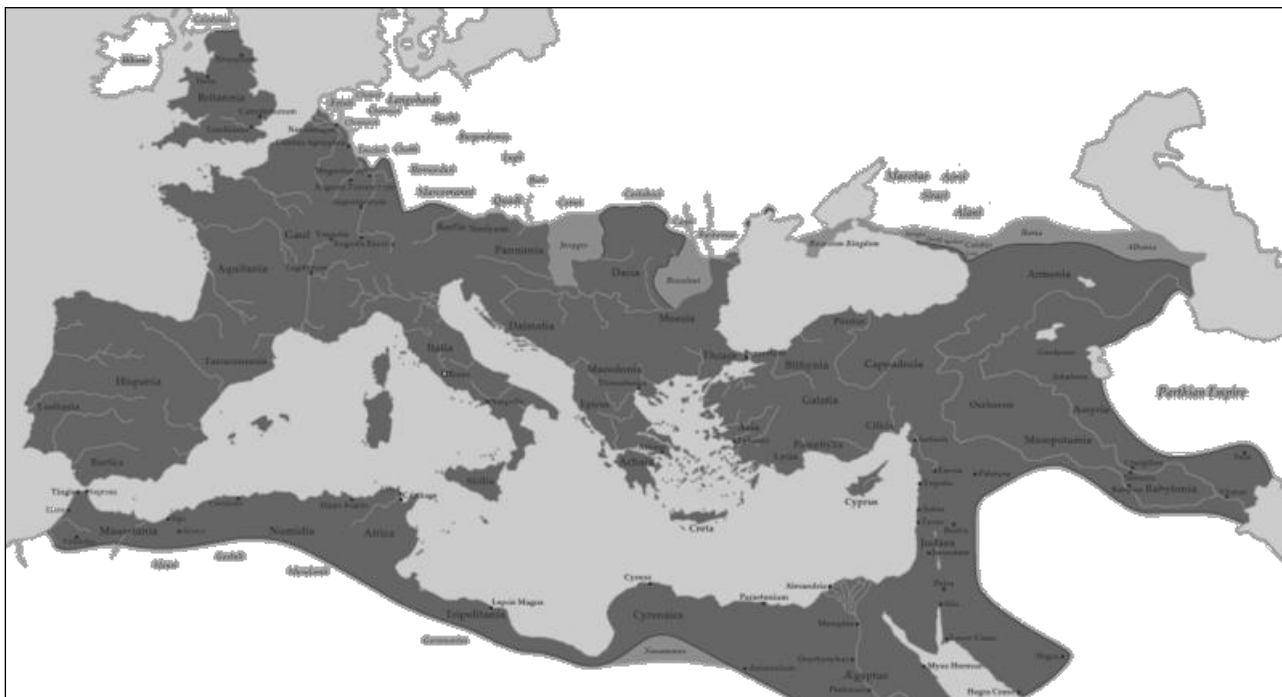
**A**




**B**



C



**ZADANIE VI (0 – 5 p.)** Na podstawie poniższego źródła (*Iluminacja z Ewangeliarza Ottona III – ok. 1000 roku*) i własnej wiedzy odpowiedz na pytania znajdujące się pod ilustracją.



ŹRÓDŁO: [http://pl.wikipedia.org/wiki/Uniwersalizm\\_cesarski](http://pl.wikipedia.org/wiki/Uniwersalizm_cesarski)

1. Na czym polegała idea uniwersalizmu cesarskiego, której zwolennikiem był cesarz Otton III?
2. Symbolem czego są kobiety umieszczone po lewej stronie?
3. Jaką pozycję wobec cesarza zajmują kobiety i co na to wskazuje?
4. Co wskazuje, że cesarz, jest osobą najważniejszą na iluminacji?
5. Dlaczego Otton III nie wprowadził w życie swojej idei?

**ZADANIE VII (0 – 3 p.)** Rozpoznaj typy monarchii, w KARCIE ODPOWIEDZI dopisz do cyfr odpowiednie litery.

1. monarchia absolutna	A. Władza monarchy jest ograniczona na rzecz stanów – szlacheckiego, duchownego, mieszczańskiego.
2. monarchia stanowa	B. Władza monarchy jest nieograniczona, lud oddaje mu boską cześć, gdyż jest przekonany o boskim pochodzeniu władcy.
3. monarchia konstytucyjna	C. Władza monarchy jest nieograniczona, rządzi sam, bez udziału i kontroli ze strony społeczeństwa.
	D. Władza monarchy, zwłaszcza ustawodawcza, jest ograniczona na rzecz organu przedstawicielskiego.

**ZADANIE VIII (0 – 5 p.)** Poniżej znajduje się 5 zdań dotyczących odkryć geograficznych XV – XVI wieku. Oceń ich prawdziwość i do KARTY ODPOWIEDZI wpisz odpowiednio słowo „prawda” lub „fałsz”.

1. Jednym ze skutków odkryć geograficznych był napływ niewolników do Europy.
2. Pierwszą podróż dookoła świata odbył Ferdynand Magellan.
3. Bartolomeu Dias odkrył Przylądek Dobrej Nadziei.
4. Na podbitych terenach Ameryki Europejczycy zakładali wielkie gospodarstwa zwane folwarkami.
5. Nazwa „Ameryka” pochodzi od imienia Amerigo Vespucci, który przybył na ten kontynent przed Kolumbem.

**ZADANIE IX (0 – 5 p.)** W tabeli poniżej umieszczono 15 wydarzeń, które można połączyć w 5 ciągów chronologicznych (od najwcześniejszego do najpóźniejszego) i tematycznych. Uzupełnij tabelę w KARCIE ODPOWIEDZI wpisując odpowiednio poszczególne wydarzenia.

\* chrzest Chlodwiga \* ekskomunika Henryka IV \* krucjata rycerska \* powstanie luteranizmu \*  
 \* chrzest Władysława Jagiełły \* krucjata dziecięca \* sobór w Trydencie \* konkordat w Wormacji \*  
 \* sobór w Konstancji \* powstanie chrześcijaństwa \* „Dyktat papieski” Grzegorza VII \*  
 \* chrzest Włodzimierza Wielkiego \* powstanie prawosławia \* krucjata ludowa \* sobór w Clermont \*

**ZADANIE X (0 – 5 p.)** Uzupełnij poniższą tabelę. Do KARTY ODPOWIEDZI wpisz przy odpowiednich cyfrach imię władcy, który panował w tym czasie.

PAŃSTWO	WŁADCA	WYDARZENIE
Królestwo Anglii	(1).....	rozbitcie Wielkiej Armady
Austria	(2).....	bitwa pod Wiedniem
Rosja	(3).....	bitwa pod Połtawą
Królestwo Pruskie	(4).....	I rozbiór Polski
Królestwo Francji	(5).....	uchwalenie pierwszej konstytucji

## HISTORIA POLSKI

**ZADANIE XI (0 – 8 p.)** Uzupełnij poniższy tekst dotyczący organizacji państwa pierwszych Piastów. Przy odpowiednich cyfrach w KARCIE ODPOWIEDZI wpisz brakujące informacje.

W X wieku ziemie polskie zamieszkiwało wiele plemion, które zjednoczyły się pod przewodnictwem najsilniejszego z nich – plemienia (1) ..... Polska była monarchią (2) ..... - władca był właścicielem państwa. Do jego obowiązków należało zapewnienie ludności bezpieczeństwa. Podstawą obronności państwa była (3) ....., w skład której wchodził pancerni i tarczownicy. Władca pobierał daniny od ludności i nakładał ciężary prawa książęcego. Należał do nich (4) ....., czyli obowiązek goszczenia monarchy i jego dworu w czasie objazdu po kraju. Do szczególnych uprawnień panującego należało m.in. bicie monety nazywane (5) ..... Na terytorium państwa budowano (6) ....., które pełniły funkcje obronne. Wokół nich powstawały (7) ....., w których odbywały się targi. Ważną rolę odgrywały (8) ....., których mieszkańcy wytwarzali określone produkty na potrzeby dworu.

**ZADANIE XII (0 – 5 p.)** Do podanych niżej władców dopasuj postacie z ramki, tak by powstały pary, które żyły w jednym czasie i mogły spotkać się (lub się spotkały). Do KARTY ODPOWIEDZI wpisz właściwe pary. (*UWAGA! W ramce umieszczono także imiona postaci, które nie pasują do władców!*)

1. Bolesław Chrobry,
2. Bolesław Śmiały,
3. Władysław Herman,
4. Bolesław Krzywousty,
5. Przemysław II.

\*biskup Jordan\* biskup Otto z Bambergu\* \*wojewoda (komes) Sieciech\*  
\*Ibrahim ibn Jakub\* biskup Wojciech\* biskup Stanisław\*  
\*arcybiskup Jakub Świnka\* margrabia Hodo\*

**ZADANIE XIII (0 – 10 p.)** Spośród podanych wydarzeń w każdej grupie podaj to, które miało miejsce najwcześniej i to, które miało miejsce najpóźniej. Wpisz odpowiednie cyfry do tabeli w KARCIE ODPOWIEDZI.

- A.**
1. Bitwa pod Cedynią.
  2. Pokój w Budziszynie.
  3. Ślub Mieszka I z Dobrawą.
  4. Zjazd gnieźnieński.
  5. Chrzest Mieszka I.
- B.**
1. Powstanie ludowe i najazd Brzetysława na Polskę.
  2. Śmierć biskupa Stanisława.
  3. Koronacja Bolesława Śmiałego na króla.
  4. Ucieczka Bolesława Śmiałego na Węgry.
  5. Interwencja Niemiec i Rusi w Polsce, ucieczka Mieszka II z kraju.
- C.**
1. Wyprawa Fryderyka Barbarossy na Polskę.
  2. Śmierć Leszka Białego w Gąsawie.
  3. Najazd mongolski na Polskę.

4. Wygnanie Władysława II z kraju przez młodszymi braci.
5. Mieszko III Stary księciem senioralnym.

- D.**
1. Bitwa pod Płowcami.
  2. Objęcie władzy przez Władysława Łokietka.
  3. Rządy Wacława II w Polsce.
  4. Koronacja Przemysła II na króla Polski.
  5. Koronacja Władysława Łokietka na króla Polski.

- E.**
1. Przyłączenie Rusi Czerwonej do Polski.
  2. Założenie uniwersytetu w Krakowie.
  3. Proces warszawski w sporze z Krzyżakami.
  4. Pokój w Kaliszu z Krzyżakami.
  5. Pierwszy zjazd wyszehradzki.

**ZADANIE XIV (0 – 5 p.)** Uzupełnij poniższe zdania wpisując przy odpowiednich cyfrach w KARCIE ODPOWIEDZI stopień pokrewieństwa poszczególnych władców z dynastii Jagiellonów.

Kazimierz Jagiellończyk był (1) ..... Władysława Jagiełły.  
 Jan Olbracht był (2) ..... Kazimierza Jagiellończyka.  
 Zygmunt I Stary był (3) ..... Aleksandra Jagiellończyka.  
 Zygmunt II August był (4) ..... Kazimierza Jagiellończyka.  
 Anna Jagiellonka była (5) ..... Zygmunta II Augusta.

**ZADANIE XV (0 – 5 p.)** Poniżej znajdują się informacje o królach elekcyjnych rządzących w Polsce od XVI do XVIII wieku. Przy odpowiednich cyfrach w KARCIE ODPOWIEDZI wpisz imię i przydomek (nazwisko) władcy, o którym mowa.

1. Zasiadał najkrócej na tronie Polski.
2. Ostatni król Polski.
3. Rządził Polską na przełomie XVI i XVII wieku.
4. Był dwukrotnie wybrany na króla Polski.
5. Abdykował po dwudziestu latach rządów.

**ZADANIE XVI (0 – 4 p.)** Połącz informacje o sejmach z ich nazwami. Do tabeli w KARCIE ODPOWIEDZI wpisz przy cyfrach odpowiednie litery.

1. sejm ordynaryjny	A. Sejm zwoływany przez interrexa w czasie bezkrólewia. Ustalał czas i miejsce przeprowadzenia sejmiku elekcyjnego.
2. sejm konwokacyjny	B. Zjazdy całej szlachty z terenu danej ziemi bądź województwa. Wywodziły się ze zjazdu urzędników ziemi, na który zaczęła przybywać szlachta.
3. sejmik ziemski	C. Sejm zwoływany dla wyboru króla. Obradował na Woli pod Warszawą, głosować mógł każdy szlachcic (elekcja viritim).
4. sejmik generalny	D. Sejm z udziałem króla, senatorów i izby poselskiej. Zwoływany przez króla co 2 lata na okres 6 tygodni.
	E. Zjazd senatorów i posłów oraz szlachty z danej prowincji, w czasie których uzgadniano wspólne stanowisko w sprawach, które miał rozpatrywać najbliższy sejm.

**ZADANIE XVII (0 – 10 p.)** Poniżej znajduje się 10 pytań dotyczących wojen w historii Polski. Do każdej z nich przygotowano po cztery odpowiedzi. Tylko jedna jest prawdziwa. Do tabeli w KARCIE ODPOWIEDZI wpisz odpowiednio litery oznaczające prawidłową odpowiedź.

1. Ostatnia wojna z krzyżakami miała miejsce za panowania:
  - A. Władysława Jagiełły,
  - B. Zygmunta Starego,
  - C. Kazimierza Jagiellończyka,
  - D. Zygmunta II Augusta.
2. Wojna o Inflanty pomiędzy Stefanem Batorym a Iwanem IV Groźnym zakończyła się podpisaniem rozejmu w:
  - A. Dywilinie,
  - B. Andruszowie,
  - C. Starym Targu,
  - D. Jamie Zapolskim.
3. Wojskami polskimi w bitwie pod Kircholmem dowodził hetman:
  - A. Jan Karol Chodkiewicz,
  - B. Stanisław Żółkiewski,
  - C. Stanisław Koniecpolski,
  - D. Jan Sobieski.
4. W czasie potopu szwedzkiego na ziemię polską oprócz wojsk szwedzkich wkroczyły wojska z:
  - A. Turcji,
  - B. Austrii,
  - C. Saksonii,
  - D. Siedmiogrodu.
5. Pokój Grzymułtowski zakończył okres wojen Polski z:
  - A. Turcją,
  - B. Szwecją,
  - C. Rosją,
  - D. Ukrainą.
6. Ugodę w Perejesławiu zawarli Kozacy z:
  - A. Rosją,
  - B. Polską,
  - C. Turcją,
  - D. Szwecją.
7. W czasie bitwy pod Cecorą zginął hetman:
  - A. Stefan Czarniecki,
  - B. Stanisław Żółkiewski,
  - C. Jan Karol Chodkiewicz.
  - D. Janusz Radziwiłł.
8. Traktat, w którym Polska zobowiązała się Turcji płacić haracz podpisano w:
  - A. Żurawnie,
  - B. Karłowicach,
  - C. Buczaczu,
  - D. Chocimiu.

9. Bezpośrednim skutkiem wojny w obronie konstytucji (1792) był:
- A. wybuch powstania kościuszkowskiego,
  - B. II rozbiór Polski,
  - C. sejm grodzieński,
  - D. konfederacja targowicka.
10. Pierwszą zwycięską dla Polaków bitwą w czasie powstania kościuszkowskiego była bitwa pod:
- A. Maciejowicami,
  - B. Szczekocinami,
  - C. Warszawą,
  - D. Raławicami.

**ZADANIE XVIII (0 – 3 p.)** Rozpoznaj autorów poniższych powiedzeń i wpisz ich imiona i nazwiska przy odpowiedniej cyfrze w KARCIE ODPOWIEDZI.

1. „Z samych panów zguba Polaków”.
2. „Takie będą Rzeczypospolite, jakie ich młodzieży chowanie”.
3. „Prawdziwa cnota krytyk się nie boi”.



**KONKURS HISTORYCZNY**  
dla uczniów gimnazjów – etap szkolny – rok szkolny 2014/2015

**KARTA ODPOWIEDZI UCZNI**

**KOD UCZNI** ..... **UZYSKANE PUNKTY** .....

---

**ZADANIE I (0 – 2 p.)**

1. ....
2. ....

**ZADANIE II (0 – 5 p.)**

1. ....
2. ....
3. ....

Monoteizm to .....

Przeciwieństwem monoteizmu jest .....

**ZADANIE III (0 – 5 p.)**

1. ....
2. ....
3. ....
4. ....
5. ....

**ZADANIE IV (0 – 8 p.)**


**ZADANIE V (0 – 3 p.)**

- A. ....
- B. ....
- C. ....

**ZADANIE VI (0 – 5 p.)**

1. ....
2. ....
3. ....
4. ....
5. ....

**ZADANIE VII (0 – 3 p.)**

1	2	3

**ZADANIE VIII (0 – 5 p.)**

1. ....
2. ....
3. ....
4. ....
5. ....

**ZADANIE IX (0 – 5 p.)**

ZAGADNIENIE	PIERWSZE WYDARZENIE	DRUGIE WYDARZENIE	TRZECIE WYDARZENIE
krucjata			
sobór			
religia			
chrzest			
spór o inwestyturę			

**ZADANIE X (0 – 5 p.)**

1. ....
2. ....
3. ....
4. ....
5. ....

**ZADANIE XI (0 – 8 p.)**

1. ....
2. ....
3. ....
4. ....
5. ....
6. ....
7. ....
8. ....

**ZADANIE XII (0 – 5 p.)**

1. Bolesław Chrobry - .....
2. Bolesław Śmiały - .....
3. Władysław Herman - .....
4. Bolesław Krzywousty - .....
5. Przemysł II - .....

**ZADANIE XIII (0 – 10 p.)**

<b>PRZYKŁAD</b>	<b>A</b>	<b>B</b>	<b>C</b>	<b>D</b>	<b>E</b>
<b>PIERWSZE WYDARZENIE</b>					
<b>OSTATNIE WYDARZENIE</b>					

**ZADANIE XIV (0 – 5 p.)**

1. ....
2. ....
3. ....
4. ....
5. ....

**ZADANIE XV (0 – 5 p.)**

1. ....
2. ....
3. ....
4. ....
5. ....

**ZADANIE XVI (0 – 4 p.)**

<b>SEJM</b>	<b>1</b>	<b>2</b>	<b>3</b>	<b>4</b>
<b>INFORMACJA</b>				

**ZADANIE XVII (0 – 10 p.)**

<b>PYTANIE</b>	<b>1</b>	<b>2</b>	<b>3</b>	<b>4</b>	<b>5</b>	<b>6</b>	<b>7</b>	<b>8</b>	<b>9</b>	<b>10</b>
<b>ODPOWIEDŹ</b>										

**ZADANIE XVIII (0 – 3 p.)**

1. ....
2. ....
3. ....